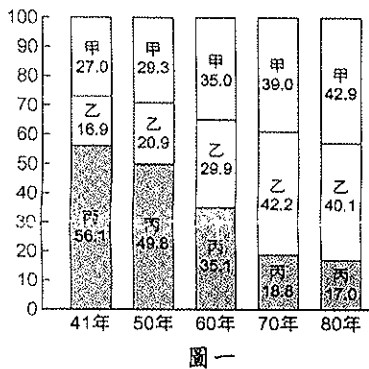


※選擇題，每題 2 分，共 50 題

- 各地區因為不同的環境背景發展的農業方式也不同。請問，臺灣的集約農業有哪些特徵？(甲)農地單位面積投入勞力較少 (乙)採用大規模機械耕種 (丙)單位成本高，競爭力較差 (丁)單位面積的產量較多。
(A)甲丙 (B)丙丁 (C)乙丁 (D)甲丁。
- 臺灣是個水果天堂，有令人垂涎的鳳梨釋迦、蘋果芒果、黑鑽石蓮霧等特產，這些特產都是臺灣經過不斷品種改良後的產品，目的是為了增加競爭力，請問這與台灣哪項農業特色有關？ (A)休閒農業興起 (B)經營趨向粗放 (C)農業勞力老化 (D)發展精緻農業。
- 近年來臺灣森林經營的方向，為下列哪一項？
(A)砍伐重於保育 (B)全面砍伐，增加外匯 (C)廣闢果園，種植高山蔬果 (D)重保育、永續利用、振興山村經濟。
- 台灣在民國八十年代以後，部分傳統產業外移至中國、東南亞地區，主要是因台灣哪一項優勢已逐漸消失？ (A)低廉的勞力 (B)廣大的市場 (C)便捷的交通 (D)豐富的礦產
- 圖(一)為臺灣產業結構變遷圖，其中「丙」為第幾級產業？
(A)第一級產業 (B)第二級產業 (C)第三級產業
(D)無法歸類

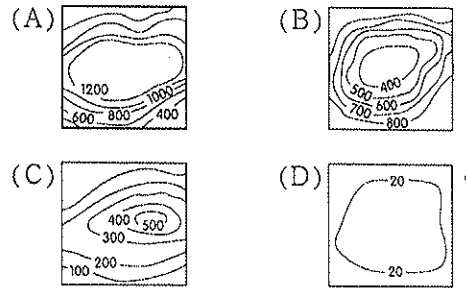


種類	範圍
甲漁業	>200 哩
乙漁業	12~200 哩
丙漁業	<12 哩

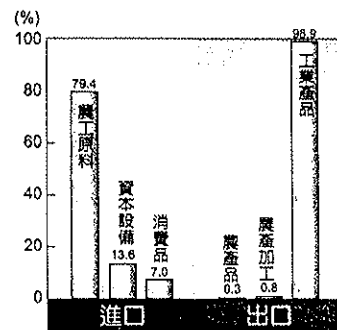
表一

- 參考表一，具有高經濟價值的烏魚和黑鮪魚屬於何種漁業？
(A)甲漁業 (B)乙漁業 (C)丙漁業 (D)養殖漁業
- 承上題，台灣漁業產值最高的為何種漁業？
(A)甲漁業 (B)乙漁業 (C)丙漁業 (D)養殖漁業
- 臺灣的產品多為出口導向，主要是受下列何種因素影響？
(A)國內市場小 (B)礦產資源多 (C)貿易依存度低
(D)服務業較發達
- 臺灣近年來積極推動科學工業園區，以帶動國家經濟進一步的發展。請問：目前臺灣哪一地區還沒有設立科學工業園區？ (A)北部 (B)中部 (C)南部 (D)東部
- 下列哪些工業屬於「輕工業」？ (甲)紡織工業 (乙)食品加工業 (丙)石油化學工業 (丁)鋼鐵工業
(A) 甲乙 (B)甲丙 (C)乙丙 (D)丙丁
- 政府積極參加國外旅展，行銷台灣美食並推展觀光，吸引許多國外旅客到台灣觀光旅遊。請問上述情形對於那一行業直接幫助最小？(A)旅館業 (B)餐飲業 (C)批發業 (D)運輸業
- 地理課時，老師與同學討論臺灣的產業發展狀況。下列哪一位同學的敘述是正確的？(A)小萱：七月到高雄可觀看到烏魚季的烏魚捕撈 (B)皓皓：酪農業主要生產鮮乳及乳製品 (C)小諺：黑鮪魚順著中國沿岸流來到台灣周圍 (D)阿昶：目前台灣以第一級產業為主

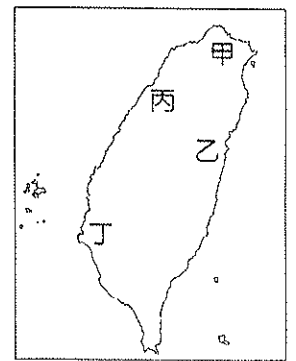
- 台灣進出口貿易夥伴中，台灣商品出口總額最大的是何國？
(A)日本 (B)美國 (C)中國 (D)南韓
- 臺灣工業發展歷程中，各階段的主力皆不同，諸如(甲)半導體工業(乙)鞋業(丙)成衣業(丁)生物科技業。請問：這些主要工業中，哪些屬於技術密集的產業？
(A)甲乙 (B)丙丁 (C)乙丙 (D)甲丁
- 臺灣在民國 70 年代的工業活動由重工業轉型為資訊工業，最主要的原因有哪些？(甲)勞工不足(乙)環保意識高漲 (丙)工資上漲(丁)資金不足
(A)甲乙 (B)丙丁 (C)甲丁 (D)乙丙
- 冠冠想要到茶葉產地參觀茶葉生產過程，應到下列哪一個地形區最為合適？



- 臺灣自 50 年代工業發展，一直到現代，產業類型不斷轉變。若依其發展主軸順序加以排列，應該為下列何者？
(A)輕工業→電子代工→自創品牌→重工業 (B)輕工業→生物科技→電子代工→重工業 (C)輕工業→重工業→自創品牌→電子代工 (D)輕工業→重工業→電子代工→自創品牌
- 圖(二)是台灣某年進出口的主要商品表。依據圖中資料判斷，台灣工業發展具有下列哪一項特色？
(A)工業原料缺乏 (B)消費市場大 (C)勞工薪資上漲
(D)工廠分布集中



圖二



圖三

- 參考圖(三)，因發展養殖漁業而發生地層下陷的海岸是：
(A)甲 (B)乙 (C)丙 (D)丁
- 下圖甲、乙、丙、丁為肉鬆製造到行銷的各個階段，其中哪個階段是屬於第二級產業？ (A)甲(B)乙(C)丙(D)丁
(甲) (乙) (丙) (丁)
養豬 → 運送 → 加工、包裝 → 運送 → 商人批發、販賣
- 台灣近年來出現多「蔬果、花卉專業生產區」，大多分布在何處？ (A)北部 (B)中部 (C)東部 (D)離島
- 造成臺灣稻米產量有供過於求現象的主要原因為何？(甲)單位面積產量的增加(乙)飲食習慣的改變(丙)人口出生率的降低(丁)稻田面積的擴大
(A)甲丙 (B)甲乙 (C)丙丁 (D)乙丁
- 臺灣加入世界貿易組織(WTO)後開放國外的農畜產品進口。請問此政策對臺灣哪一畜產品影響最小？
(A)鮮奶 (B)雞肉 (C)麵粉 (D)牛肉

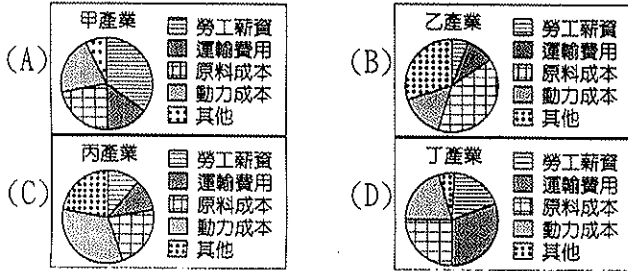
24. 水深二百公尺內的淺海地形，為陸地的延伸，此海底地形稱為何？(A)領海 (B)經濟海域 (C)大陸棚 (D)公海
25. 表二為民國 91 年臺灣主要貿易地區進出口統計表。請問臺灣對哪個地區的入超值最大？
(A)美國 (B)日本 (C)香港 (D)馬來西亞

(單位：億美元)

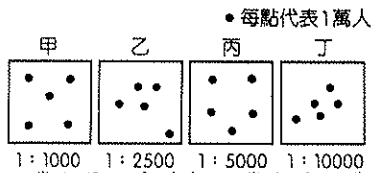
項目\地區	美國	日本	香港	馬來西亞
進口	180.9	272.8	17.4	41.5
出口	267.6	119.8	308.5	31.3

表二

26. 承上題，臺灣對哪個地區的出超值最大？
(A)美國 (B)日本 (C)香港 (D)馬來西亞
27. 隨著經濟活動的改變，農業類型也隨之不同。請問目前臺灣地區主要的經濟作物為何？(A)稻米、甘蔗(B)小麥、茶葉 (C)蔬果、茶葉 (D)棉花、花生
28. 臺灣自民國 80 年代以來，商業型態有很大的改變，以下敘述何者錯誤？(A)連鎖便利商店愈來愈多 (B)便利商店的設置盡量避免土地昂貴的市中心 (C)電視購物提供另類購物選擇方式 (D)網路購物能克服距離的限制
29. 台灣勞工受到最低工資以及法定工作時數的保障，這些保護對於下列何種產業影響最大？



30. 畜牧業的發展受到自然及人文因素的影響，附圖中哪一個地區的畜牧業活動類型最可能為欄牧？
(A)甲 (B)乙 (C)丙 (D)丁。



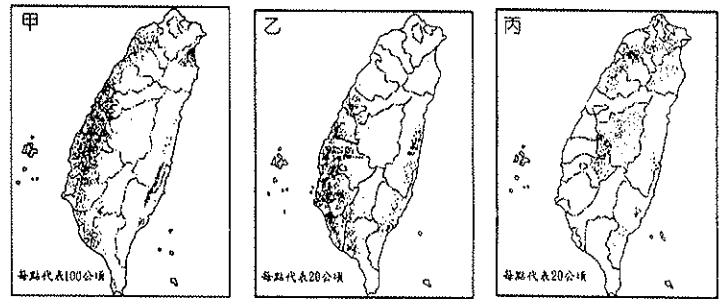
31. 傳統的工業主要可分為輕工業與重工業，下表中關於兩者的比較何者錯誤？(A)甲 (B)乙 (C)丙 (D)丁

項目	(甲)	(乙)	(丙)	(丁)
產品重量	輕	小	資本	紡織工業
工廠規模	重	大	勞力	機械工業

32. 近年來，臺灣地區的工資不斷上漲，導致勞工區位的工業，紛紛移往東南亞或中國等地設廠。下列何種工業最可能外移？(A)成衣工廠 (B)鋼鐵工廠 (C)玻璃工廠 (D)生物科技產業
33. 相較於西部地區，臺灣東部的工業發展較落後，最主要是受哪兩項因素影響？(A)地形、氣候 (B)勞工、原料 (C)氣候、原料 (D)地形、交通
34. 根據臺灣地理環境，下列何者與臺灣各地的產業發展相符合？(A)臺灣北部氣溫較高，昔日甘蔗與糖廠多分布北部 (B)稻米需要高溫多雨的環境，適合於全臺灣較平坦地區種植 (C)北部都市人口多，為臺灣主要蔬果和花卉生產區 (D)東部地區人煙稀少，為臺灣主要畜牧區

35. 政府推動海上箱網養殖的技術，以緩和養殖漁業對環境所造成的破壞。請問：養殖漁業對臺灣帶來哪一種環境災害？
(A)土石流 (B)水源汙染 (C)地層下陷 (D)溫室效應
36. 佑佑是個頭腦靈活的商人，他最近從事某種商品買賣，此種商業活動不僅不會受限於有形的店面，也超越的距離的限制。請問：佑佑從事的是下列何種商業活動？
(A)量販 (B)零售 (C)網路購物 (D)批發
37. 下列關於「出超」的敘述，哪一項錯誤？
(A)出口<進口 (B)可增加外匯 (C)貿易具有優勢 (D)台灣目前國際貿易呈現出超
38. 台灣的連鎖超商不僅數量多且密度也高。請問，下列關於連鎖超商的敘述何者錯誤？(A)為零售業 (B)以量制價 (C)營業時間長 (D)提供多元服務
39. 台灣某些農作區早期以種植稻米、甘蔗等傳統作物為主，後來朝向蔬果花卉專業化發展，其背景與下列何者有關？
(A)中山高速公路通車 (B)對於休閒農業重視度降低 (C)對於稻米的需求量大 (D)土地汙染嚴重

※下圖為台灣三種重要農作物的分布圖，回答第 40~44 題：



40. 這種類型的統計圖也可以用來呈現下列哪一種分布？
(A)臺灣地形分布 (B)臺灣年均溫變化 (C)臺灣人口分布圖 (D)臺灣河川分布圖
41. 水稻為台灣重要的農作物，請問上圖中何者最可能是水稻的分布圖？(A)甲 (B)乙 (C)丙。
42. 下列有關台灣水稻發展的敘述中，何者錯誤？(A)水稻主要分布在平原地區 (B)水稻為台灣種植面積最廣的農作物 (C)因人口增加，水稻的種植面積亦逐年增加 (D)是台灣最主要的糧食作物。
43. 甘蔗喜歡生長在溫暖多雨的平原，此種作物最可能分布在下列哪一地區？(A)臺北盆地 (B)宜蘭平原 (C)埔里盆地 (D)嘉南平原。
44. 台灣在 2002 年加入世界貿易組織之後，目前農田的因應對策為下列何者？(A)全面廢耕，改為工業用地 (B)全面採用機械化耕作 (C)改種高品質、高價值的農作物 (D)全面進口外國農產品。

※選出各類工廠最理想的工業區位。回答第 45~50 題

A 原料 B 交通 C 市場 D 勞力 E 政策

45. 臺灣的鋼鐵廠主要集中在高雄地區，優先考慮的區位為何？
46. 玻璃成品易碎，不適合長途運輸，優先考慮的區位為何？
47. 製鞋工廠、成衣工廠為了提高利潤，適合設置在何種區位？
48. 將水泥工廠設在花蓮，有何區位優勢？
49. 新竹科學工業園區的設置除了有高技術勞力的考量外，主要是因為何種區位？
50. 宜蘭南方澳鯖魚產量高，也使得南方澳成為鯖魚罐頭的主產地。此種魚罐頭工廠屬於何種區位？

〈試題結束〉