

壹、單選題 (每題 2 分)

- 美國設置的第一個國家公園—黃石國家公園，主要是因為何種地形而聞名於世？(A)峽谷地形 (B)火山地形 (C)冰河地形 (D)黃土地形。
- 關於北美自由貿易協定，何者的說法是正確的？(A)巴西為主要勞力來源(B)在美墨邊境的美國境內設立許多加工出口區 (C)美國是資金與技術提供者(D)使用共同貨幣—美金。
- 烏拉圭的都市化程度為 93%、阿根廷為 90%、委內瑞拉為 88%、智利 87%，皆高於美國的 79%。請問：下列何者是中南美洲國家都市化程度高的主要原因？(A)工業化程度高 (B)都市的福利較佳 (C)產業以第二、三級為主(D)鄉村經濟蕭條。
- 下列有關美國工業中心的產業配對，何者正確？(A)休士頓：電影工業(B)底特律：汽車工業(C)西雅圖：石化工業(D)舊金山：太空工業。
- 台灣 22 個邦交國中，有 12 個位於中美洲。請問：下列關於中美洲的敘述何者正確？(A)中美地峽地形崎嶇，常有火山和地震活動(B)海地為加勒比海上最大島嶼(C)因紐特人的原住民文化在此地已有數千年歷史(D)各國大多以葡萄牙語作為官方語言。
- 中南美洲的文化十分豐富而多元，從嘉年華會的形式、拉丁音樂的表現，皆顯示出是多種文化融合而成的結晶。請問：中南美洲的多元文化與下列何者較無直接關係？(A)歐洲白人 (B)印地安人(C)非洲黑人(D)阿拉伯人。
- 阿根廷位於南美洲的溫帶地區，然而卻未形成典型的溫帶大陸性氣候，其原因最可能為何？(A)缺乏遼闊陸地(B)西風終年吹拂(C)沿海洋流影響 (D)地勢起伏太大。
- 北美洲的東部地區礦產相當豐富，因此成為早期工業發展的重心。請問：該地區礦產豐富的主要原因為何？(A)板塊活動 (B)古老地塊(C)高溫多雨(D)面積廣大。
- 下列有關世界之最的敘述(甲)世界最長的山脈落磯山脈(乙)世界最大的高原在巴西(丙)世界年溫差最大在俄羅斯(丁)世界面積最大國家是美國(戊)世界二氧化碳排放量最多的是中國(己)世界流量最大的河川亞馬孫河(庚)世界最高的首都玻利維亞的拉巴斯，正確的有幾項？(A)3 項(B)4 項(C)5 項(D)6 項。
- 各地受到自然環境差異的影響，會產生不同的地理現象，下列哪一個地理現象的成因和其他三者不同？(A)小麥的栽種可分成「春麥帶」和「冬麥帶」，加拿大多為春麥，美國則是冬麥(B)每年日本九州櫻花開花的時間比北海道早一個月(C)內蒙古高原東側傳統產業以放牧為主，西部以游牧為主 (D)中國南部農業收穫次數二到三次，北部一次到二次。
- 中國擁有的自然資源相當豐富，且種類眾多僅次於美國與俄羅斯，然而每人平均偏低，最主要的原因為何？(A)自然災害頻繁(B)政治體制影響(C)經濟過度開發(D)人口總數眾多。
- 「新華社 1041029 報導：中共第十八屆中央委員會第五次全體會議通過全面實施夫婦生育兩個孩子、以因應人口老化的決議，長達三十六年的一胎化管制政策正式走入歷史。」請問：一胎化政策所帶來的影響除了人口老化之外，也包括下列何者？(A)死亡率上升(B)人口分布不均(C)人口素質降低(D)幼年性別比失衡。
- 青藏高原的冰河有「亞洲水塔」之稱，是長江、黃河的發源地，近年來由於全球暖化導致冰河覆蓋面積日益縮減，短期大量融雪會造成周遭地區淹水，長期來看則可能引發哪一項

環境問題？(A)地層下陷(B)供水不足(C)海水入侵(D)土地荒漠化。

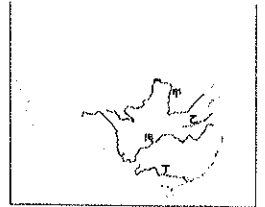
- 右圖為中國三大經濟帶分布圖。請問：

下列何者對於各經濟帶發展狀況的敘述完全正確？(A)經濟特區及沿江、沿海城市均位於甲區(B)乙區涵蓋重要農業糧食產區，如天府之國—四川盆地(C)青藏鐵路鐵路的完工對丙區的影響最大(D)近年來，勞力密集工業呈現乙區往丙區移動情形。



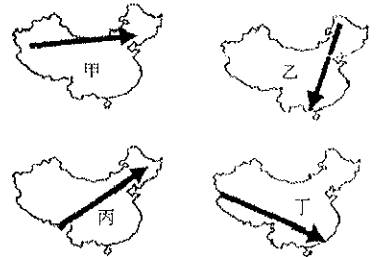
- 繼香港迪士尼樂園之後，上海迪士尼預計於西元 2016 年六月開幕，這將是中國境內第二座迪士尼樂園。請問：上海迪士尼樂園的成立，主要是基於中國的何種優勢？(A)優良的政策 (B)勞工工資低廉(C)物產豐饒(D)廣大的市場。

- 中國為了解決華北地區用水不足的情形，展開「南水北調」的工程。請問此工程是將哪一條河川的水引至華北地區？(A)甲(B)乙(C)丙(D)丁。



- 加拿大的魁北克省因文化間差異，曾多次以公民投票爭取獨立。請問：該省份主要受到歐洲哪一個國家文化影響？(A)法國(B)英國(C)西班牙(D)葡萄牙。
- 下列有關於巴拿馬運河的敘述，何者正確？(A)位於西印度群島(B)聯絡太平洋和大西洋(C)由法國出資建造，1999 年歸還巴拿馬政府(D)氣候因素，需利用水閘控制水位。
- 北美洲有許多湖泊，其中最著名的就是尼加拉瀑布所在的五大湖，請問：形成五大湖的營力為下列何者？(A)溶蝕作用(B)風蝕作用(C)河蝕作用(D)冰蝕作用。

- 近來中國發生嚴重沙塵暴，常常使得首都北京天空一片灰塵，對民眾健康、交通、工作影響極大。而荒漠化是導致沙塵暴的關鍵，如果中國中央電視台要以空拍機拍攝荒漠化地區，圖中哪一路線才能清楚呈現？(A)甲(B)乙(C)丙(D)丁。



- 承上題，中國沙塵暴最容易發生在哪些季節？(A)春、夏季 (B)夏、秋季 (C)秋、冬季 (D)冬、春季。
- 「墨西哥首都墨西哥城平均高度為 2240 公尺，哥倫比亞首都波哥大高度 2625 公尺。」這些中南美洲國家的首都為何都選在地勢較高之處？(A)居高臨下，戰爭時利於防守(B)平地多作為農業、林業、或採礦用地，山上較有都市發展空間(C)山上空氣較清新，生活品質較佳 (D)國家位在低緯度，平地太濕熱，山上氣候較涼爽。
- 承上題，中南美洲部分國家如巴西、阿根廷的人口密集都市則位於東南沿海地區，請問下列何者非其人口密集之因？(A)地形較為平坦，適合人居 (B)為夏雨型暖溫帶氣候區 (C)殖民輸出農礦資源背景(D)水力資源充足。

貳、題組 (每題 2 分)

◎某地區農業經營的方式是：「土地利用呈垂直變化，在 2000 公尺以下的坡地和低地，作物以咖啡、可可、甘蔗、香蕉為主；2000 公尺以上的高地，多種植玉米、小麥和馬鈴薯等；高度更大的山區，則用以畜牧。」請依上文，回答 24~26 題：

- 此地區農業經營方式，最可能出在哪一種氣候區？(A)高地氣候(B)熱帶雨林(C)溫帶季風(D)溫帶大陸性。
- 哪一個地區最可能出現該種農業經營方式 (A)落磯山脈南段

(B)青藏高原北部(C)安地斯山北部(D)阿爾卑斯山東段。

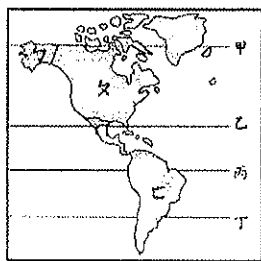
26. 根據文中的作物組合，在 2000 公尺以下的坡地應該屬於哪一種農業經營類型？(A)自給性農業(B)混合農業(C)熱帶栽培業(D)商業性農業。

◎《白鯨記》是描述 1820 年「艾塞克斯號」捕鯨船在南太平洋遭到抹香鯨攻擊的始末。該船的航程大致如下：「從美國東北角的家鄉出發後，順北大西洋暖流向東航行，後又順著加那利洋流與東北風南下，越過赤道後，沿著巴西暖流南下，經過南美最南端受到強勁(甲)風的影響，費力地穿越(乙)海峽，之後才順著智利沿岸，到太平洋東南漁場找尋更多的鯨魚，不幸卻遭到鯨魚衝撞，二十餘人逃離被擊碎的船後，改乘小船，靠風帆漂流了四千五百哩，最後僅二人獲救。」請依上文，回答 27~28 題：

27. (甲)風是指：(A)東風 (B)西風(C)南風(D)北風。
28. (乙)海峽是指：(A)麥哲倫海峽(B)麻六甲海峽(C)直布羅陀海峽(D)巴士海峽。

◎下圖為美洲簡圖，請依圖回答 29~32 題：

29. 哪一條線是赤道(A)甲(B)乙(C)丙(D)丁。
30. 哪兩區合稱為「拉丁美洲」？(A)々々(B)々口(C)口口(D)々々。
31. 圖中口、口的界線是下列何者？(A)巴拿馬(B)赤道(C)北回歸線(D)墨西哥。



32. 在阿拉斯加有一個傳說，看到極光會幸福一輩子，請問圖中哪一個地區最有可能驗證此一傳說(A)々(B)々(C)口(D)口。

◎下圖是美國農牧業分布圖。請依圖回答 33~36 題：

33. 美國的農業具有哪些特色？(甲)農場面積廣大(乙)商品化導向(丙)粗放耕作(丁)單位面積產量大(戊)自給自足。正確的有：(A)甲乙丙(B)甲乙丁(C)乙丁戊(D)丙丁戊。
34. 此種經營型態可能有何種風險？(A)勞力不足(B)生產過盛(C)總產量降低(D)機械化程度降低。



35. 影響甲區分布位置的主要原因為下列何者？(A)水運交通便利(B)勞力來源充足(C)鄰近主要市場(D)氣候溫暖潮溼。
36. 美國歷史上的南北戰爭與過去利用黑奴作為勞力栽培棉花有關，請問下列哪個地區可能是以前黑奴最多的地區？(A)乙(B)己(C)庚(D)辛。
37. 加州的氣候十分適合農作物的生長，特別是葡萄、柳橙，此區應是在？(A)戊(B)己(C)壬(D)辛。

◎下圖為中國農牧業分區圖，請回答 38~40 題：

38. 關於乙、丁兩區畜牧方式不同的主要原因是？(A)地形 (B)雨量 (C)土壤 (D)氣溫。
39. 有關丁區的敘述，何者正確？(A)居民信奉伊斯蘭教(B)當地傳統的交通工具為駱駝(C)多為干欄式建築(D)發展灌溉農業，種植青稞。



40. 沿著甲區到丙區自北往南旅行，沿途所見的景觀變化，下列敘述何者最為正確？(A)一望無際的平原→雪山連綿，冰河廣布(B)沿途樹木變化由常綠闊葉林→混合林→針葉林(C)陽春三月，沿途

見到人群的服裝變多變厚(D)旱地麥浪如金，蘋果梨子初上枝頭→河湖眾多、魚池、稻田隨處可見。

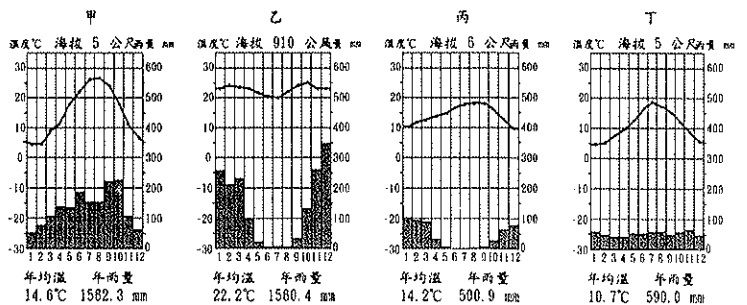
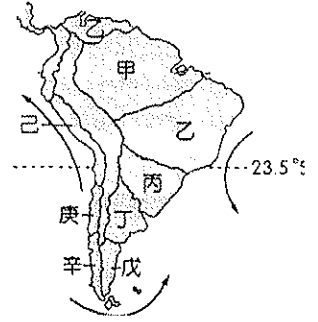
◎右圖是南美洲氣候分布簡圖。請依圖回答 41~44 題：

41. 聯合國推動的「熱帶雨林行動方案」主要位於圖中那一地形區內？(A)甲(B)丙(C)己(D)辛。

42. 戊區沙漠的成因有(甲)副熱帶高壓籠罩(乙)背西風(丙)寒流經過(丁)涼流經過(戊)位居內陸，正確的有哪些？(A)甲丁(B)乙丙(C)甲戊(D)丙戊。

43. 智利具有己、庚、辛等多樣性的氣候，主要是受到什麼因素的影響？(A)東西所跨經度大(B)地形複雜(C)赤道經過(D)南北所跨緯度大。

44. 下列哪一張氣候圖能代表乙區？(A)甲(B)乙(C)丙(D)丁。



◎下圖是中南美洲分布簡圖。請依圖回答 45~47 題：

45. 中南美洲農礦資源豐富，請選出下列國家與其著名的資源配對有誤：(A)甲—銀礦 (B)乙—咖啡(C)丙—小麥與牛肉(D)丁—石油。

46. 金磚四國(BRICs)是指四個主要的新興市場，他們的共同點為土地面積大、人口多，非已開發國家和被認為有一定的發展潛力。請問：圖中哪一個國家最有可能是其中一員？(A)己 (B)丁 (C)丙 (D)乙

47. 華碩電子前往中南美洲設廠，其考量的因素是能擁有低廉工資的勞工，亦可免關稅的銷往美國。因此華碩電子設廠的地點應為下列何處？(A)甲 (B)丁 (C)戊 (D)己

◎右圖是美國簡圖。圖中甲、乙、丙、丁、戊、己、庚代表氣候區；A、B、C、D 代表河流。請依圖回答 48~50 題：

48. 圖中哪一條河川是北美洲航運價值最高的河川？(A)A (B)B (C)C (D)D。

49. 「2005 強烈颶風卡崔納夾帶狂風豪雨重創美國沿海地區，路易斯安那城市「新奧爾良」幾乎全泡在水中…」請問報導中的颶風是從圖中何處開始登陸侵襲美國？(A)乙(B)丁(C)戊(D)己。

50. 溫帶大陸性氣候最主要位於下列何處？(A)甲(B)丙(C)丁(D)戊。

