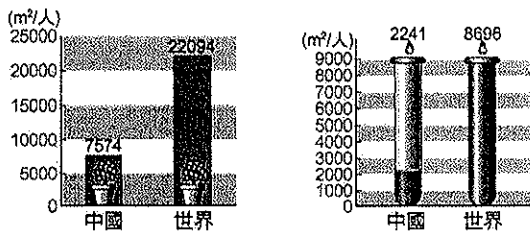


※選擇題：每題2分，共50題

- 畫分中國境內農、牧業活動及稻、麥分布區的界線，分別為下列哪些？【甲】500毫米等雨量線【乙】250公尺等高線【丙】一月月均溫0℃等溫線【丁】七月月均溫20℃等溫線
(A)甲乙 (B)丙丁 (C)甲丙 (D)乙丁。
- 新疆烏魯木齊盛產石油，小明打算在附近設立石化工廠。請問：他在設廠時，所考慮的主要區位因素為何？
(A)勞工 (B)市場 (C)原料 (D)交通。
- 承上題，該工廠所生產的工業產品欲外銷至日本，下列四種運輸方式何者成本最低？(A)全程空運至日本 (B)先用貨車運載至海港，再空運至日本 (C)先由中國東西向鐵路載至海港，再海運至日本 (D)長江水運送達天津，再海運至日本。
- 中國土地資源利用大致以地勢三級階梯為分界，哪一區部分地區凍土面積廣大，生態環境脆弱，不利大規模開發？
(A)第一級階梯 (B)第二級階梯 (C)第三級階梯。
- 下面三張圖為中國的人均土地面積及水資源與世界平均值的比較。請問：造成中國各項資源低於世界平均值的原因為何？
(A)國土面積大 (B)氣候變遷 (C)水土流失 (D)人口過多。



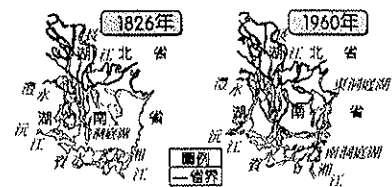
- 下圖為土壤鹽鹼化過程圖，圖中「甲」代表的是什麼？
(A)地表逕流下滲至土壤中 (B)天然降水落到土壤中 (C)對土壤進行人為的灌溉 (D)對土壤施放肥料。



- 綿羊、犛牛為中國垂直移動游牧區的主要牲畜，請問：關於垂直移動游牧的移動方式，下列何者正確？
(A)春季上山、秋季下山 (B)夏季上山、冬季下山 (C)冬季上山、夏季下山 (D)秋季上山、春季下山
- 中國的東部沿海地區經濟活動相當發達，因此形成區域發展不均的問題。請問：中國東部沿海地區經濟發展的有利條件中，未包括下列何者？(A)鐵公路線密集 (B)沿岸出海便利 (C)礦藏資源豐富 (D)人口多且密集。
- 美國有線電視新聞網 (CNN) 報導：「受到中國沙塵暴的影響，美國西岸今日的空氣懸浮微粒指數飆高，提醒有呼吸道疾病的民眾應盡量避免出門，外出時也請戴上口罩做好保護措施……。」請問：上述內容可能發生在下列哪一個時節？
(A)春末夏初 (B)夏末秋初 (C)秋末冬初 (D)冬末春初
- 中國境內目前正實施多項環境保護相關工程，其中有「綠色長城」之稱的為下列何種工程？
(A)築堤 (B)建壩 (C)造林 (D)圍湖。
- 小安為了準備期末考，整理了一張中國西半部傳統農牧型態的簡表，如下表所示，請問表中資料哪一項不正確？
(A)甲 (B)乙 (C)丙 (D)丁

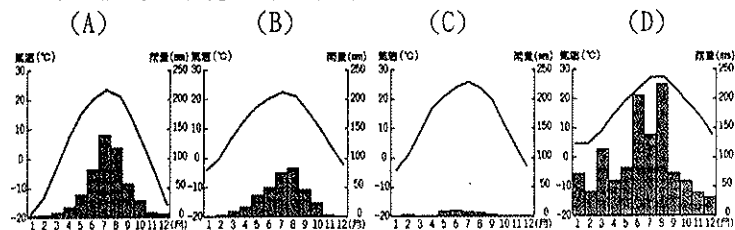
地區	農牧型態
(甲) 水草豐美處	攔牧
(乙) 沙漠邊緣	游牧
(丙) 綠洲地區	綠洲農作
(丁) 青藏高原	山牧季移

- 洞庭湖曾經為中國第一大淡水湖，而近年湖泊面積大為縮小，已小於鄱陽湖退居第二，請問造成洞庭湖面積縮小的原因，除了自然的泥沙淤積之外，主要的原因為何？(A)氣候變遷 (B)長江河流改道 (C)實施圍湖造田 (D)地勢抬升
- 「2007年3月5日內蒙古高原一群放學的學生走在回家的路上時，一場黑風暴突然襲擊，驚慌失措的孩子們被狂風捲起，有的被強風吹倒，有些被沙塵灌入口鼻而窒息……」文中所描述的現象，可能藉由什麼風向吹向華北地區？
(A)東北風 (B)西北風 (C)東南風 (D)西南風
- 新疆位於中國最西邊，氣候乾旱、交通不便，過去經濟發展較為緩慢，但近年在發展策略上有「黑白」戰略之說，黑指的是石油，而「白」可能是指何種作物？(A)稻米 (B)白甘蔗 (C)小麥 (D)棉花
- 中國大陸地區最近計畫實施的「南水北調」工程，主要是為了解決何項問題？
(A)南部雨量過多、易生水患 (B)北方荒漠化情形嚴重 (C)南方用水量減少 (D)北方缺水情形嚴重
- 承上題，「南水」指的是哪一條河川？
(A)珠江 (B)長江 (C)黃河 (D)黑龍江
- 每一種產業都有屬於自己的環境特色才得以發展起來。請問：中國西半部畜牧區所具備的共同地理環境特徵是下列哪一項？(A)氣溫變化小 (B)地勢高聳 (C)人口最多 (D)雨量較少
- 東北地區過去以栽種小麥、雜糧為主，但近年水稻種植面積大幅提升，年產量甚至超越長江下游的浙江省，造成此種變化最可能的原因是？(A)全球暖化，氣溫升高 (B)人口大量移入 (C)水利設施較前發達 (D)農業勞動力增加
- 廣州位於中國經濟最活躍的區域之一，毗鄰香港、澳門，地理位置相當優良，而且擁有完善的鐵路、公路運輸網絡，請問：廣州位於中國經濟活躍的地區，該區域是指下列何者？
(A)西部經濟帶 (B)珠江三角洲 (C)長江三角洲 (D)環渤海地區
- 下圖為中國洞庭湖的面積變遷示意圖，依圖中資訊判斷，當地最可能出現下列哪一種環境問題？




- (A)土壤鹽鹼化 (B)沙塵暴擴大 (C)水患頻率增加 (D)凍土面積廣布
- 目前在上世界上相當多個國家都能夠買到中國製造的物品，這與中國的何項特色最相關？(A)農礦產資源豐富 (B)邊境貿易活絡 (C)國內消費市場大 (D)勞工多且工資低廉
- 改革開放政策後，中國經濟快速成長，形成東部、中部、西部三大經濟帶，請問：下列哪一條鐵路可以同時聯繫三大經濟帶？(A)哈大鐵路 (B)京廣鐵路 (C)隴海鐵路 (D)青藏鐵路
- 連鎖咖啡、護膚美容業紛紛在中國開店，在區位選擇上主要考量的條件為何？(A)市場大小 (B)勞力來源 (C)土地取得 (D)電能供應
- 農作物收穫次數的多寡和該地生長季的長短有關。依此判斷，下列哪個中國地理區的作物收穫次數可能最多？
(A)東北平原 (B)華北平原 (C)長江三角洲 (D)珠江三角洲

25. 下列各項中國工程中，哪一項對於調節水資源分配不均的幫助最大？(A)退田還湖工程 (B)南水北調工程 (C)西氣東輸工程 (D)西電東送工程
26. 下列哪一項對策並不是針對第二級階梯的土地資源問題而提出的？(A)退耕還牧 (B)退田還湖 (C)退耕還林 (D)綠色長城
27. 曾經有人戲稱：「如果每十個中國人就有一個人每天都買一瓶可口可樂，那麼可口可樂在中國的銷售量將令人為之瞠目結舌。」上述論點說明了中國市場具有下列哪項特色？(A)技術密集(B)平均收入高(C)人口眾多(D)勞力密集
28. 早期台商多在中國投資輕工業，如紡織製造與電子用品生產。請問：若以距離為考量基準，台商可能在哪個工業地帶投資設廠？(A)喀什經濟特區 (B)環渤海地區 (C)長三角地區 (D)珠三角地區
29. 「三北防護林」西起新疆，東至黑龍江省，綿延萬里，工程浩大。請問：此「三北」是指哪三個地區？(甲)東北 (乙)華北 (丙)西北 (丁)華中 (戊)華南 (己)青藏 (A)甲乙丙 (B)甲丙己 (C)乙丙己 (D)乙丁戊。
30. 承上題，「三北防護林工程」所因應的環境問題，是由哪些自然和人文因素所造成？(甲)氣候乾燥(乙)地勢高聳(丙)過度放牧(丁)圍湖造田(戊)濫伐森林 (A)甲乙戊 (B)乙丙丁 (C)甲丙戊 (D)甲丁戊
31. 下列哪一項環境問題較不可能發生在第二級階梯中？(A)沙漠化 (B)鹽鹼化 (C)水土流失 (D)凍土融化
32. 承上題，南水北調的「西線工程」遲遲未動工，最主要面臨的困難為何？(A)通過下游人口稠密區，河水污染嚴重 (B)地勢高聳，多斷層線通過 (C)穿過黃河，丹江口水庫興建不易 (D)降雨不穩，三峽大壩供水短缺
33. 近年來，中國畜牧業的生產規模逐漸擴大，並朝向商業化、企業化的方式經營，主要的原因為何？(A)農作物產量不足 (B)人力的缺乏 (C)畜產市場需求的增加 (D)氣候的變遷
34. 中國水土流失最嚴重的是哪個地形區？(A)青藏高原 (B)黃土高原 (C)雲貴高原 (D)內蒙古高原。
35. 近年來，乾燥氣候區的河川水量愈來愈少，是下列哪項人類活動所造成？(A)畜牧業 (B)重工業 (C)養殖漁業 (D)灌溉農業。
36. 中國在下列哪些地區設置經濟特區，以吸引外國企業投資？(A)河北、山東、江蘇、福建 (B)江蘇、浙江、海南、廣東 (C)河北、山西、陝西、黑龍江 (D)福建、廣東、海南、新疆維吾爾自治區
37. 承上題下列哪個中國經濟特區距離臺灣最近？(A)深圳 (B)珠海 (C)喀什 (D)廈門
38. 住在中國的王先生從公司退休後，希望回到鄉下種田，過著閒居的農村生活。請問：王先生若想種植小麥，應選擇下列哪一種氣候環境的耕地最適合？



39. 承上題，適合栽種小麥的氣候應該為下列何種？(A)熱帶季風 (B)溫帶季風 (C)溫帶草原 (D)溫帶沙漠

40. 中國的經濟帶依其特性分為東部、中部和西部。下列為某要項的分布比例圖，請問：其主題最可能為下列何者？(A)工業產值 (B)就業人數 (C)土地面積 (D)工廠數量



※題組一：請配合附圖回答下列問題：

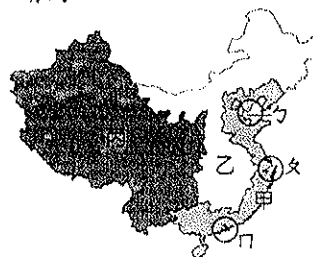


41. 甲、乙、丙三地的畜牧方式為何？(A)欄牧、放牧、游牧 (B)欄牧、水平游牧、垂直游牧 (C)放牧、水平游牧、垂直游牧 (D)水平游牧、垂直游牧、放牧
42. 乙、丙兩地畜牧方式不同，是受到哪項因素影響？(A)地形 (B)降雨量 (C)緯度 (D)土壤
43. 甲、乙兩地畜牧方式不同，是受到哪項因素影響？(A)地形 (B)降雨量 (C)緯度 (D)土壤

※題組二：中國的水資源豐富，但是因人口眾多，每個人所分配到的水資源很少，而且水資源分布的時間和空間也很不均。請問：

43. 有關中國水資源分布的特徵，下列何者敘述正確？(A)南多北少 (B)冬多夏少 (C)西多東少 (D)春多秋少。
44. 高地氣候區雖然水資源總量不及季風氣候區，但是平均每人所擁有的水資源量卻為三區之冠，其主要的原因為何？(A)植物茂密 (B)融雪量豐 (C)人口稀少 (D)土壤肥沃。
45. 若河川跨越國界，水資源的使用便成為與鄰國之間的重要課題，必須謹慎處理，否則可能會引發國際衝突。請問：中國哪個地區較沒有河川跨國界問題？(A)東北地區 (B)華中地區 (C)華南地區 (D)青藏地區。

※題組三：中國目前大致可分為東部、中部及西部三大經濟帶，如附圖所示。請問：



46. 中國目前的都市與商業中心大多集中於附圖中的哪一個經濟帶？(A)甲區 (B)乙區 (C)丙區
47. 附圖中甲區具備哪些優於其他經濟帶的工商業發展條件？(A)礦產豐富、交通便利 (B)交通便利、工資低廉 (C)礦產豐富、人口密集 (D)人口密集、交通便利。
48. 附圖中丙經濟帶工商業發展較緩慢，限制此區經濟發展的因素為何？(A)缺乏礦產、交通不便 (B)交通不便、土地狹小 (C)土地狹小、人口稀少 (D)人口稀少、交通不便。
49. 附圖中乙、乙、丙三個經濟圈是目前帶動中國經濟發展的火車頭。請問：乙、乙、丙依序是哪些經濟圈？(A)環渤海區域、長江三角洲、珠江三角洲 (B)珠江三角洲、長江三角洲、環渤海區域 (C)環渤海區域、珠江三角洲、長江三角洲 (D)長江三角洲、環渤海區域、珠江三角洲
50. 三大經濟帶的產值大小為何？(A)甲 > 乙 > 丙 (B)乙 > 丙 > 甲 (C)丙 > 甲 > 乙 (D)乙 > 甲 > 丙

【試題結束】