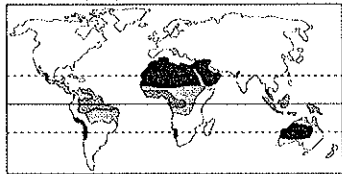


宜蘭縣立羅東國中 104 學年度第一學期九年級地理科第一次段考試卷

選擇題：每題 2 分，請用 2B 鉛筆作答

※(甲)熱帶雨林氣候 (乙)熱帶莽原氣候 (丙)熱帶沙漠氣候
(丁)溫帶地中海型氣候 (戊)溫帶海洋性氣候 (己)溫帶大陸性氣候。請回答 1~5 題：

1. 附圖(一)黑色區域是何種氣候？(A)甲 (B)乙 (C)丙 (D)丁。



圖(一)

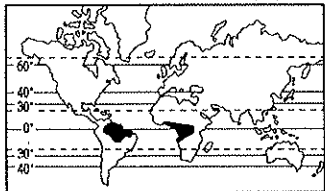


圖(二)

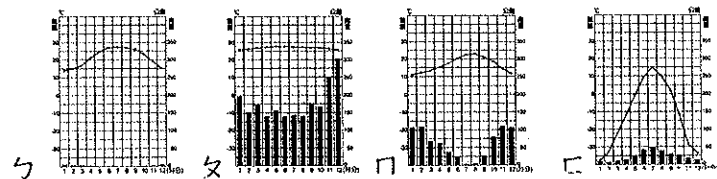
2. 承上題，該氣候區的植物景觀是什麼？(A)缺乏植被 (B)草原廣大 (C)多灌木林，林下長草繁生 (D)林類繁雜，高林茂密，林中藤蔓攀延。

3. 附圖(二)可能為何種氣候區？(A)乙 (B)丙 (C)戊 (D)己。

4. 附圖的深色處為何種氣候區？(A)甲 (B)丙 (C)丁 (D)戊。

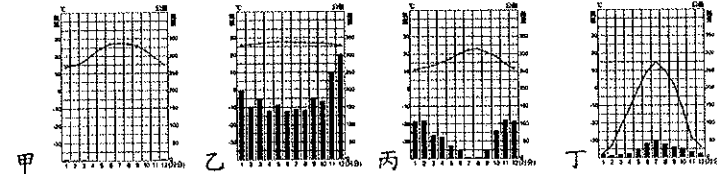


5. 承上題，該氣候的氣候圖為以下何者？(A)ㄅ (B)ㄆ (C)ㄏ (D)ㄏ。



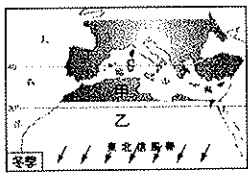

6. 下列為溫帶海洋性氣候與溫帶大陸性氣候特徵的比較，錯誤的有？(甲)溫帶大陸性氣候區距海較遠 (乙)溫帶海洋性氣候全年濕潤多雨 (丙)溫帶大陸性氣候年溫差小 (丁)溫帶海洋性氣候區分布在歐亞大陸內側 (A)甲丙 (B)甲乙 (C)乙丙 (D)丙丁。

※下列甲、乙、丙、丁四幅氣候圖分別代表四種不同的氣候類型。請問 7~9 題：



7. 圖中何者為地中海型氣候？(A)甲 (B)乙 (C)丙 (D)丁。

8. 地中海型氣候的成因如下圖。請判斷附圖中甲、乙兩區為何？(A)赤道低氣壓帶、東南信風帶 (B)西風帶、赤道低氣壓帶 (C)西風帶、副熱帶高氣壓帶 (D)東南信風帶、副熱帶高氣壓帶



9. 此四種氣候類型中，何者緯度最高？(A)甲 (B)乙 (C)丙 (D)丁
10. 下列氣候中雨量是集中在夏季的有哪些？(甲)溫帶地中海型 (乙)熱帶雨林 (丙)溫帶海洋性 (丁)溫帶大陸性 (戊)熱帶莽原 (己)溫帶季風 (A)甲戊己 (B)丁戊己 (C)甲乙丙 (D)丙丁戊。
11. 歐洲沒有沙漠氣候分布，主要是受到下列哪組因素影響？(A)西風吹拂，河川流向 (B)西風吹拂，山脈走向 (C)信風吹拂，山脈走向 (D)信風吹拂，河川流向。
※沙漠依成因可分為溫帶沙漠與熱帶沙漠。請回答 12~15 題：
12. 西亞大部分地區屬於熱帶沙漠氣候，形成的主因為何？(甲)

班級： 座號： 姓名：

距海遙遠，水氣難以達到 (乙)受副熱帶高壓籠罩 (丙)沿岸寒流流經，空氣穩定 (丁)終年迎西風 (A)甲 (B)乙 (C)丙 (D)丁。

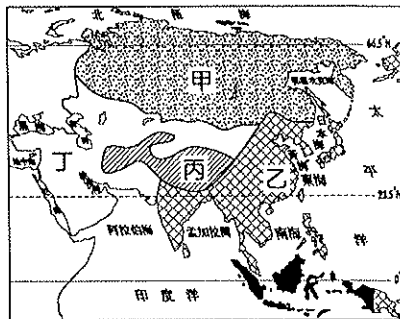
13. 西亞諸國之中，下列哪個國家會有冬季降雨的現象發生？

(A)土耳其 (B)伊朗 (C)伊拉克 (D)阿曼。

14. 中亞沙漠形成的主因為何？(A)甲 (B)乙 (C)丙 (D)丁。

15. 中亞大部分地區屬溫帶沙漠氣候，其成因與下列哪個沙漠相同？(A)西澳沙漠 (B)印度塔爾沙漠 (C)中國塔克拉瑪干沙漠 (D)北非撒哈拉沙漠。

16. 亞洲的面積廣大，形成各種不同的氣候區。請問：附圖中哪一個地區以高地氣候為主？(A)甲 (B)乙 (C)丙 (D)丁。



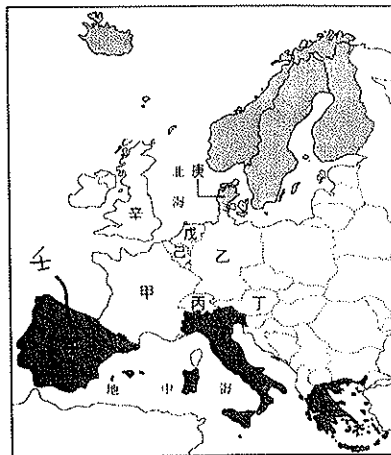
※Google Earth 分別於 1989 年與 2008 年，在鹹海上空進行拍攝，拍攝到的影像顯示鹹海湖泊面積嚴重縮小。請問：

17. 造成上述變化的原因為何？(A)當地居民為增加耕地而進行圍湖造田 (B)過度抽取地下水 (C)引上游河水種植棉花 (D)長期乾旱使湖水乾涸

18. 此種變化對周圍的環境造成的影響，不包括何者？(A)漁獲量減少 (B)農業用地高度鹽鹼化 (C)生活用水遭受污染 (D)地層下陷。

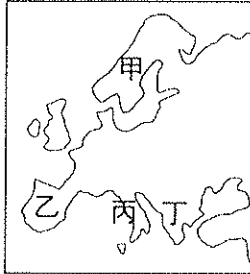
19. 關於中亞五國的敘述，下列何者正確？(A)包括哈薩克、烏茲別克、吉爾吉斯、土庫曼、白俄羅斯五個國家 (B)位於亞洲及非洲貿易往來的交通要道 (C)哈薩克為中亞主要石油生產國 (D)以丘陵、高原地形為主體。

20. 中亞因屬於乾燥氣候，多栽種某種經濟作物，是中亞的主要出口重心，該作物與新疆的經濟作物出口大宗相。這種經濟作物最可能是下列何者？(A)椰棗 (B)棉花 (C)小麥 (D)橄欖。
※目前歐盟歷史最悠久，成員國高達 28 國 (2013 年)，合作項目多，堪稱全球區域整合的典範。請問 21~25 題：



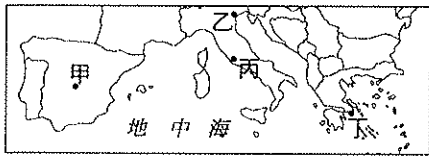
21. 歐洲聯盟擁有龐大的人口數量，強大的消費力，對內資源共用、開放市場，對外則希望達成哪一個目的？(A)提升國際上的競爭力 (B)強化各國的軍事合作 (C)增進各國貨幣的流通 (D)促進各國的文化交流。
22. 歐元為歐盟各會員國所通用的貨幣，圖中哪些會員國至今仍未使用歐元？(A)甲、乙 (B)丙、丁 (C)戊、己 (D)庚、辛。
23. 加入歐盟後，哪個國家因冬季較溫暖，農產行銷更具優勢？(A)甲 (B)乙 (C)丁 (D)壬。

24. 最晚加入歐洲聯盟的區域為下列何者？(A)東歐 (B)西歐 (C)南歐 (D)北歐。
25. 若臺灣觀光客持有法國的旅遊簽證，從德國到希臘幾乎暢遊無阻，這是根據哪項條約的規定？(A)申根公約 (B)京都議定書 (C)北大西洋公約 (D)馬斯垂克條約。
26. 下列有關歐洲各國近年來的人口特色的描述，何者錯誤？(A)出生率偏低 (B)死亡率偏低 (C)人口呈現穩定正成長 (D)老年人口比例居世界各洲之冠。
27. 西元 1492 年，哥倫布從西歐出發向西經大西洋尋找想像中的「東方」國度，當時他刻意將船隻航行的路線降至 30°N 以南的海域，哥倫布是想避開地球上哪個行星風帶的阻礙？(A)西風帶 (B)東南信風帶 (C)東北信風帶 (D)赤道低壓帶。
- ※附圖為歐洲四大半島分布圖，請問：



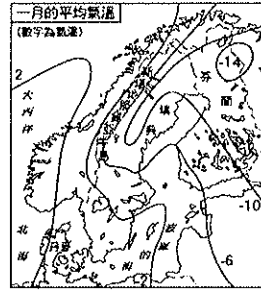
28. 圖中何區有峽灣地形，利於航運與漁業發展？(A)甲 (B)乙 (C)丙 (D)丁。
29. 形成峽灣地形的主因為何？(A)板塊運動 (B)火山作用 (C)河流侵蝕 (D)冰河侵蝕。
30. 因石灰岩地形而土壤貧瘠，不利農耕的是哪個半島？(A)甲 (B)乙 (C)丙 (D)丁。
31. 南歐工業最發達的國家位於哪個半島？(A)甲 (B)乙 (C)丙 (D)丁。

※附圖為南歐簡圖。南歐氣候溫暖，文化豐富多元，各大城市又別具特色，旅遊業十分興盛。請回答 32~34 題：



32. 此座城市位於潟湖，船舶是交通往來最便捷的工具，水都風情令人心生嚮往。上述城市位於圖中何處？(A)甲 (B)乙 (C)丙 (D)丁。
33. 這座城市是以神話中的女神名字所命名的，城市中古蹟遍布，最為著名的就是以均衡、對稱著稱的帕德嫩神廟。上述城市位於圖中何處？(A)甲 (B)乙 (C)丙 (D)丁。
34. 聖彼得大教堂是世界上最大的天主教堂，其中的西斯汀禮拜堂還有文藝復興大師米開朗基羅的壁畫。想要欣賞這些結合宗教與藝術的名家大作，應前往附圖中的哪一座城市？(A)甲 (B)乙 (C)丙 (D)丁。
35. 阿爾卑斯山脈是歐洲最高大的山脈，山間有許多谷地，為南北間的「天然孔道」。請問：這些「天然孔道」是指什麼？(A)河蝕作用的峽谷 (B)斷層作用的裂谷 (C)溶蝕作用的岩溝 (D)冰蝕作用形成的 U 型谷。
36. 歐洲的國家中，以東歐各國在經濟上較為貧困落後，請問：這些國家經濟發展較差的因素，與下列哪一項關係最密切？(A)礦產資源缺乏 (B)共產制度影響 (C)氣候較為嚴寒 (D)土壤貧瘠，農業發展困難。
37. 「英國(甲)全年有雨，傳統仕紳階級出門時總會帶把雨傘，原因是溫帶海洋性氣候終年有來自海上的(乙)信風吹拂及沿海有(丙)暖流經過。而拉丁民族熱情，熱愛戶外運動，與地中海型氣候冬暖夏熱、(丁)夏雨冬乾有關，其降雨特性主要受(戊)風帶季移影響。」引文中有關歐洲氣候的敘述，正確的選項有哪些？(A)甲丙丁 (B)甲丙戊 (C)乙丙戊 (D)乙丁戊。
38. 中國東南沿海有谷灣式海岸，歐洲哪個地區也有類似的海岸地形？(A)北歐斯堪地那維亞半島 (B)西歐大西洋沿岸 (C)南

- 歐亞得里亞海沿岸 (D)南歐巴爾幹半島東南側沿海。
39. 日本冬季西岸雨量較東岸多，主要和下列哪種季風風向有關？(A)↖ (B)↗ (C)↙ (D)↘。
40. 歐洲的氣溫分布特色如附圖所示。請問：影響該地區氣溫分布的主要因素除了緯度外，還包括下列何者？(A)地形 (B)暖流 (C)西風 (D)季風。



※歐洲可分為四區：(甲)西歐 (乙)北歐 (丙)東歐 (丁)南歐。請回答 41~44 題：

41. 哪兩區地形以平原為主，為歐洲大平原的分布所在？(A)甲乙 (B)甲丙 (C)乙丙 (D)乙丁。
42. 與歐洲其他地區相較，擁有冬季暖能和成為旅遊勝地的是哪一區？(A)甲 (B)乙 (C)丙 (D)丁。
43. 因冬季吹西風，形成雨季集中冬季的地區，大多位於下列哪一區域？(A)甲 (B)乙 (C)丙 (D)丁。
44. 圖中的哪一區呈現夏熱冬冷、夏雨冬乾的氣候特色？(A)甲 (B)乙 (C)丙 (D)丁。
45. 「聖家堂」是高第有名的建築作品，為了蓋這座教堂，這位建築奇才幾乎奉獻了一生的歲月，在歷經了一個多世紀後，至今仍有建築師群為完成「聖家堂」而努力不懈。請問：「聖家堂」位於下列哪一個城市？(A)羅馬 (B)雅典 (C)馬德里 (D)巴塞隆納。
46. 南歐地形崎嶇多山，是世界主要的火山、地震帶之一，如義大利南部的維蘇威火山；此一特色與下列哪一項地理特徵有密切的關係？(A)歐洲陸塊地質年代古老 (B)昔日曾為冰河覆蓋 (C)位居板塊的接觸地帶 (D)歐洲陸塊逐漸下降。
47. 歐洲聯盟部分國家的經濟與競爭力為世界各國所矚目。近兩三年，卻發生葡萄牙、愛爾蘭、義大利、希臘、西班牙等國的經濟危機，撼動世界。其中一國雖有悠久的歷史古蹟、愛琴海灣風情等觀光資源，但因其民族性在生活上貪享樂、好逸惡勞。且政府為迎合民眾，各項福利預算偏高，造成國家債務偏高，終致無法償還而發生風暴。請問：上文所述國家最可能為何？(A)希臘 (B)愛爾蘭 (C)葡萄牙 (D)西班牙。
48. 目前土耳其政府在兩河流域上游地區所興築的水壩工程，即可能引起哪些國家不滿？(A)約旦、以色列 (B)敘利亞、伊拉克 (C)伊朗、阿富汗 (D)沙烏地阿拉伯、科威特。
49. 阿拉伯半島礦產資源豐富，是由於下列哪種地理條件所造成？(A)位於板塊交界處 (B)屬於古老地塊 (C)河川沖積，泥沙淤積 (D)氣候乾燥，無植被，利於開採。
50. 「這裡的氣候舒爽宜人，北方的人們總喜歡來此享受陽光，降雨的季節卻和臺北相反；郊區的農家到處是葡萄、橄欖的農園...」上文是移民國外的英傑寫給臺北同學的一封信，英傑最有可能是移民到附圖中的哪裡？(A)甲 (B)乙 (C)丙 (D)丁。

