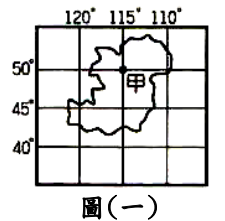
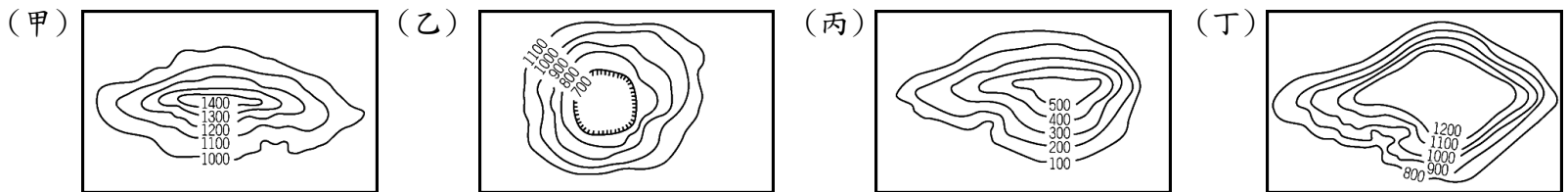


一、單一選擇題，每題兩分

- 【甲】雨水侵蝕 【乙】河川堆積 【丙】火山活動 【丁】風力侵蝕 【戊】板塊運動 【己】斷層陷落等都是地形作用。請問其作用力屬於外營力的有 (A) 甲乙丁 (B) 丙戊己 (C) 乙丙己 (D) 丁戊己。
- 下列哪一項的敘述為「相對位置」的概念？(A) 台灣的位置在 120°E (B) 羅東國中的位置是在羅東鎮中華路99號 (C) 小軒坐在第一排第四個位置 (D) 台灣位在菲律賓的北方。
- 根據聯合國海洋公約法規定，「經濟海域」為海岸基線往外推移多少距離的範圍？(A) 12公里 (B) 12浬 (C) 200公里 (D) 200浬。
- 103年12月25日正式實施縣市合併改制的「新六都」行政等級為下列何者？(A) 直轄市 (B) 省轄市 (C) 縣轄市 (D) 院轄市
- 承上題，下列四個地區何者的行政層級和其他不同？(A) 新竹市 (B) 桃園市 (C) 台中市 (D) 台南市。
- 臺灣島的山脈多呈南北走向，主要原因為何？(A) 河流侵蝕的結果 (B) 板塊擠壓的方向為東西向 (C) 西南部平原較大 (D) 河川多為東西流向。
- 一張地圖用5公分代表實際長度20公里，請問該張地圖的比例尺是 (A) 1:20 (B) 1:2000000 (C) 1:4 (D) 1:400000。
- 地理課時同學們討論經緯線的相關概念。小誠：緯線為東西向；小安：最長的經線是本初經線；小諺：南北緯各180度；小樺：經線交會於南、北極。下列哪些同學的說法錯誤？(A) 小誠、小安 (B) 小諺、小樺 (C) 小安、小諺 (D) 小誠、小樺
- 圖(一)中甲點的絕對位置是：(A) 115°E , 50°N (B) 115°W , 50°S (C) 115°W , 50°N (D) 115°E , 50°S 。
- 若地圖沒有標示方位，通常地圖的上方應是指哪一方位？(A) 東方 (B) 西方 (C) 南方 (D) 北方
- 住在英國倫敦的真心在下午2點打國際電話給台灣的太宇，請問：此時台灣的時間是 (A) 6時 (B) 10時 (C) 16時 (D) 22時。
- 承上題，世界各地時間不同作息皆有差異的主因是何因素造成？(A) 地軸傾斜 (B) 地球自轉 (C) 緯度位置 (D) 地勢高低
- 歐陽開車從台東到花蓮，行經花東縱谷沿途發現左右兩邊都有山脈，請問：右手邊的山脈為 (A) 海岸山脈 (B) 中央山脈 (C) 玉山山脈 (D) 雪山山脈
- 小明位於東經30度，小美位於西經30度，兩地時間相差幾個小時？(A) 1小時 (B) 2小時 (C) 3小時 (D) 4小時。
- 臺灣東岸的蘭陽平原位於哪兩座山脈之間？(A) 雪山山脈、玉山山脈 (B) 玉山山脈、阿里山山脈 (C) 中央山脈、雪山山脈 (D) 中央山脈、海岸山脈
- 在表示地形的「分層設色圖」中，「綠色」通常代表什麼地形？(A) 平原 (B) 山地 (C) 丘陵 (D) 高原
- 依照等高線判斷，台北市屬於下列哪一類型的地形？(A) 甲 (B) 乙 (C) 丙 (D) 丁。

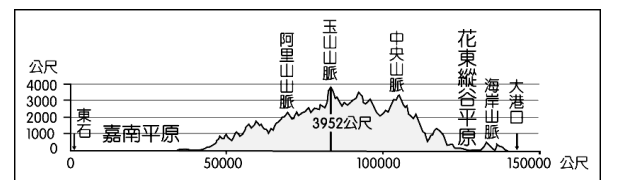


圖(一)



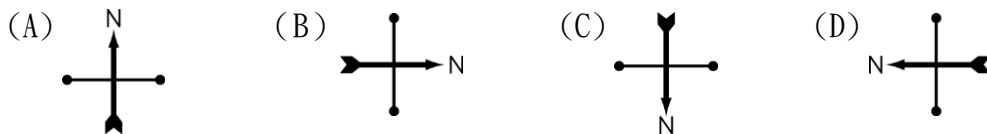
- 承上題，甲乙丙丁四種地形，何者在台灣無法見到？(A) 甲 (B) 乙 (C) 丙 (D) 丁。
- 下列有關比例尺大小的特色敘述中，在同樣大小的紙張上，下列敘述何者錯誤？

	(A)	(B)	(C)	(D)
大比例尺	1:100	簡略	涵蓋範圍小	羅東鎮地圖
小比例尺	1:10000	詳細	涵蓋範圍大	臺灣地圖

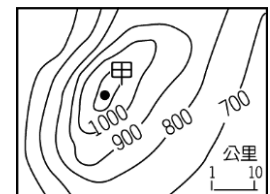


圖(二)

- 台灣受到板塊活動的影響，地形起伏相當大。請根據圖(二)的地形剖面圖判斷，其方向指示標應為哪一個方向？



- 等高線可呈現地表的高低起伏，如圖(三)中甲地的高度最有可能是多少公尺？(A) 1350 公尺 (B) 1240 公尺 (C) 1130 公尺 (D) 1020 公尺。



圖(三)

- 有關台灣各縣的敘述中，何者「錯誤」？(A) 花蓮縣——同時濱臨台灣海峽與太平洋 (B) 南投縣——完全不靠海的縣 (C) 屏東縣——距離赤道最近的縣 (D) 澎湖縣——位於台灣西側外海的島縣

- 圖(四)為教室座位表，關於圖中各位同學的座位，敘述正確的是下列何者？

- 【甲】歐陽坐在敏敏的南方 【乙】小隻坐在敏敏的西北方 【丙】櫻木坐在美美的東北方
 【丁】真心坐在太宇的西方 【戊】家儀坐在大賀的東南方

真心	太宇	歐陽
大賀	櫻木	敏敏
美美	小隻	家儀

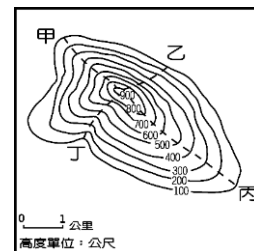
圖(四)

- (A) 甲乙丙 (B) 乙丙丁 (C) 丙丁戊 (D) 甲丁戊

- 澎湖群島、大屯山的形成作用力屬於下列何者？(A) 內營力——斷層陷落 (B) 外營力——海水堆積 (C) 外營力——河水侵蝕 (D) 內營力——火山活動

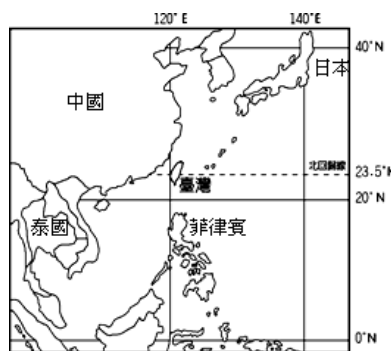
25. 河川造成的地形作用包括:侵蝕、搬運、沖積。其中沖積作用可造成【甲】三角洲【乙】山麓沖積扇【丙】沖積平原等地形；若順流而下，依序應為哪些地形？(A)甲—乙—丙 (B)乙—丙—甲 (C)丙—甲—乙 (D)丙—乙—甲
26. 台灣地區有三大火山群，其中台灣本島的火山群主要分布在哪一地區？(A)東部 (B)西部 (C)南部 (D)北部
27. 下列關於地形表示方式的敘述，何者**錯誤**？(A)將地表高度相同的點連成的線稱為等高線 (B)衛星影像是將相機架設在飛機上，從空中拍攝地面影像 (C)分層設色圖用不同顏色代表不同高度 (D)立體模型製作費時且不易攜帶。
28. 小丸子與小玉想利用連假到龜山島旅遊，他們搭著船由宜蘭烏石港出發一路向東航行。請問，他們經過的海域最有可能是哪一處？(A)太平洋 (B)台灣海峽 (C)東海 (D)南海
29. 【甲】彰化平原【乙】台中盆地【丙】嘉南平原【丁】屏東平原。若由台中市到屏東縣，經過的地形區依序為何？(A)甲乙丙丁 (B)乙丙丁甲 (C)乙甲丙丁 (D)丁甲乙丙
30. 【甲】花蓮縣【乙】宜蘭縣【丙】台北市【丁】嘉義縣【戊】澎湖縣。請問北回歸線經過上述哪幾個縣市？(A)甲乙丙 (B)乙丙丁 (C)甲丁戊 (D)丙丁戊

31. 關於等高線地形圖繪製規則的敘述，下列選項何者**錯誤**？(A)等高線為封閉曲線 (B)同一條等高線上高度相同 (C)當在圖上看見連續 Δ 的線段，有可能出現河谷 (D)等高線愈密集坡度越平緩。
32. 小玄在讀地理筆記時發現某段文字上面寫著「●●地勢最為低平，起伏最小，形勢開闊，為台灣主要農業區」，黑點所代表的地形應該為下列何者？(A)丘陵 (B)平原 (C)盆地 (D)台地
33. 圖(五)為某地區的等高線圖，若想規劃一個適合全家老少健行的步道，甲、乙、丙、丁四條路線哪一條登山小徑坡度最平緩，適合老年人行走？(A)甲 (B)乙 (C)丙 (D)丁

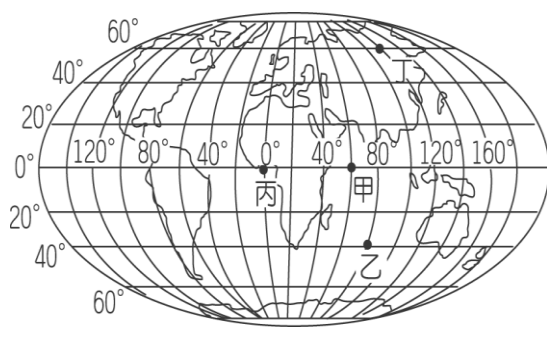


圖(五)

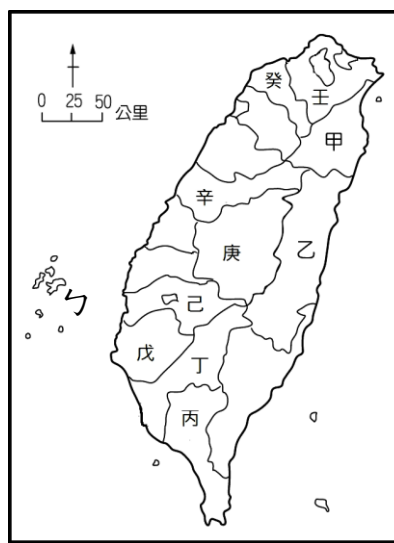
二、題組題，每題兩分



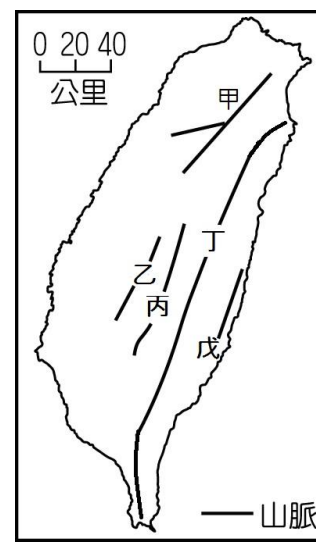
圖(六)



圖(七)



圖(八)



圖(九)

※題組一：圖(六)為台灣海陸位置圖，請依據圖中內容回答下列問題：

34. 參考圖(六)，有關台灣的位置敘述，下列何者正確？(A)日本的西南方 (B)泰國的西北方 (C)中國的西方 (D)菲律賓的南方
35. 由圖(六)台灣的經緯線研判，可知臺灣位於哪兩個半球？(A)東半球、北半球 (B)東半球、南半球 (C)西半球、北半球 (D)西半球、南半球。
36. 承上題，劃分東、西、南、北半球的分界線為下列何者？(A)北回歸線、赤道 (B)本初經線、赤道 (C)北回歸線、南回歸線 (D)赤道、北極圈

※題組二：圖(七)為全球簡圖，請回答 36~40 題：

37. 若台灣時間(120° E)為 21:00，圖中「丙地」當地時間應為 (A)1:00 (B)5:00 (C)12:00 (D)13:00。
38. 圖中四點哪一點與台灣時間相同？(A)甲 (B)乙 (C)丙 (D)丁。
39. 圖中「乙地」經緯度位置應為 (A)(40° E, 80° N) (B)(80° E, 40° S) (C)(60° E, 40° N) (D)(80° W, 40° S)。
40. 圖(七)中那些點屬於熱帶？(A)甲乙 (B)丙丁 (C)甲丙 (D)乙丁
41. 承上題，劃分熱帶、溫帶、寒帶的分界線為下列何者？(A)本初經線、赤道 (B)回歸線、赤道 (C)回歸線、極圈 (D)本初經線、極圈

※題組三：圖(八)為台灣行政圖，請回答42~46題：

42. 下列代號中何者**不是**直轄市？(A)辛 (B)己 (C)戊 (D)丁
43. 桃園市為台灣最新成立的直轄市，在圖中的代號為何？(A)壬 (B)癸 (C)乙 (D)丙
44. 在所有直轄市中，屬於熱帶氣候的為？(A)台北、桃園 (B)台北、新北 (C)台中、高雄 (D)高雄、台南
45. 丙是台灣本島最南端的行政區，名稱為何？(A)台東縣 (B)屏東縣 (C)台南市 (D)高雄市
46. 圖(八)中，勺島的名稱為何？(A)綠島 (B)蘭嶼 (C)澎湖 (D)琉球嶼

※題組四：圖(九)為台灣山脈分布圖，請回答47~50題：

47. 國道五號開通後，縮短宜蘭到台北的車程。請問這條高速公路穿越了哪座山脈？(A)甲 (B)乙 (C)丙 (D)丁。
48. 台灣第一高峰為圖中哪一座山脈？(A)甲 (B)丙 (C)丁 (D)戊
49. 一直具有爭議的蘇花高速公路，因為哪座山脈的環境評估未通過而無法施工？(A)甲 (B)乙 (C)丙 (D)丁
50. 花東縱谷的兩側分別為那兩座山脈？(A)甲丁 (B)乙丙 (C)丙丁 (D)丁戊