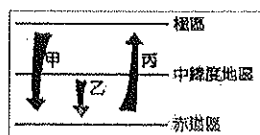
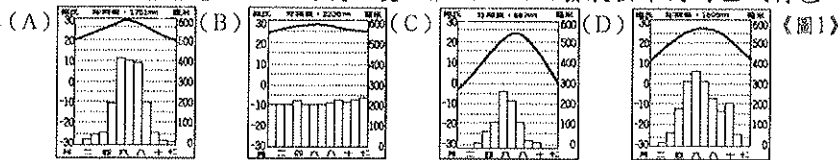



一、單題 (每題 2 分, 共 78 分)

年 班 座號: 姓名:

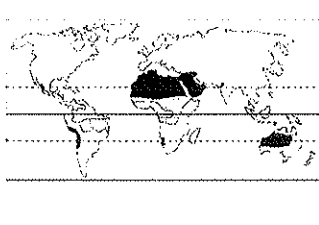

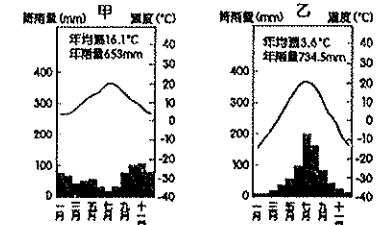
1. 緯度高低會影響一地區的氣候變化狀況, 因而發展出不同的區域特色。請以下列氣候圖中的型態判斷, 何者所處的緯度最低?



(圖2)

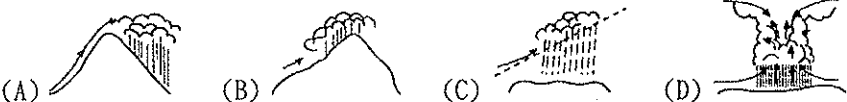


- 《圖1》為三種洋流性質的流向示意圖, 有關三種洋流流經的沿海地區的氣候敘述何者正確? (A)甲洋流流經區較為溫暖乾燥 (B)乙洋流流經區的對流作用強 (C)乙洋流流經區多沙漠的分布 (D)丙洋流流經區較為寒冷潮濕
- 《圖2》為『南半球』某地區的河川流量變化資料。根據圖中資料判斷, 該地區的氣候類型最有可能為下列何者? (A)雨林氣候 (B)季風氣候 (C)沙漠氣候 (D)地中海型氣候。
- 熊大從小生活在廣大內陸的農莊中, 長大後搬到同緯度的沿海地區從事捕魚, 那麼熊大應該可以感受到沿海和內陸地區的氣候有哪些明顯差異? (甲)溫差大小 (乙)風力方向 (丙)降雨季節 (丁)降雨多寡 (A)甲乙 (B)甲丁 (C)乙丙 (D)丙丁。
- 同時跨越熱帶、溫帶及寒帶氣候地帶的大洲為下列何者? (A)非洲 (B)歐洲 (C)亞洲 (D)大洋洲
- 高緯度地區的年均溫通常較低緯度地區為低, 這和下列哪一項因素的關係最大? (A)日照角度 (B)日照時間 (C)季風方向 (D)季風變化。
- 南半球缺乏大陸性氣候, 此一情形的產生與南半球所擁有的哪一項地理環境有關? (A)平均海拔高度較低 (B)溫帶陸地面積較小 (C)沿海地區缺乏暖流 (D)人口分布較為稀疏。
- 「位於亞洲北部, 俄羅斯維科揚斯克的年雨量約155mm, 夏溫略高, 約有15.4°C; 冬溫極低, 最低月均溫僅-50.5°C, 是世界上年溫差最大的氣候類型。」由氣候特徵來看, 維科揚斯克應屬於何種氣候類型? (A)高地氣候 (B)沙漠氣候 (C)副極地氣候 (D)極地氣候



	經度	緯度
甲	東經 80°	北緯 42°
乙	西經 120°	北緯 60°
丙	東經 20°	南緯 20°
丁	東經 30°	南緯 5°

- 《圖3》為同緯度之甲、乙二地的氣候圖。根據圖中資料判斷, 下列敘述何者正確? (A)乙位在南半球 (B)甲的年溫差較大 (C)乙的雨量分布較均勻 (D)甲的降雨集中在冬季
- 《圖4》是位在某一國家的聖誕節慶祝會照片。根據照片中人物的服裝判斷, 此種情形最有可能發生在下列哪一個半球? (A)東半球 (B)西半球 (C)南半球 (D)北半球
- 《圖5》是一張描述某地自然生態的圖畫。下列針對當地氣候特徵的描述, 何者正確? (A)夏乾冬雨 (B)四季皆雨 (C)夏雨冬乾 (D)四季乾燥少雨
- 《圖6》黑色區域代表的是何種氣候區? (A)熱帶雨林氣候 (B)熱帶莽原氣候 (C)熱帶沙漠氣候 (D)溫帶地中海型氣候。
- 根據《表1》四個城市的經、緯度資料, 推測年溫差最小的城市為何? (A)甲(B)乙(C)丙(D)丁
- 下列哪些為終年有雨的氣候類型? (甲)熱帶莽原氣候 (乙)熱帶雨林氣候 (丙)溫帶海洋性氣候 (丁)溫帶地中海型氣候 (戊)溫帶大陸性氣候 (A)甲乙 (B)乙丙 (C)丙丁 (D)丁戊。
- 北歐的挪威氣候較同緯度的其他地區溫暖, 主要是受到哪種洋流的影響? (A)親潮(B)黑潮(C)北大西洋暖流(D)阿拉斯加暖流
- 下列哪一個不是形成沙漠的條件? (A)被副熱帶高壓帶籠罩 (B)有暖流經過 (C)距海遙遠 (D)位於背風側
- 有國際射箭好手為了能在西元2012年的倫敦奧運一展身手, 及適應當地終年盛行西風的氣候環境, 而提早進駐當地訓練。請問: 這些射箭選手所感受到的氣候特徵與下列何者最相符? (A)全年高溫多雨(B)全年溫和有雨(C)全年乾燥少雨(D)夏乾熱冬陰雨
- 受到地形影響, 高山地區的哪些現象會呈現垂直分布的特色? (A)風向及氣壓(B)雨量及營力(C)氣溫及植被(D)風向及氣溫
- 報紙上看到一篇旅遊文章, 寫著:「當天, ○○正處於『白夜節』節慶, 晚上如同白天一般, 我們一同歡慶到十一點才結束……」, 由此判斷, 可知道文中的○○應該位於哪個地區? (A)極圈附近的國家 (B)赤道經過的國家 (C)北回歸線經過的國家 (D)南回歸線經過的國家。
- 「熱帶雨林生長在終年溼熱的環境下, 那裡終年幾乎沒有季節上的差別。白天溫度恆定在約30°C, 幾乎每天下午都下雨, 年降水量至少2,000 mm, 多時可達8,000 mm。熱帶雨林是個生機蓬勃的環境, 分布於非洲中部、東南亞和中南美洲等地。」請問: 熱帶雨林區的降雨應屬下列哪一種類型?

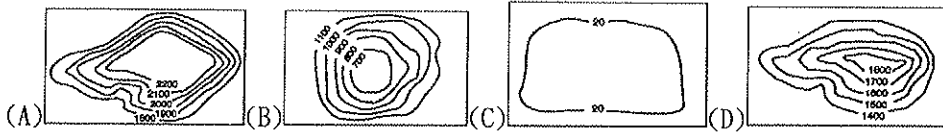


(圖7)

- 《圖7》是北半球的溫帶溼潤氣候三型分布示意圖。依照溫帶海洋性、溫帶大陸性、溫帶地中海型的順序排列, 下列何者正確? (A)甲乙丙 (B)甲丙乙 (C)乙甲丙 (D)乙丙甲。
- 《天方夜譚》裡繁華熱鬧的巴格達, 至今仍是伊拉克境內最主要的都市之一, 當地的發展與下列何種農業的關係最密切? (A)河水灌溉 (B)坎井灌溉 (C)節水滴灌 (D)鑽井取水
- 西亞地處三大洲的接觸帶上, 戰略位置重要。請問: 這三洲分別為下列何者? (A)歐洲、亞洲、北美洲 (B)歐洲、非洲、北美洲 (C)歐洲、亞洲、非洲 (D)亞洲、非洲、北美洲。
- 寒假時莎莉和爸媽到西亞旅行, 一路上陽光普照, 最常看見黃沙滾滾的景色, 一直到某一地區時才遇到下雨, 稍解連日來的乾熱不適。請問: 莎莉一家人最可能在下列何地遇到了雨天? (A)土耳其的伊斯坦堡 (B)伊拉克的巴格達 (C)沙烏地阿拉伯的

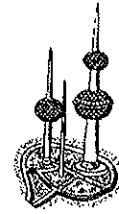
利雅德 (D) 伊朗的德黑蘭

25. 下列哪幅等高線地形圖最能代表西亞地區的主要地形？



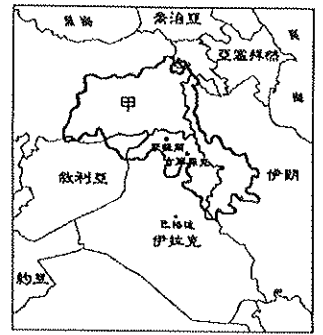
26. 《圖8》為科威特的淡水儲水塔。請問：儲水塔內儲存的淡水來源應該為何？

(A) 約旦河水 (B) 融化的雪水 (C) 淡化的海水 (D) 深層地下水



27. 《圖9》為西亞國家的簡圖，粗線圍繞區域為庫德族的分布區，而該民族在1988年遭到伊拉克的攻擊後，數萬族人被迫進入圖中甲國避難，請問：上文中的甲國應該為下列何者？(A) 土耳其 (B) 以色列 (C) 科威特 (D) 伊朗

《圖9》



28. 承上題，庫德族在當地生存了許多年。請問：伊拉克的海軍政權對其展開民族滅絕的軍事行動主要原因是？(A) 戰略位置 (B) 宗教歧異 (C) 控制石油礦產 (D) 爭奪水資源主權

29. 西亞傳統的經濟活動以畜牧為主，而住在阿曼，沿沙漠邊緣草原地帶逐水草而居的貝都因人，採取下列何種畜牧方式？(A) 欄牧 (B) 放牧 (C) 山牧季移 (D) 水平游牧

30. 新聞報導：「……石油價格將在明日清晨調漲。」潔西卡上網查詢有關「石油價格」的國際組織資料。請問：他該輸入下列哪個國際組織的簡稱？(A) EU (B) WTO (C) OPEC (D) APEC。

31. 西亞沙漠中的居民，利用地下自然湧出的「泉水」或人工挖掘的「地下水道」進行農耕，是為綠洲農業。請問：下列中國的地理區中，何者也以此種農業著稱？(A) 柴達木盆地 (B) 塔里木盆地 (C) 青海湖盆地 (D) 四川盆地

32. 詹姆士查閱百科全書時看見以下的說明：「此種作物生長在沙漠地區，果實產量多，營養價值高，被稱為『沙漠麵包』，是西亞國家的重要出口農作物。」請問：詹姆士查閱的是哪種作物？(A) 椰棗 (B) 橄欖 (C) 石榴 (D) 橡膠。

33. 西元2012年3月以色列對加薩走廊進行了5波空襲，造成10人死亡、10人受傷。其起因是因為巴勒斯坦人對以色列南部發射數十枚火箭砲和迫擊砲，造成4人受傷之後，以色列才展開這項空襲行動。以色列和巴勒斯坦自二次世界大戰後衝突不斷，主要與下列何者有關？(A) 戰略位置 (B) 領土糾紛 (C) 爭奪石油 (D) 興建水庫

34. 西亞地區和北非的埃及合稱為中東，當地戰事不斷，素有「火藥庫」的稱號。下列關於該地區的紛爭原因，何者正確？(A) 水資源缺乏；爭奪約旦河等少數河流的控制權 (B) 宗教不同；佛教徒與伊斯蘭教徒紛爭 (C) 石油礦藏；主要分布於黑海沿岸 (D) 民族不同；維京人與阿拉伯人的紛爭

35. 民居的類型常反映出當地的自然與人文環境特色，西亞地區常見的建築物，特點是牆很厚、門窗很小。請問：西亞地區出現此種建築景觀的主要原因為何？(A) 防止盜匪入侵 (B) 隔絕日照與阻止風沙侵襲 (C) 預防雨水滲透 (D) 避免地震震垮。

36. 西亞的杜拜正積極發展觀光業活動，著名的帆船飯店吸引了全球消費者的目光。請問：該地區發展觀光業最主要的目的為何？(A) 多元經濟發展 (B) 發揚伊斯蘭教 (C) 增加就業機會 (D) 拓展國際外交

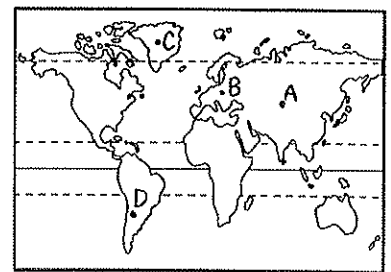
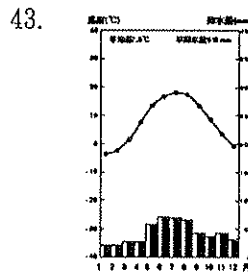
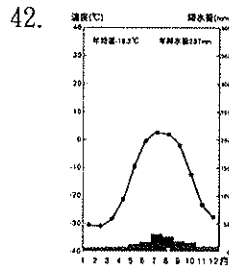
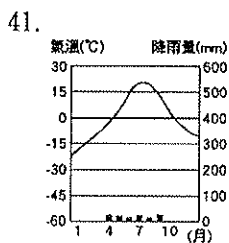
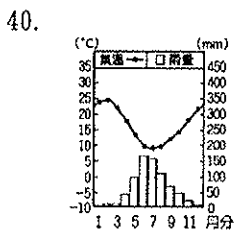
37. 西亞地區的氣候乾燥，為熱帶沙漠氣候。請問：其沙漠的成因與下列哪個沙漠相同？(A) 塔爾沙漠 (B) 中亞沙漠 (C) 塔克拉瑪干沙漠 (D) 中國內蒙古沙漠

38. 2011年10月西亞某國發生7.2級強震，傷亡慘烈，第一時間內該國政府希望以國家災難管理系統處理為由拒絕多國的協助，但情況愈趨危急，該國政府終於鬆口表示，願意接受其他國家的援助。上述新聞可能發生於哪一國境內？(A) 伊拉克 (B) 土耳其 (C) 沙烏地阿拉伯 (D) 以色列

39. 伊斯蘭教為西亞區主要的宗教，有關其特色的敘述何者『錯誤』？(A) 教徒稱『穆斯林』 (B) 相信唯一真神『阿拉』 (C) 不吃豬肉 (D) 男子需蒙面紗

二、題組 (每題2分, 共22分)

* 娜美從世界地圖中挑出四個探險的場所，可是不小心把四張氣候圖弄亂了。請問：這四張氣候圖分別代表附圖中哪些地方，請選出所在地點的代號。



* 附圖為西亞各國分布圖。圖中甲~辛代表國家，ㄅ~ㄿ代表海域。請問：

44. 國家的領土跨越歐、亞兩洲，籍制博斯普魯斯海峽、達達尼爾海峽的出入口，因而能控制黑海進出地中海的航道交通？(A) 丙 (B) 己 (C) 庚 (D) 辛。

45. 哪兩個國家因爭奪約旦河的水資源主權，自西元1976年以來爆發多次衝突？(A) 甲、乙 (B) 乙、丙 (C) 丙、戊 (D) 庚、辛

46. 2010年啟用的杜拜「哈里發塔」，取代了臺北101大樓，成為世界第一高樓。若欲親眼目睹此建築物，應到附圖中的哪個國家？(A) 甲 (B) 乙 (C) 丙 (D) 丁

47. 波斯文明，並且以山牧季移、坎井水源維生的地區在圖中何處？(A) 甲 (B) 乙 (C) 丙 (D) 己

48. 這座城市是猶太教、伊斯蘭教與基督教的聖地，十一世紀展開的十字軍東征，起源即是基督徒為了從穆斯林手中收回這座聖城，可知此城市在宗教信仰上的重要地位。請問：上述的城市位於附圖中何處？(A) 丙 (B) 戊 (C) 庚 (D) 辛

49. 西亞中面積最大的國家，石油蘊藏量豐富，境內有伊斯蘭教聖城「麥加」(A) 乙 (B) 丙 (C) 丁 (D) 戊

50. 圖中何地附近的海域為全球石油蘊藏量最豐富的地區，因此成為最繁忙的油輪運輸通道？(A) ㄅ (B) ㄆ (C) ㄇ (D) ㄿ

