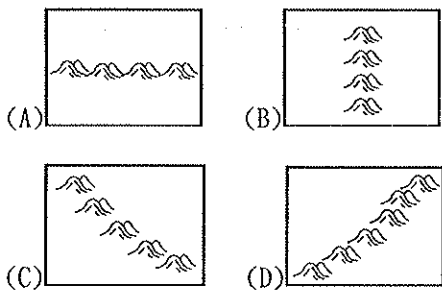
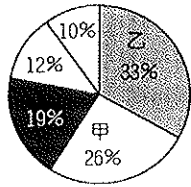


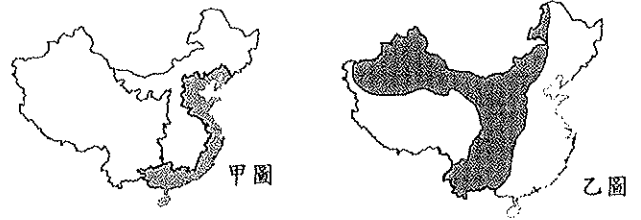
※選擇題，每題 2 分，共 50 題

- 疆域為一國家發展的基本條件，下列有關中國疆域的敘述中，何者不正確？(A)位於中緯度，以熱帶氣候為主 (B)板塊活動影響，地勢起伏大 (C)國土面積廣大，自然資源豐富 (D)位置面海背陸，有利對外發展。
- 中國疆域跨5個時區。請問這和中國哪一項地理條件關係最為密切？(A)地形起伏較大 (B)經度範圍較廣 (C)海岸線較長 (D)緯度範圍較寬。
- 右圖是依中國五大地形比例所繪製的圓餅圖，圖中的甲、乙兩區域分別代表哪兩種地形？(A)高原、平原 (B)平原、盆地 (C)盆地、山地 (D)高原、山地。
- 承上題，由右圖的圓餅圖中可推知中國具有下列哪一項事實？(A)人口眾多 (B)地勢呈三級階梯 (C)地形複雜 (D)疆域面積廣大。
- 中國邊境的陸上鄰國相當眾多，因此國界邊境對該國的軍事國防上相當重要。請問：中國西南方的天然國界是哪一座山脈？(A)長白山 (B)天山 (C)大興安嶺 (D)喜馬拉雅山。
- 青藏高原的平均高度超過 4200 公尺，因此有「世界屋脊」之稱。請問：該地區主要是由於哪兩個板塊之間的擠壓作用所造成的？(甲)太平洋板塊(乙)菲律賓板塊(丙)歐亞板塊(丁)印澳板塊 (A)甲乙 (B)丙丁 (C)甲丙 (D)乙丁
- 中國東半部多震旦走向的山脈，因此震旦走向又有華夏走向的別稱。請問：下列哪張圖是震旦走向的示意圖？

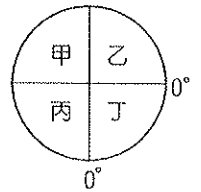


- 許多旅行團喜歡用「桂林山水甲天下，陽朔山水甲桂林」來描述廣西壯族自治區內秀麗的石灰岩地形。廣西壯族自治區全境大多位於雲貴高原。請問：下列何者是其特殊地形的主要營力？(A)火山作用 (B)溶蝕作用 (C)冰蝕作用 (D)風蝕作用
- 香港在回歸中國後，因為正好位於哪個地形區的主要進出門戶，因此交通地位更加重要，並有利於當地經濟發展？(A)珠江三角洲 (B)長江中下游平原 (C)東北平原 (D)華北平原。
- 中國疆域廣大，面積名列世界第四。請問下列哪個國家的面積較中國小？(A)巴西 (B)美國 (C)加拿大 (D)俄羅斯
- 青藏高原上湖泊遍布，又被稱為湖泊高原，藏語稱湖泊為「錯」，如位於藏北高原的「納木錯」為全世界最高的鹹水湖。請問：這些湖泊的成因為何？(A)風力侵蝕 (B)冰河侵蝕 (C)河流侵蝕 (D)海水侵蝕。
- 塔克拉瑪干沙漠是中國第一大沙漠，也是世界第二大沙漠，在維吾爾語的意思為「進得去，出不來」。請問：塔克拉瑪干沙漠位於哪個盆地內？(A)柴達木盆地 (B)塔里木盆地 (C)準噶爾盆地 (D)四川盆地

- 中國境內因為面積廣大，因此視個別條件不同而畫分成不同地理區。關於甲乙兩圖畫分標準何者正確？(A)甲圖-地形 (B)乙圖-植被 (C)甲圖-經濟 (D)乙圖-人口



- 就中國目前的行政區劃分而言，下列何者的行政地位和其他三者不同？(A)北京市 (B)福建省 (C)寧夏回族自治區 (D)西安市
- 關於行政區與其居住的主要民族搭配，下列四項何者正確？(A)廣西——壯族 (B)內蒙古——藏族 (C)西藏——滿族 (D)新疆——蒙古族
- 少女時代預計將展開世界巡迴演唱會，第一場將會在中國上海舉行，她們想要先從Google地球上了解中國的位置，請問他們應該從右圖中哪一區開始找才能最快找到？(A)甲 (B)乙 (C)丙 (D)丁
- 小廷參加「中國高原走透透」的活動，造訪中國四大高原，請問四大高原與其所在的中國三階梯位置相對，何者正確？(A)雲貴高原-第一級 (B)黃土高原-第二級 (C)內蒙古高原-第一級 (D)青藏高原-第二級
- 新疆和西藏不設省而設自治區，主要原因為何？(A)面積寬廣，人口稀少 (B)開發較晚，經濟落後 (C)地處邊陲，位置重要 (D)歷史文化和地理環境特殊。
- 中國政府預計於2015年10月1日晚上8點在北京施放國慶煙火，家住在台灣的小倫若想欣賞實況轉播，應該於十月一號幾點收看電視？(A)七點 (B)八點 (C)九點 (D)十點

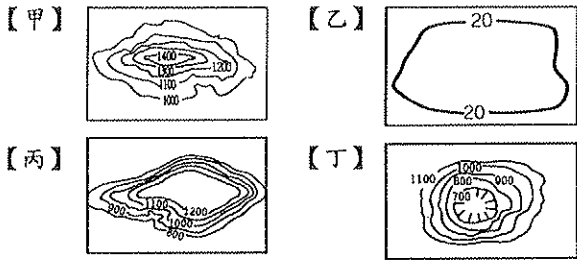


- 小儀觀察中國大陸行政區發現東部的行政區大多面積較小，而西部的行政區則面積較大，造成此現象的原因為何？(A)地形起伏 (B)氣溫高低 (C)共產政策 (D)人口數量
- 右圖將中國分成三大區，這種分區方法主要是依據下列哪一項指標？(A)地勢高低 (B)自然與人文環境 (C)經濟發展 (D)人口多寡。
- 承上題，圖中乙、丙兩區之間的分界線是：(A)秦嶺、淮河 (B)大興安嶺、珠江 (C)秦嶺、黃河 (D)天山、長江。



- 京杭大運河為中國東部主要的南北向運河，對各地之間的貨物運送幫助極大。請問：該運河所連接的河川水系中不包括下列何者？(A)黃河 (B)珠江 (C)長江 (D)錢塘江。

24. 中國境內地形相當多樣化，在地形三階梯中，第二級階梯以哪兩種地形為主？



(A)甲乙 (B)丙丁 (C)甲丙 (D)乙丁

25. 中國古詩詞中常有「滾滾長江東逝水」、「恰似一江春水向東流」等描述，此種河川流向和下列哪一項因素關係最密切？

(A)地勢北高南低 (B)地勢西高東低 (C)氣候北冷南熱 (D)氣候西乾東溼。

26. 地理課時老師請同學說明中國的海岸地形，下列哪一位同學的說法有誤？

(A)小旂：「中國北部區域的海岸多為沙岸。」 (B)小敏：「中國南部區域的海岸多為岩岸，故適合發展海洋漁業。」 (C)小建：「山東半島位於杭州灣以北，故為沙岸地形。」 (D)小芸：「珠江三角洲一帶的海岸屬於沙岸地形。」

27. 關於目前中國行政區劃分的敘述，下列何者正確？

(A)共三十三個省 (B)五個自治區 (C)三個直轄市 (D)四個特別行政區

28. 北回歸線穿越的中國省級行政區有：(甲)廣東省(乙)雲南省(丙)廣西壯族自治區，由西向東排列，下列何者正確？

(A)甲乙丙 (B)丙甲乙 (C)乙丙甲 (D)乙甲丙。

29. 小雯到中國旅行，本想好好欣賞當地雄偉的冰河景觀，卻感到頭疼、噁心、呼吸困難，只好戴上氧氣罩下山，才減輕這些症狀。請問：小雯比較有可能是到下列哪個地形區？

(A)青藏高原 (B)東南丘陵 (C)四川盆地 (D)雲貴高原。

30. 位於中國地勢的第二、三級階梯分界線上，且是黃土高原與華北平原的界山，是指下列何者？(A)崑崙山 (B)太行山 (C)祁連山 (D)大興安嶺。

31. 中國的五大地形中，農業發達、人口密集的精華區是在何種地形？(A)山地 (B)高原 (C)盆地 (D)平原。

32. 青藏高原受地形影響，呈現出下列哪個特徵？

(A)交通不便(B)產業發達(C)人口密集(D)氣候炎熱。

33. 右圖為中國地勢三級階梯圖，依各級階梯

內主要地形種類的分布判斷，第二級階梯

和第三級階梯的界線最可能為幾公尺

的等高線？(A)2000 (B)1000 (C)500

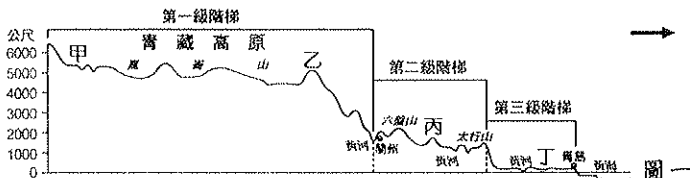
(D)100。



34. 中國的位置面海背陸，此一位置特性對於中國發展的正面助益為何？(A)氣候寒冷乾燥 (B)境內民族眾多 (C)東西交通不便 (D)向陸向海發展自如。

35. 中國東臨三大緣海，分別為：【甲】黃海【乙】南海【丙】東海。由北到南排列依序為？(A)甲乙丙 (B)甲丙乙 (C)乙甲丙 (D)丙乙甲

【題組一】圖一為中國的地形剖面圖，請問：



36. 請由圖中地形區位置加以判斷，圖中的箭頭方向指向何方？

(A)東方 (B)西方 (C)南方 (D)北方

37. 圖中資料可顯示出中國的何種地理特性？

(A)西半部多震旦方向的山脈 (B)地理景觀單一 (C)地勢向東級級下降 (D)山脈缺乏地理阻隔性

38. 承上題，對於此項地形特性造成的影響，下列敘述何者錯誤？

(A)有利於暖溼空氣進入內陸 (B)主要河川由西向東流 (C)北方冬天氣溫低於南方 (D)人工運河以南北向為主。

39. 圖一第三級階梯中丁點所在的地形區應該為下列何者？

(A)珠江三角洲 (B)華北平原 (C)青藏高原 (D)黃土高原

40. 該地形圖上有甲、乙、丙、丁四點，何處是一天當中最晚看到日出的地點？(A)甲 (B)乙 (C)丙 (D)丁

【題組二】中國的海岸線綿長，各段因海岸附近地形的差異，導致海岸地形有所不同。請依據中國海岸的特色，回答下列問題：

41. 中國海岸若以沙岸和岩岸的分類來看，兩種海岸的顯著劃分點大致在下列何處？(A)廈門灣 (B)長江口 (C)杭州灣 (D)黃河口。

42. 岩岸地區最適合發展下列哪種經濟活動？(A)鹽業 (B)海洋漁業 (C)養殖漁業 (D)農業。

【題組三】附圖為中國六大地區分布圖。請問：

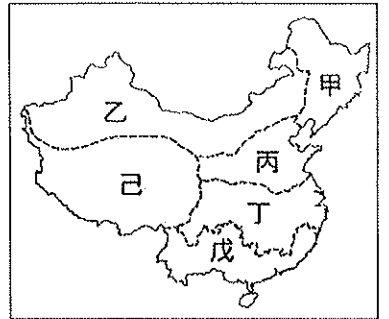
43. 中國的第一大城市——上海，分布於哪個地區？

(A)甲 (B)丙 (C)丁 (D)戊。

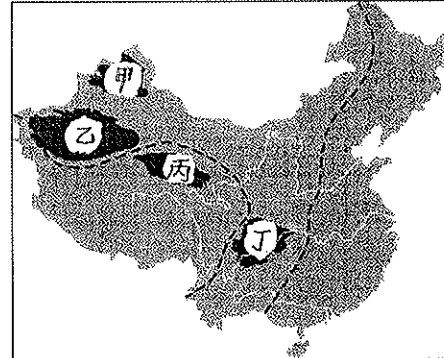
44. 中國的直轄市主要分布在哪兩個地區？(A)甲乙 (B)甲丙 (C)丙丁 (D)丁戊。

45. 下列那個區域中沒有自治區的分布？(A)甲 (B)乙 (C)戊 (D)己

46. 中國的特別行政區位於圖中那個區域？(A)甲 (B)丙 (C)丁 (D)戊



【題組四】附圖為中國四大盆地的分布簡圖。請問：



47. 哪個盆地位於第一級階梯的範圍內？(A)準噶爾盆地 (B)塔里木盆地 (C)柴達木盆地 (D)四川盆地。

48. 下列那個盆地不是位於第二級階梯？

(A)塔里木盆地 (B)準噶爾盆地 (C)四川盆地 (D)柴達木盆地。

49. 哪個盆地的物產豐富，盆底開闢許多梯田，農業發達？(A)甲 (B)乙 (C)丙 (D)丁。

50. 哪個盆地位於新疆天山北側，為中國第二大的盆地？(A)甲 (B)乙 (C)丙 (D)丁。