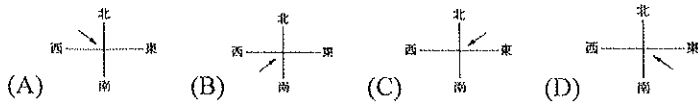


# 宜蘭縣立羅東國中 103 學年度第二學期八年級地理科第二次段考試卷

選擇題：每題 2 分，請用 2B 鉛筆作答

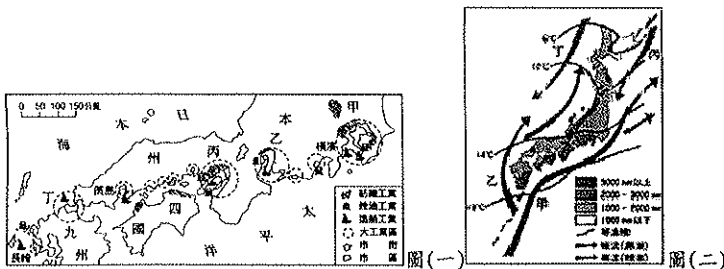
班級： 座號： 姓名

1. 「札幌雪祭」是北海道最具代表性也是最大規模的活動。日本冬季的降雪，與哪道季風夾帶大量水氣有關？



2. 呈上題，此種季風主要經過哪一個海洋？  
 (A) 太平洋 (B) 日本海 (C) 黃海 (D) 印度洋。
3. 泡溫泉是日本的國民運動，日本溫泉分布眾多與下列何者的關係最密切？ (A) 沿海暖流經過 (B) 地下水源充沛 (C) 居板塊接觸帶 (D) 緯度低蒸發強。
4. 日本陸地面積狹小，但經濟海域範圍卻十分廣大，主因為何？  
 (A) 岩岸眾多 (B) 洋流眾多 (C) 島嶼眾多 (D) 國力強大。
5. 北韓以重新啟動核子反應爐及試射飛彈，展示其強大武力。請問：北韓的工業發展比南韓早，主要與下列哪一因素關係最密切？ (A) 勞力較多 (B) 礦產資源較豐 (C) 學術水準較高 (D) 經濟高度發展。
6. 日本的汽車、電子、電器等，在全球市場占有率相當高，國際貿易發達。請問：日本積極進行海外投資與設廠，並擴展跨國企業的主要目的為何？ (A) 提升國際形象 (B) 降低生產成本 (C) 實施經濟侵略 (D) 提高就業機會。
7. 日式料理中常見魚的相關料理。請問：日本漁業發達與下列何者無關？ (A) 氣候暖溼 (B) 海岸線曲折 (C) 寒暖流交會 (D) 捕撈技術佳。

※圖(一)為日本重要的工業區分布圖，圖(二)日本降水量、溫度及洋流分布圖。請依圖回答下列問題。

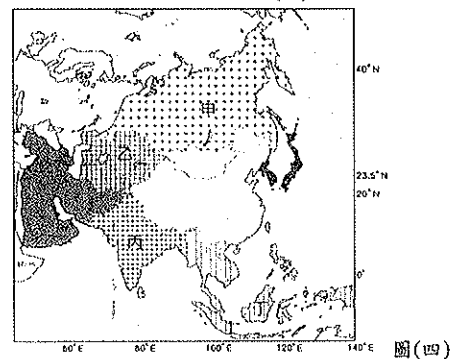
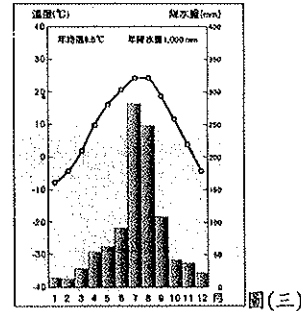


8. 日本主要工業區和工業都市均瀕臨海洋，此反映出日本工業發展上最大的缺點是下列何項？ (A) 原料仰賴進口 (B) 能源動力不足 (C) 技術勞工缺乏 (D) 內陸運輸不便。
9. 日本的緯度雖與中國類似，氣候卻比中國溫暖多雨。下列哪一個解釋是正確的？ (A) 因日本地勢高度較低，所以比較溫暖 (B) 因日本土地面積較小，所以溫溼多雨 (C) 因日本四面環海，所以溫溼多雨 (D) 因日本緯度較低，所以平均溫度較高。
10. 日本都市化程度高，大型都會區很多。下列有關東京的描述，何者錯誤？ (A) 面臨日本海 (B) 位於關東平原 (C) 為日本政經中心 (D) 位於本州島。
11. 櫻花是日本的國花，每當春季來臨，臺灣也有許多旅客，慕名前去賞花。請問：若想到日本旅遊，能夠沿途欣賞櫻花，旅程的順序應該如何安排？ (A) 由北向南 (B) 由南向北 (C) 由東向西 (D) 由西向東。
12. 呈上題：造成各地賞櫻時間早晚不一的主因為何？ (A) 地形高低 (B) 緯度高低 (C) 雨季早晚 (D) 洋流經過。
13. 關於臺、日、南韓三國共同點，何者正確？ (A) 均屬「環太平洋火山地震帶」 (B) 均曾淪為外國的殖民地 (C) 均為山多平原少之地形 (D) 冬季均受西北季風影響。
14. 泡菜為韓國民眾日常生活不可或缺的食物，主要因為何？  
 (A) 年降水量稀少 (B) 冬季氣候嚴寒 (C) 年蒸發量過大 (D) 肉類供應不足。

15. 下列有關朝鮮半島氣候特色的描述，何者有誤？ (A) 屬於溫帶季風氣候 (B) 全年有雨，乾溼季不明顯 (C) 夏、秋季節會受颱風侵襲 (D) 半島南部的氣溫較高，利於農業發展。
16. 朝鮮半島的人口集中在黃海沿岸，日本人口則主要集中在太平洋岸，兩地人口分布差異與下列哪個因素的關係最密切？ (A) 緯度高低 (B) 平原位置 (C) 雨量多寡 (D) 盛行風向。
17. 每年春季時，朝鮮半島深受中國沙塵暴影響，導致空氣混濁、水平能見度降低。此時當地應吹哪一方向的季風？  
 (A) ㄨ (B) ㄝ (C) ㄩ (D) ㄊ。
18. 南韓的工業發展正急起直追，希望可以趕上日本。近年來南韓大力發展的主要工業類型，不包括下列何者？ (A) 汽車工業 (B) 資訊工業 (C) 電子工業 (D) 紡織工業。
19. 下列關於南、北韓比較，何者正確？ (A) 甲 (B) 乙 (C) 丙 (D) 丁。

國家	(甲) 政治體制	(乙) 農業收穫次數	(丙) 首都	(丁) 經濟發展
南韓	民主政治	一穫	釜山	低
北韓	共產主義	二穫	平壤	高

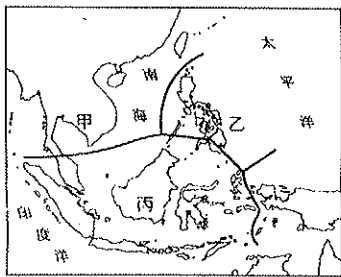
20. 臺灣和南韓在經濟發展上有很多相似的地方，但也有一些差異，其最大的差異應是下列何者？ (A) 礦產不豐，仰賴進口 (B) 早期主要發展輕工業 (C) 以工業產品出口為主 (D) 政府扶植大型財團。
21. 下圖(三)是朝鮮半島北部的氣候圖。由圖中資料，可以發現朝鮮半島北部發展農業最不利的因素為何？ (A) 耕地不足 (B) 夏溫偏低 (C) 生長季短 (D) 雨量不足。



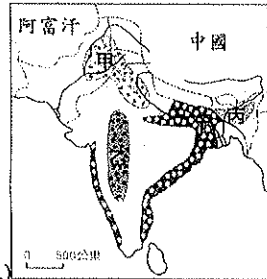
22. 「此區地處海陸交會的位置，成為東、西航線必經之地，再加上該區擁有豐富的天然資源，吸引許多外來居民進入本區，因而塑造出多元文化的景觀。」上文中提及的情形最可能出現在上圖(四)的哪一區？ (A) 甲 (B) 乙 (C) 丙 (D) 丁。
23. 東南亞中南半島的地形為中國何地的延伸？ (A) 橫斷山脈 (B) 青藏高原 (C) 嶺南丘陵 (D) 長白山地。
24. 印度人口眾多，但貧富差距與教育資源分布不均，知識分子與文盲成兩極化的分布，對印度的經濟造成很大的負擔。造成印度有此種現象的主因？ (A) 種族複雜 (B) 宗教對立 (C) 階級制度嚴明 (D) 與巴基斯坦對峙結果。

背面尚有試題，請翻页繼續作答

25. 崇恩去過泰國和菲律賓，他對這兩國的國情做了比較，下列哪個選項是正確的？(A)泰國與菲律賓都屬於南洋群島 (B)兩國皆發展佛教文化 (C)熱帶栽培業是兩地共同的主要農業活動 (D)兩地皆屬於季風氣候區。
26. 隨著資訊時代的來臨，亞洲境內的哪一個國家正積極發展線上遊戲等軟體，並跨足了文化娛樂產業，帶來了相當大的收益？(A)印度 (B)泰國 (C)南韓 (D)新加坡。
27. 近年來印度及巴基斯坦兩國間常有軍事衝突發生，使其成為南亞地區穩定發展的一大隱憂。上述兩國產生衝突的原因，與下列何者的關係最密切？(甲)民族不同 (乙)宗教信仰 (丙)土地主權 (丁)爭奪礦藏(A)甲丁 (B)乙丙 (C)乙丁 (D)丙丁。
28. 乞拉朋吉是世界降水量最多的地方，年降水量達 12,000 毫米，其形成的原因可能有(甲)地形(乙)東北季風(丙)西南季風(丁)沿海洋流。上述的正確答案應該為何？(A)甲、乙 (B)乙、丙 (C)丙、丁 (D)甲、丙。
29. 東南亞因位於哪兩大洋之間，是「海上絲路」的必經之路？(A)太平洋、大西洋 (B)大西洋、印度洋 (C)太平洋、印度洋 (D)太平洋、北極海。
30. 中南半島在種族和文化方面深具過渡性色彩，形成此現象的主因為何？(A)位置 (B)地形 (C)氣候 (D)水文。
31. 東南亞宗教與生活呈現多元性，左下圖(五)為東南亞宗教分布圖，圖中甲、乙、丙三地居民主要的信仰各為哪些宗教？(A)伊斯蘭教、天主教、佛教 (B)佛教、天主教、伊斯蘭教 (C)天主教、伊斯蘭教、佛教 (D)伊斯蘭教、佛教、天主教。

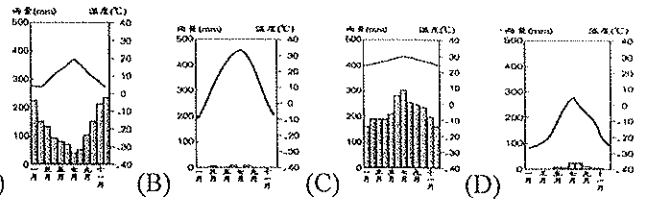
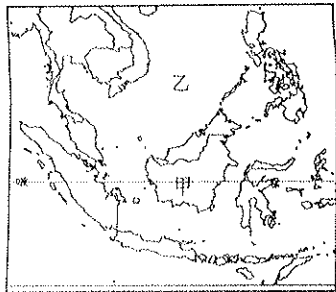


圖(五)

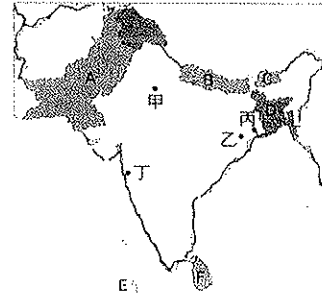


圖(六)

32. 右上圖(六)為南亞農產分布圖。下列圖中各區與主要種植的作物配對，何者正確？(A)甲—稻米 (B)乙—棉花 (C)丙—小麥 (D)丁—茶葉。
33. 呈上題，「印度半島農業發達，受到□□□□不同的影響，因此各地栽種的農作物不同。」上文中的空格應填入下列何者？(A)氣溫高低 (B)雨量多寡 (C)地形起伏 (D)土壤沃度。
34. 近年來，印度積極實施對外開放政策，並加速發展哪個行業？(A)農業 (B)貿易業 (C)資訊科技產業 (D)礦產開發。
35. 子堯一家人想到印度旅遊，不知道何時去比較適合，以下是朋友們給的意見，何者正確？(A)承軒：11月去最好，因為天氣涼爽 (B)昱丞：要5月去，因為是春天，氣候溫和 (C)芷筠：7月最好不要去，印度氣候很乾熱 (D)曉琪：3~5月是雨季不要去。
36. 南亞的恆河平原與中國的鄱陽盆地緯度相當，但鄱陽盆地一月均溫卻比恆河平原低了近 10°C。請問：造成此差異的原因，與恆河平原具備哪一項特性有關？(A)午後多雷陣雨 (B)北有高山屏障 (C)太陽輻射較強 (D)境內湖泊眾多。
37. 附圖是東南亞氣候分布圖，下列哪張氣候圖可能是甲區？



- (A) (B) (C) (D)
38. 近年來東南亞國家的加工出口業日益興盛，是由於憑藉著該區哪些優勢？(甲)廉價勞力(乙)便利的交通(丙)技術進步(丁)資金充裕 (A)甲、乙 (B)甲、丙 (C)乙、丁 (D)丙、丁。
39. 印度半島西北方的塔爾沙漠，形成的主因為何？(A)副熱帶高壓沉降 (B)涼流流經 (C)距海遙遠 (D)山脈阻擋季風。
40. 在印度的傳說中，哪條河川可以洗去罪惡，因而附近居民的飲食、沐浴、洗滌，都取自此河水？(A)印度河 (B)恆河 (C)薩爾溫江 (D)紅河。
41. 東南亞可分為中南半島及南洋群島兩部分，下列兩區域內的國家配對，何者正確？(A)中南半島—印尼 (B)中南半島—汶萊 (C)南洋群島—緬甸 (D)中南半島—柬埔寨。
42. 小康到某地旅遊，發現當地隨處可見金碧輝煌、尖角高聳的廟宇及佛塔。請問：小康是到下列何國旅遊？(A)菲律賓 (B)新加坡 (C)泰國 (D)孟加拉。
- ※下圖為南亞簡圖，圖中 A~F 為國家，甲~丁為都市。請問：



43. 有「寶萊塢」之稱的城市為何？(A)甲 (B)乙 (C)丙 (D)丁。
44. 想購買南亞著名的「錫蘭紅茶」應該到附圖中哪一個國家去採買？(A)B (B)C (C)E (D)F。
45. 「某個國家中居民多信仰伊斯蘭教；當地農業因氣候乾燥所以不大興盛，僅少數有河水灌溉的地方能種植棉花等作物。」文中敘述應是附圖中哪一個國家？(A)A (B)B (C)C (D)D。
- ※東南亞熱帶栽培業發達，請回答以下問題：
46. 東南亞熱帶栽培業發達的原因，除了氣候因素外，主要是下列哪項因素所影響？(A)曾淪為歐美殖民地 (B)海岸線曲折，多良港 (C)眾多且勤奮的華人 (D)地形多丘陵和山地
47. 關於熱帶栽培業的特徵，以下敘述何者正確？(A)須發展大規模灌溉水利設施 (B)其經營方式採農牧兼營且輪耕 (C)栽種的作物屬於市場導向的經濟作物 (D)屬於粗放式的農業經營。
- ※附圖為東南亞簡圖，A~J 代表國家。請回答下列問題：
48. 圖中哪個地區位居歐、亞、非、澳四洲大洋航線的要衝，海運地位重要，是東南亞第一大港？(A)F (B)G (C)A (D)H。
49. 哪一個國家曾受西班牙與美國的殖民，目前以信奉天主教為主，英語也非常普及？(A)A (B)F (C)G (D)J。
50. 哪一個國家因受中國文化的影響最深，因此生活習慣和臺灣較為接近？(A)A (B)B (C)E (D)H。

