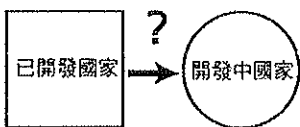


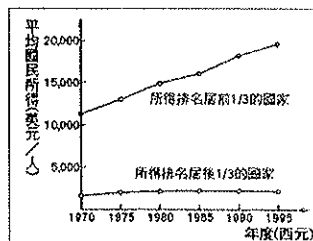
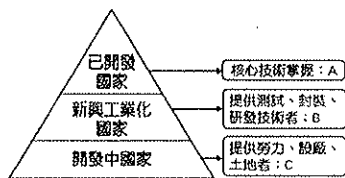
一、單題（每格 2 分，共 68 分）

年 班 座號： 姓名：

- 西元 2003 年 SARS 流行時對人類健康造成相當大的威脅，當時 SARS 由起源地中國向外傳播，其擴散到美國的速度卻比到印度快，主要原因為何？(A)美國距離中國較近 (B)美國與中國往來較密切 (C)美國的領土較印度大 (D)美國的人口較印度多
- 倫敦莎士比亞劇院宣布，為呈現戲劇大師莎翁的國際魅力，並配合西元 2012 年倫敦奧運文化節，將首次邀請 37 個國家劇場，以各國道地語言演出莎翁作品。此種現象最足以說明何種概念？ (A)文化融合 (B)貧富差距 (C)交通革新 (D)國際分工
- 因時空距離的縮短，使兩地之間的互動更加頻繁，形成「地球村」。請問：促成今日時空距離縮短的主要因素為下列何者？ (A)工業的發展 (B)商業的繁榮 (C)交通的革新 (D)農村的改革
- 在全球化的浪潮下，世界各地的局勢可謂「牽一髮而動全身」，每個人都無法置身於事外。請問：下列哪一例子並『不』適合用來說明全球化的現象？(A)希臘負債問題引起臺灣股市下跌(B)美國人士發起「占領華爾街」抗議活動延燒至臺北(C)日本大地震後的核災問題導致歐洲國家訂出廢止核能發電廠的時間表(D)南亞發生大海嘯，造成斯里蘭卡、印尼等地人民生命財產的損失
- 全球化的過程中，世界各國物品快速流通，因此彼此間互相影響。請問：當非洲及南美洲的熱帶雨林地區發生森林大火，哪項商品的價格將會大幅波動？ (A)小麥 (B)稻米 (C)咖啡 (D)茶葉。
- 「美國的軟體公司接下訂單時，可在公司下班後，將設計工作交由遠在印度的分公司著手進行；而印度分公司於下班後，再將設計成果傳回美國公司，如此往返進行，便可在較少的工作天，完成產品的研發設計。」請問：美國軟體公司選擇在印度設立分公司的原因，『不』包括下列何者？(A)經度差距 (B)工資低廉 (C)緯度相近 (D)英語、數學優勢
- 在全球化時代，一些先進國家的企業，會運用大量資金和技術建立跨國企業。請問：下列關於跨國企業的敘述，何者正確？ (A)專指貿易公司 (B)目的是為獲得較多的利益 (C)可縮小開發中國家貧富差距大的問題 (D)完全不利於開發中國家的經濟發展



快樂客運	
往永寧市	7:00 - 22:00 每 10 分鐘一班
往永福市	7:00 9:00 11:00 13:00 15:00 17:00
往永興市	7:00 - 18:00 每 30 分鐘一班
往永安市	7:00 8:00 9:00 10:00 11:00 12:00 13:00 14:00 15:00 16:00 17:00



- (圖 1) (圖 2) (圖 3) (圖 4)
- 王教授準備一張世界經濟發展示意圖(圖 1)。圖中箭頭上方要填入已開發國家對開發中國家的主要輸出項目，則下列哪個答案較不適合？(A)資金 (B)技術 (C)工業產品 (D)勞工
  - (圖 2) 是學力鎮的公車時間表，站牌中四個城市與學力鎮的距離皆相等。若只考慮起點和終點的運輸需求，哪一個城市和學力鎮的時間與空間距離因此顯得最短？(A)永寧市 (B)永福市 (C)永興市 (D)永安市。
  - (圖 3) 是地理老師在解釋國際分工概念時所使用輔助說明的圖示。下列哪個國家或地區與圖中的「C」最相符？(A)日本 (B)越南 (C)臺灣 (D)新加坡。
  - (圖 4) 是西元 1970~1995 年期間，依照各國平均國民所得進行分組後的部分資料。根據圖中內容判斷，下列敘述何者正確？(A)各國的第三級產業日益發達 (B)國家之間貧富差距擴大 (C)各國高度依賴國際貿易 (D)國際分工日趨顯著。
  - 承上題，運輸和通訊技術的進步，帶來全球化的效應，使產品在國際市場的競爭更加劇烈。請問：下列哪項因素是造成上題結果的主因？(A)交通的難易 (B)技術的高低 (C)勞工的多寡 (D)原料的豐缺
  - 全球工業化地區不斷擴展，但資源分配不均，有些地區對第一級產業的輸出依賴性仍高，尤其以下列哪些地區最為明顯？(A)北美洲、歐洲 (B)歐洲、亞洲 (C)亞洲、非洲 (D)非洲、中南美洲
  - 某些國家為了發展經濟，會刻意降低環保护法規，來吸引外商投資。請問：下列哪個國家最可能會採取此方法吸引外資？(A)日本 (B)美國 (C)澳洲 (D)柬埔寨
  - 區域性經濟組織旨在加強內部經濟合作，以增加國際競爭力。下列哪一個現象最能說明此概念？(A)法國、波蘭合作的汽車廠 (B)臺灣的農產品外銷至歐洲 (C)德國汽車在中國製造組裝 (D)在矽谷工作的印度工程師
  - 區域經濟興起的今日，日本家電大廠 SONY 為供應美國市場的需求，以壓低成本並順利運銷美國各地，下列何處是其選擇裝配廠設廠的最有利區位？(A)美國五大湖區 (B)加拿大東岸 (C)墨西哥北部 (D)巴西聖保羅
  - 媒體報導：「日本為解決核災輻射水問題，計畫將低污染的萬噸輻射水排入大海，但此舉引發諸多國家抗議，擔心影響經濟海域的漁業資源。」若日本欲藉由國際組織來解釋其處理過程，則下列哪個組織最適當？(A)EU (B)IMF (C)NAFTA (D)APEC。
  - 下列哪個國家既參加了亞太經濟合作會議，又是北美自由貿易區的成員，活躍於國際貿易舞臺上？(A)日本(B)美國(C)英國(D)菲律賓。
  - 下列何者為世界三大經濟版圖的共同點？(A)大多在高緯區 (B)大多在西半球 (C)大多在北半球 (D)大多瀕大西洋
  - 某一財經雜誌上的專欄文章如下：「西元 1997 年，由於受到東亞金融風暴的侵襲，南韓發生嚴重的經濟危機，當時韓圓兌美元的價位在一個月之間跌了 9%，造成外資陸續撤出南韓股市，財團紛紛倒閉。南韓政府決定向某一國際經濟組織申請紓困貸款，以求擺脫愈滾愈大的金融危機，而此組織支援南韓的紓困金額也創下該組織有史以來最龐大的數字。」請問：上述文章中的「國際經濟組織」最可能為何？(A)APEC (B)WBG (C)IMF (D)WTO
  - 西元 2002 年，中國大陸與此一區域國家協簽署了「中國——東協全面經濟合作框架協議」，決定在西元 2010 年正式成立中國——東協自由貿易區(CFTA)，也就是俗稱的「東協十加一」；且愈來愈多的國家包含在內，屆時將成為世界上人口最多的自由貿易區。請問：上述與中國大陸、日本、南韓合組自由貿易區的區域為下列何者？(A)南亞 (B)東南亞 (C)東非 (D)東歐
  - 老師請同學們分組蒐集全球暖化的議題並提出報告。下列哪組的報告不符合主題？(A)甲組：傳染病擴張 (B)乙組：水、旱災增加 (C)丙組：地層下陷加劇 (D)丁組：動、植物棲地破壞
  - 全球暖化最顯著的影響是海面上升，預估在西元二十一世紀末，全球平均海水面將上升 0.09~0.88 公尺。海面上升間接的加重海潮與海水倒灌，對濱海地區的衝擊。請問：若海面上升，將對下列哪個城市威脅最大？(A)巴黎 (B)北京 (C)參加 (D)威尼斯

24. 下列哪一國際公約的主旨是為了規範工業國家的碳排放的減量與時間表，並將氣溫上升限制為攝氏2度？ (A)《哥本哈根議定書》 (B)《南極公約》 (C)《蒙特婁公約》 (D)《地球高峰議定書》。
25. 環境變遷使得各地發生區域性氣候變遷，導致各地的旱、澇等自然災害加劇。請問：下列何種災害是較『不』可能發生的異常狀況？ (A)巴基斯坦長期水患 (B)泰國曼谷夏季洪患 (C)內蒙古發生嚴重旱災 (D)美國東北部的大雪災
26. 專家指出水資源將成為未來各地區爭奪的資源，且可能造成區域性的衝突。請問：世界可使用的可再生水資源正快速減少，其主要的影響因素為下列哪些項目？ (甲)人口增加 (乙)環境汙染 (丙)臭氧層破壞 (丁)地層下陷 (A)甲乙 (B)甲丁 (C)乙丙 (D)丙丁。
27. 西亞的戰亂不斷，其中哪些國家因為爭奪約旦河水源的控制權而引起戰爭？ (A)伊朗、伊拉克 (B)阿富汗、伊拉克 (C)以色列、敘利亞 (D)沙烏地阿拉伯、土耳其。
28. 河川汙染是現在各國關注的問題之一，河川受汙染的程度通常多與人口數量、經濟開發、降水多寡等因素有關。依此判斷，下列哪條河川目前受到汙染的程度會最小？ (A)長江 (B)印度河 (C)剛果河 (D)萊茵河
29. 目前國際間的跨國性水資源紛爭多發生在西亞與非洲地區，主要是因為這兩個地區的自然環境具有下列何種特徵？ (A)氣候乾燥 (B)地形不佳 (C)位於內陸 (D)乾、溼季分明
30. 水資源缺乏是許多地區面臨的嚴重問題，為有效利用有限的水資源，下列哪些是比較正確的做法？ (甲)使用循環水 (乙)減少工業用水 (丙)多製造人造雨 (丁)設置汙水處理廠 (A)甲乙丙 (B)甲乙丁 (C)甲丙丁 (D)乙丙丁
31. 巴西熱帶雨林的砍伐、消失是當今全球共同關注的問題。請問：熱帶雨林的消失，會對全球環境帶來下列哪些問題？ (甲)生物棲息地消失 (乙)全球暖化 (丙)海水面下降 (丁)紫外線輻射高 (A)甲乙 (B)乙丙 (C)乙丁 (D)丙丁
32. 近年為達成永續發展的目標，世界上許多國家的保育工作，特別重視下列哪項措施？ (A)生物棲息地的維護、復育 (B)圈養生物的復育、維護 (C)外來物種的維護、復育 (D)農業地域的復育、維護
33. 巴西境內亞馬孫盆地的雨林面積廣大，是地球生物的基因庫，但境內雨林因為各種人類活動而大量消失。造成雨林消失的人為因素中，不包括下列何者？ (A)道路的興築 (B)針葉林的砍伐 (C)肉牛牧場的闢建 (D)商業化農作的種植
34. 下列關於「溼地」的敘述，何者正確？ (A)有「地球之肺」之稱 (B)生物多樣性更勝熱帶雨林 (C)沿海開發養殖區能增加溼地面積 (D)具有淨化汙水、涵養地下水等功能。

## 二、題組 (每格2分，共32分)

\*附表是美國某汽車公司的零件供應關係，該公司的汽車零件在各地生產，最後再將這些零件運送至汽車廠裝配。請問：

零件	製造地
避震器	西班牙
方向盤	英國
剎車系統	巴西
車門	墨西哥

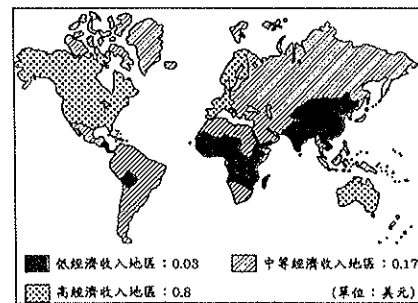
35. 表中訊息最適合以下列哪一概念來說明？ (A)國際貿易 (B)國際分工 (C)國際交流 (D)國際市場。
36. 汽車公司採取此經營模式的主要目的為何？ (A)降低生產成本 (B)避免貧富差距 (C)分散企業風險 (D)方便行銷宣傳。
37. 由表中各零件的製造地來分析，主要集中在哪兩大洲？(A)亞洲、歐洲 (B)歐洲、美洲 (C)美洲、非洲 (D)非洲、大洋洲

\*下列是全球化下的各種現象，請將正確答案填入適當空格中。A. 經濟依賴程度高 B. 環境衝擊 C. 文化衝突 D. 人力國際流動

38. 小時候我常聽爸媽說：「兒子啊，乖乖把飯吃完，因為中國印度的小孩沒飯吃。」現在我則說：「女兒啊，乖乖把書唸完，因為中國跟印度的小孩正等著搶你的飯碗。」

39. 美國雷曼兄弟銀行破產，引發全球金融風暴。
40. 美國蘋果公司的高科技產品由中國代工廠生產，卻爆發汙染環境的「毒蘋果事件」。
41. 麥當勞在印度販售用牛油炸的食品。

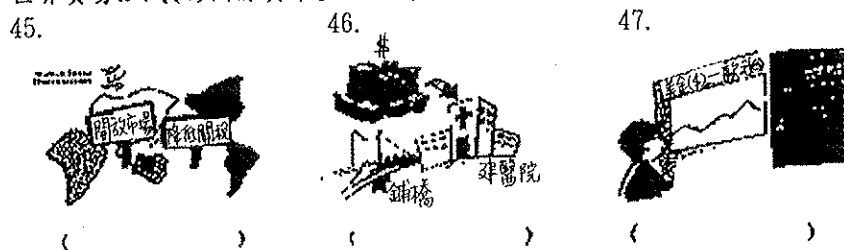
\*全球經濟體系逐漸形成，國際間的貿易活動量也大幅增加。附圖是在每一美元的國際貿易中，各地區所獲得貿易的分配狀況。請問：



42. 高經濟收入地區主要以哪兩個經濟組織的成員國為主？ (甲)北美自由貿易區 (乙)歐盟 (丙)亞太經濟合作會議 (丁)石油輸出國家組織 (A)甲乙 (B)甲丁 (C)乙丁 (D)丙丁。
43. 有關圖中低經濟收入地區的敘述，下列何者錯誤？ (A)熱帶非洲經濟收益低的原因之一，與殖民背景有關 (B)中國、印度雖屬低經濟收入地區，但近年來經濟發展迅速 (C)南美洲因加入北美自由貿易區，使得經濟發展程度較非洲高 (D)低經濟收入地區以輸出原料和燃料為主。

44. 根據圖中內容判斷，下列哪一項敘述最正確？ (A)已開發國家致力降低貧富差距 (B)開發中國家多為貿易轉運中心 (C)中等經濟收入地區的貿易獲利最大 (D)貧窮國家未從貿易中大量獲利。

\*昔日以國家為範圍的貿易和投資活動，逐漸在跨國界的貿易組織聯繫下結合起來。目前國際經濟組織主要包括(A)世界銀行(B)世界貿易組織(C)國際貨幣基金。請在下列圖示中填入正確的代號。



\*聯合國世界氣象組織表示：「受到去年冬天到今年3月底大氣平流層溫度過低的影響，北極上空臭氧層破損程度達到40%，超過往年紀錄，北極圈附近紫外線輻射近期將高於平常。」請問：

48. 上述消息發布後，哪個國家的人民最需要注意氣象局的紫外線指數？ (A)芬蘭 (B)埃及 (C)中國 (D)紐西蘭。
49. 造成臭氧層破洞增大，入射地表的紫外線增加，是因為含有哪種成分的物品被過度使用？ (A)碘化銀 (B)氯化鈉 (C)氧化銅 (D)氟氯碳化物。
50. 近年來南極的臭氧層破洞問題已逐漸受到控制，這應歸功於下列哪項國際協議的通過？ (A)《南極條約》 (B)《華盛頓公約》 (C)《京都議定書》 (D)《蒙特婁公約》