

一、選擇題：每題2分

- () 若從歐洲搭乘飛機前往美洲，依最短距離的飛行路線來看，必須通過哪一個海域？(A)太平洋 (B)印度洋 (C)地中海 (D)北極海。
- () 下列有關南極地區的敘述，何者正確？(A)以海洋為中心 (B)為全球最低溫處 (C)原住民為因紐特人 (D)世界各國積極宣示主權。
- () 在世界各大洲中，下列哪一洲距離南極大陸最近？(A)亞洲 (B)非洲 (C)歐洲 (D)南美洲。

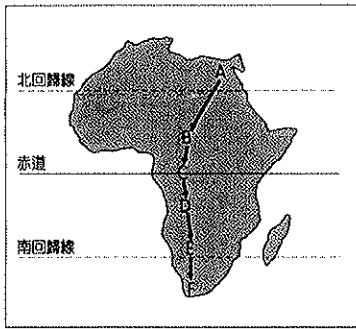
二、題組：每題2分

(一) 附圖為非洲的氣候區圖，請回答下列問題：

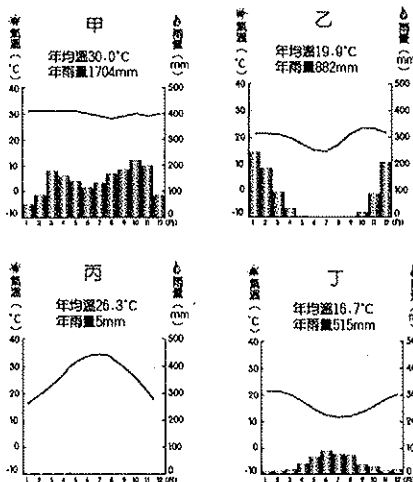


- () 「尋找土地→焚燒林木→播種→收成→三、五年後地力枯竭→另尋新土地……」此種耕作分布哪一區？(A)甲 (B)乙 (C)丙 (D)丁。
- () 在坦尚尼亞的塞倫蓋提保護區，每年進入乾季時，可見識到動物遷徙景觀，此保護區的氣候類型是圖中何者？(A)甲 (B)乙 (C)丙 (D)丁。

(二) 請參考圖(一)和圖(二)內容並回答下列問題：



▲圖(一)



▲圖(二)

- () 圖(一)中C區的氣候類型，參照圖(二)應為哪一種氣候圖？(A)甲 (B)乙 (C)丙 (D)丁。
- () 圖(一)中D區的氣候類型，參照圖(二)應為哪一種氣候圖？(A)甲 (B)乙 (C)丙 (D)丁。
- () 圖(一)中F區的氣候類型，參照圖(二)應為哪一種氣候圖？(A)甲 (B)乙 (C)丙 (D)丁。
- () 圖(一)中的A區，其氣候的成因為何？(A)距海較遠 (B)緯度較高 (C)副熱帶高氣壓籠罩 (D)

四周高山環繞。

- () 非洲的氣候帶與天然植物帶的分布，大致呈現南北對稱，與下列哪個因素最相關？(A)洋流 (B)季風 (C)地形 (D)緯度。
- () 從圖上C區走到F區，其氣候特徵有何變化？(A)終年多雨→夏雨冬乾→夏乾冬雨→終年少雨 (B)終年少雨→夏雨冬乾→夏乾冬雨→終年多雨 (C)終年多雨→夏雨冬乾→終年少雨→夏乾冬雨 (D)終年少雨→夏雨冬乾→終年多雨→夏乾冬雨。

(三) 茉莉花革命指發生於突尼西亞反政府示威導致政權倒台的事件。2010年12月17日，一名26歲青年自焚，觸發大規模街頭示威爭取民主，導致總統政權倒台，成為○○○世界中第一場因人民起義導致推翻現政權的革命。引發阿爾及利亞、利比亞、埃及等國家的民眾效法。請問：

- () 文中所述的國家位於非洲何處？(A)東部非洲 (B)中部非洲 (C)西部非洲 (D)北部非洲。
- () 革命之火延燒○○○世界，主要的族群為下列何者？(A)拉丁人 (B)蘇丹人 (C)阿拉伯人 (D)班圖人。
- () 承13題，文中○○○世界因族群與地緣關係和哪兩個地區往來密切，呈現多元文化特色？(A)南歐、西亞 (B)南歐、南亞 (C)西歐、北美 (D)東歐、北美。
- () 茉莉花革命的發生，對國際的經濟活動有何影響？(A)咖啡產量減少 (B)油價上漲 (C)棉花價格下跌 (D)鑽石價格上漲。
- () 欲將此處的物產經紅海輸往亞洲地區必須經過何處？(A)蘇伊士運河 (B)巴拿馬運河 (C)麻六甲海峽 (D)直布羅陀海峽。

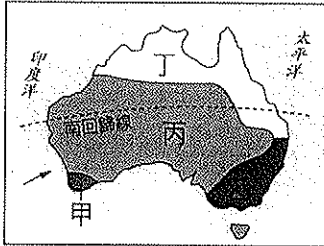
(四) 李文斯頓於1840年12月8日從英國，前往開普敦傳教。李文斯頓穿越喀拉哈里沙漠，從喀拉哈里到撒哈拉間的非洲，他帶來豐富而準確的資料。認為亞伯特湖與維多利亞湖就是尼羅河的源頭，其足跡也抵達坦干伊喀湖。探險的過程困難重重及致命疾病肆虐。也看到歐洲人對於當地人的待遇，讓他對黑人的遭遇感到同情。請問：



- () 李文斯頓前往開普敦傳教，該城市位於非洲哪一區？(A)東非 (B)西非 (C)南非 (D)北非。
- () 承17題，該地區為非洲經濟較發達的地區，經濟發達的原因為何？(甲)礦產豐富 (乙)勞力眾多 (丙)動力充足 (丁)歐裔白人的背景 (A)甲乙 (B)乙丙 (C)丙丁 (D)甲丁。
- () 承18題，該國曾經實施種族隔離政策，造成哪些族群對立？(A)英國後裔 VS. 法國後裔 (B)黑人 VS. 白人 (C)黑人 VS. 黃種人 (D)伊斯蘭教徒 VS. 基督教徒。
- () 文中提到艾伯特湖與維多利亞湖就是尼羅河的源頭，尼羅河位於圖中哪一個地點？(A)甲 (B)乙 (C)丙 (D)丁。
- () 位於尼羅河的亞斯文高壩，在興建完成後為埃及帶來的影響層面『不』包括下列何者？(A)河口淤泥減少，三角洲面積縮減 (B)調節河水，氾濫不再 (C)水力發電量大，促使重工業發展 (D)土壤沃力降低，需大量使用肥料。


22. () 文中提到許多的湖泊，多位於那一區域內？(A) 東非 (B) 西非 (C) 南非 (D) 北非。
23. () 承22題，此地區湖泊形成的成因主要為何？(A) 風蝕作用 (B) 冰蝕作用 (C) 河蝕作用 (D) 斷層作用。
24. () 哪一條河位於雨量豐沛的地區，形成流域面積廣大僅次於亞馬孫河的河流？(A) 甲 (B) 乙 (C) 丙 (D) 丁。
25. () 造成非洲地區疾病問題嚴重的主要因素中，『不』包括下列何者？(A) 醫療設施落後 (B) 廢氣排放嚴重 (C) 缺乏自來水管線 (D) 衛生教育不普遍。
26. () 早期非洲的奴隸買賣多輸往美洲，當西非的黑奴利用海運前往美洲時，運輸船隻必須經過哪一個海域？(A) a (B) b (C) c (D) d。

(五) 附圖為澳洲的氣候分布圖。請依圖回答下列問題：



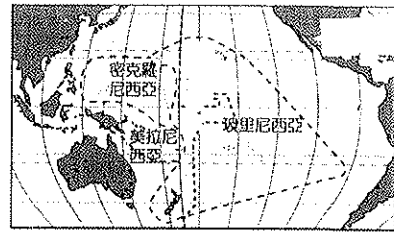
27. () 附圖中丙區的氣候特徵為何？(A) 高溫多雨 (B) 夏雨冬乾 (C) 夏乾冬雨 (D) 乾燥炎熱。
28. () 造成此地區氣候特徵，主要原因為何？(甲) 終年受西風吹拂 (乙) 背東南信風 (丙) 迎東南信風 (丁) 副熱帶高氣壓籠罩 (戊) 受行星風帶隨季節移動影響。(A) 甲丁 (B) 乙丁 (C) 丙丁 (D) 甲戊。
29. () 附圖中哪一區的氣候和地中海地區相似，是陽光普照、氣候宜人的地區？(A) 甲 (B) 乙 (C) 丙 (D) 戊。
30. () 附圖中哪一個地區較為溼潤，是澳洲的精華區？(A) 甲 (B) 乙 (C) 丙 (D) 丁。
31. () 承30題，該精華區氣候溼潤的原因為何？(甲) 迎東南信風 (乙) 西風吹拂 (丙) 風帶季移 (丁) 暖流經過 (戊) 對流旺盛。(A) 甲丁 (B) 乙丁 (C) 丙丁 (D) 甲戊。
32. () 澳洲的養牛業及養羊業分布地區不同，與下列哪一因素有關？(A) 氣溫高低 (B) 畜牧地大小 (C) 勞力狀況 (D) 降雨多寡。

(六) 附圖為北極地區地圖。請問：



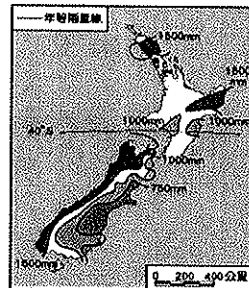
33. () 北極地區是指由大陸包圍的北極海所形成。包圍北極海的大陸『不』包括哪一洲？(A) 非洲 (B) 歐洲 (C) 亞洲 (D) 北美洲。
34. () 近來西北航道的暢通與下列哪個現象密切相關？(A) 海洋汙染使海冰融解 (B) 暖流改變浮冰的位置 (C) 全球暖化使氣溫改變 (D) 船隻破冰設備的進步。
35. () 在北極海海床發現蘊含石油、天然氣等豐富資源，俄羅斯還自在海床插上特製國旗，以宣示該國主權，此舉引起周圍其他國家不滿。此周圍國家『不』包括下列何者？(A) 美國 (B) 挪威 (C) 加拿大 (D) 中國。

(七) 附圖為大洋洲地區三大島群的簡圖。請問：



36. () 大洋洲的這些島嶼分佈於下列哪一個海洋當中？(A) 大西洋 (B) 太平洋 (C) 印度洋 (D) 地中海。
37. () 三大島群的分界線為下列何者？(A) 國際換日線、北回歸線 (B) 北回歸線、南回歸線 (C) 赤道、本初子午線 (D) 赤道、國際換日線。
38. () 萬那杜曾被譽為是世界上最快樂的國家，但日前遭熱帶氣旋『帕姆』重創，萬那杜位於南緯十三度到二十一度、東經一百六十六度到一百七十一度間，依據絕對位置判斷，該國為於哪一島群？(A) 玻里尼西亞 (B) 密克羅尼西亞 (C) 美拉尼西亞。
39. () 大溪地為度假勝地，當地使用何種官方語言？(A) 法語 (B) 英語 (C) 葡萄牙語 (D) 西班牙語。
40. () 大洋洲的島嶼面積通常不大，其主要的經濟活動為何？(A) 礦業 (B) 觀光業 (C) 養殖業 (D) 畜牧業。
41. () 夏威夷是美國在海外的一洲，位於下列哪一島群？(A) 美拉尼西亞 (B) 密克羅尼西亞 (C) 玻里尼西亞
42. () 大洋洲的島嶼面積通常不大，因溫室效應海平面上升，導致國土消失，導致產生亡國問題的國家為何？(A) 吐瓦魯 (B) 紐西蘭 (C) 夏威夷 (D) 巴布亞紐及內亞。
- (八) 庫克規劃利用元旦假期到紐、澳地區旅行，體驗紐、澳獨特的自然景觀與風俗民情。請問：
43. () 庫克到達澳洲時，當時正處於何種的季節？(A) 春季 (B) 夏季 (C) 秋季 (D) 冬季。
44. () 庫克接觸到澳洲許多特有種的野生動物，如袋鼠、無尾熊，造成此現象與何種因素關係最大？(A) 位置孤立 (B) 植被多樣 (C) 涵蓋緯度帶大 (D) 面積廣大。
45. () 庫克發現在澳洲工業的興起，和該地區何種工業發展區位條件優越關係最大？(A) 技術進步 (B) 勞工眾多 (C) 資金充足 (D) 原料充足。
46. () 小明到了紐西蘭的北島觀光，下列有關該地區的敘述，何者正確？(A) 緯度較高 (B) 地勢平坦 (C) 人口較南島少 (D) 火山地形。

(九) 附圖是紐西蘭的年降雨量分布圖。請問：



47. () 紐西蘭氣候全年溫和溼潤有雨，主要原因為何？(A) 季風盛行 (B) 對流旺盛 (C) 西風吹拂 (D) 迎東南信風
48. () 圖中雨量的分布主要受哪兩項因素影響？(A) 緯度、洋流 (B) 地形、風向 (C) 緯度、距海遠近 (D) 地形、距海遠近。
49. () 圖中紐西蘭最溼冷的地區在何處？(A) 北島東岸 (B) 北島西岸 (C) 南島東岸 (D) 南島西岸。
50. () 紐西蘭的雨量豐富，以畜牧業為經濟基礎，採用粗放方式的主要原因為何？(A) 勞力不足 (B) 放牧地狹小 (C) 距市場遠 (D) 地形崎嶇。