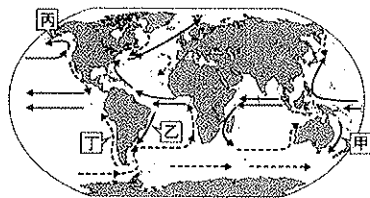


01. 中國新疆地區近年因為發展某項產業，成為中國新興的工業地帶，請問帶動新疆工業發展的產業為何？(A)鋼鐵工業 (B)高科技工業(C)棉紡織工業(D)石化工業。
 02. 下表關於『藏南縱谷』與『塔里木盆地』的比較，正確的有幾項？(A)一項(B)二項(C)三項(D)四項。

項目	(甲)氣候	(乙)地形	(丙)產業	(丁)宗教
藏南縱谷	高地氣候	第一級	綠洲農業為主	藏傳佛教
塔里木盆地	溫帶沙漠	第二級	河谷農業為主	伊斯蘭教

03. 若依地表的起伏，地形主要包括(甲)山地(乙)高原(丙)丘陵(丁)平原(戊)盆地五類，其中哪兩種地形各占全球陸地總面積約三分之一？(A)甲乙(B)丙丁(C)乙丁(D)甲戊。
 04. 近年來內蒙古地區因為現代環境的變化而開始有不同的發展，請問以下關於內蒙古地區的變化敘述，何者正確？(A)從定居放牧轉為游牧(B)從畜牧業轉為農業(C)開採石油資源發展石化工業(D)開採鐵礦發展鋼鐵工業。
 05. 中國哪一個地形區因為天然礦產資源相當豐富，因而被稱為「聚寶盆」？(A)青海湖盆地(B)準噶爾盆地(C)塔里木盆地(D)柴達木盆地。
 06. 下列有關青藏地區的敘述何者錯誤？(A)日喀則空氣稀薄、雲量少，日照充足，而有「日光城」之稱(B)地勢高聳，有「寒漠」之稱(C)食用糌粑和肉、乳為主 (D)飼養犛牛進行山牧季移。
 07. 根據中國官方「新華社」報導，西藏觀光人數每年約四百萬人次，為西藏帶來相當大的收益，請問西藏觀光客增加的主要原因與下列何者密切相關？(A)全球暖化使得氣候較為溫暖 (B)設立國家級自然保護區 (C) 宗教聖地吸引世界信眾朝拜 (D) 鐵路的建設使交通更為便利。
 08. 「內蒙古自治區的畜牧活動型態是『東放牧西游牧』，主要受到□□□□的影響。」請問：敘述中的□□□□應填上哪一項因素？(A)人口多寡(B)雨量多寡(C)氣溫高低(D)地勢高低。

09. 圖中四股洋流中，何者的性質與其他三者不同？(A)甲(B)乙(C)丙(D)丁。



10. 地球各地有不同的地貌型態，這是受到內、外營力交互作用的影響。下列哪一地貌形成的主要營力與其他三者不同？(A)黃土高原(B)河西走廊(C)印度大平原(D)美國大峽谷。
 11. 下表中有關四種形式的住屋比較，何者錯誤？(A)甲(B)乙(C)丙(D)丁。

住屋類型				
形成原因	(甲) 垂直壁立	冰天雪地	高溫多雨	逐水草而居
地區	黃土高原	(乙) 北歐	(丙) 東南亞	(丁) 青藏高原

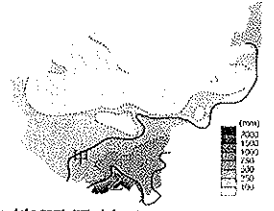
12. 下列關於地球上陸地與海洋的敘述何者正確？(A)海洋面

積佔全球面積的比例為 29%(B)北半球的陸地面積小於海洋面積(C)南半球的海洋面積小於陸地面積(D)陸半球的中心點位於紐西蘭。

13. 中國分為南部、北部、西部三大地區，其中西部地區就其位置來看，最大的功能為何？(A)海陸交接，貿易興盛 (B)東、西方文化交流的通道(C)以游牧、山牧季移等畜牧為生(D)礦產豐富，工商業發達。

貳、題組

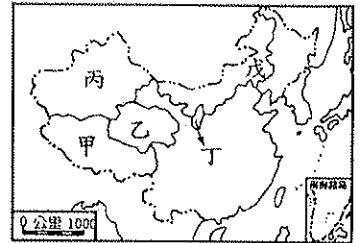
◎下圖為中國西部區域的年降水量分布圖。請回答 14-15 題：



14. 圖中的「甲線」可能為多少毫米等雨量線？(A)250mm (B)500mm (C)750mm (D)1000mm。
 15. 乙區降水來源是哪一個海洋？(A)太平洋(B)大西洋(C)印度洋(D)北極海。

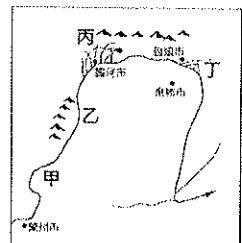
◎右圖為中國西部地區的簡圖。請回答 16-19 題：

16. 西部地區因少數民族族群眾多，為適應當地風俗民情，中國多設立自治區管理。請問有關圖中代號所代表的自治區，何者正確？(A)甲：新疆維吾爾自治區(B)乙：內蒙古自治區(C)丙：西藏自治區 (D)丁：寧夏回族自治區



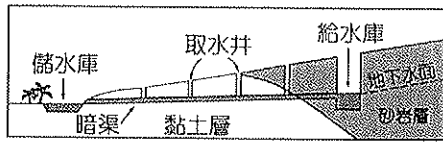
17. 下列敘述何者是戊區的景觀？(A)火燄山是西遊記中孫悟空三借芭蕉扇的故事背景(B)那達慕大會是重要的節慶活動(C)哈薩克族過著山牧季移的生活(D)「可可西里」自然保護區的天然美景及生態。
 18. 「將經典或咒語書寫於長布片上，並藏於經筒中，稱為『經輪』，以手或藉由風車、水車之力，使經輪旋轉，稱為『轉經輪』。當地居民因為深信生命輪迴、靈魂轉世，想藉此『轉經輪』求得來世的幸福。」請問此種『轉經輪』最可能盛行於圖中哪一民族？(A)甲(B)乙(C)丙(D)丁。
 19. 哪一個地區因鄰近中亞，成為中國與中亞國家貿易的窗口，同時在種族、宗教、生活習慣與漢人衝突下，長期以來獨立運動暗潮洶湧？(A)甲(B)丙(C)丁(D)戊。

◎右圖為中國河套簡圖，○○為河套地區提供農業灌溉水源，使該地農業發達，因而有「塞上江南」之稱。請回答 20-23 題：



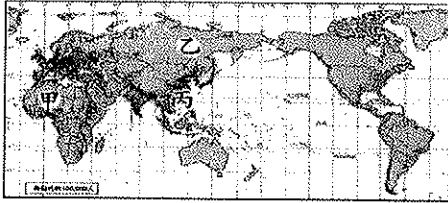
20. ○○是下列哪一條河川？(A)黃河(B)塔里木河(C)長江 (D)珠江。
 21. 塞上江南位於圖中何處？(A)甲(B)乙(C)丙(D)丁。
 22. 「塞上江南」美稱的由來為下列何者？(A)氣候溫暖、四季如春有如江南地區(B)渠道縱橫、水運交通發達，有如「水鄉澤國」的江南(C)主要栽種江南地區的代表糧作稻米而著稱(D)淡水漁業發達有如江南地區。
 23. 河套地區發展農業活動需要特別注意下列哪項環境問題？(A)土壤鹽鹼化 (B)地層下沉 (C)水汙染 (D)草場退化。

◎右圖為中國新疆的水利設施，有「地下運河」之稱。請回答 24-27 題：



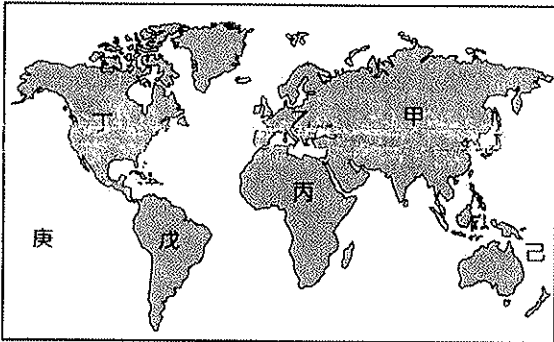
24. 本區種植的作物種類多樣，但其中並不包括下列哪一項？(A)小麥(B)甘蔗(C)棉花(D)哈密瓜。
25. 這種灌溉方式的水源由地下引出，水源的來源為何？(A)雨水(B)湖水(C)河水(D)雪水。
26. 當居民修築這種水利灌溉工程，主要目的是什麼？(A)預防洪澇(B)方便居民取水飲用(C)預防水源被汙染(D)減少水分蒸發損失。
27. 下列哪一句諺語最適合形容新疆的氣候？(A)「朝穿皮襖午穿紗，抱著火爐吃西瓜」(B)「地無三里平，天無三日晴」(C)「一山有四季，十里不同天」(D)「一年無四季，一日見四季」。

◎下圖為世界人口分布圖，請回答 28-29 題：



28. 世界人口多分布在哪個地區？(A)乾熱的沙漠(B)溼熱的雨林(C)乾冷的山地(D)溫溼的平原。
29. 乙區人口稀少的原因為何？(A)地勢平坦(B)地勢陡峻(C)氣候乾熱(D)氣候乾冷。

◎下圖為世界全圖，請回答 30-36 題：

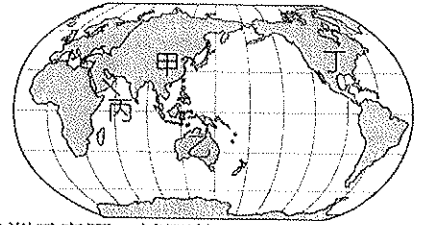


30. 2012 年全球人口總數已超過 70 億人口，全球人口成長速度以哪兩洲最快？(A)甲丁(B)丙戊(C)甲丙(D)乙己。
31. 世界面積「第二大」的洲為？(A)甲(B)丙(C)丁(D)戊。
32. 世界最「高」的山脈在哪一洲？(A)甲(B)乙(C)丁(D)戊。
33. 世界最「長」的山脈在哪一洲？(A)甲(B)丙(C)丁(D)戊。
34. 最大的熱帶雨林區在？(A)甲(B)丙(C)丁(D)戊。
35. 「庚」為哪一海洋？(A)大太平洋(B)大西洋(C)印度洋(D)北極海。
36. 世界最大的沙漠-撒哈拉沙漠在哪一洲？(A)甲(B)丙(C)戊(D)己。

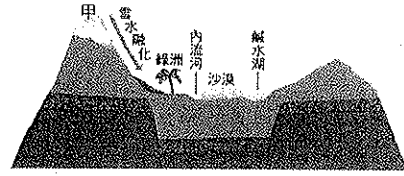
◎世界上有許多宗教，請用(A)基督教 (B)佛教 (C) 伊斯蘭教 (D) 印度教 回答 37-41 題：

37. 不吃牛肉（聖牛）。
38. 每天向麥加向朝拜五次。
39. 世界宗教人口比例最高，佔 33%。
40. 不吃豬肉（認為豬是污穢不潔的動物）。

41. 右圖各地區與主要宗教配對，何者配對正確？(A)甲-基督教(B)乙-佛教(C)丙-伊斯蘭教(D)丁-印度教。



◎下圖為中國河西走廊綠洲示意圖，請回答 42-43 題：

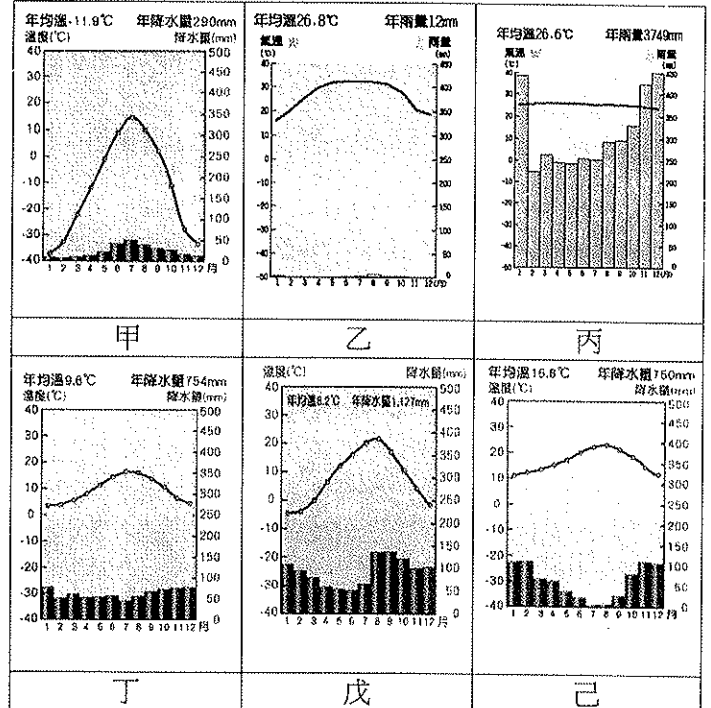


42. 甲是位於河西走廊南側的哪座高山？(A)天山 (B)祁連山 (C)阿爾泰山 (D)崑崙山。
43. 有關河西走廊的描述，何者正確？(A)在早期古絲路貿易商隊多以犛牛為主要交通工具(B)距海遙遠，使得當地以溫帶草原氣候為主(C)敦煌、武威、張掖等城市興起與礦產資源豐富相關(D)地塹地形的成因與斷層作用有關。

◎受緯度、海陸分佈、洋流和地形影響，全球氣候呈現多樣類型，請回答 44-50 題：

44. 下列何者不是出現在熱帶區域的氣候類型？(A)雨林(B)莽原(C)沙漠(D)海洋性。
45. 下列何者不是出現在溫帶區域的氣候類型？(A)莽原(B)地中海型(C)沙漠(D)大陸性。
46. 對於「海洋性氣候」的描述，下列何者較為正確？(A)全年有雨，年溫差小(B)夏乾冬雨，年溫差大(C)終年高溫多雨(D)全年低溫少雨。
47. 對於「莽原氣候」的描述，下列何者較為正確？(A)夏雨冬乾，全年高溫(B)乾燥少雨，年溫差大(C)全年高溫少雨(D)終年有雨，溫差小。

◎參考下列圖組，請回答 48-50 題：



48. 「甲氣候圖」是屬於何種氣候類型？(A)沙漠(B)地中海型 (C)莽原(D)寒帶。
49. 「己氣候圖」是屬於何種氣候類型？(A)大陸性(B)地中海型(C)莽原(D)季風。
50. 觀察溫度曲線的位置與變化，哪兩張氣候圖是屬於熱帶氣候類型？(A)甲乙(B)乙丙(C)丁戊(D)戊己。