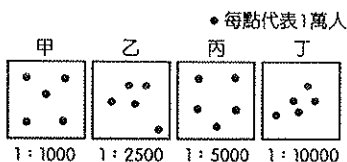


宜蘭縣立羅東國中 103 學年度第二學期七年級地理科第一次段考試卷

選擇題：每題 2 分，請用 2B 鉛筆作答

班級： 座號： 姓名：

- 小祐家裏面的人就業情況如下：爺爺種田、大伯父捕魚、二伯父是鄉公所職員、三伯父開雜貨店、爸爸在銀行上班、媽媽是國小老師、三伯母是醫院護士、小叔是工廠技工，請問：小祐家族，分屬第一、二、三級產業的員工數依次是幾人？
(A) 2、2、4 (B) 2、1、5 (C) 3、2、3 (D) 1、2、5。
- (甲)農夫收割稻穀(乙)量販店販售仙貝(丙)食品廠將稻米製成仙貝。依照第一級、第二級、第三級產業順序排列，正確組合為何？
(A)甲乙丙 (B)丙乙甲 (C)乙丙甲 (D)甲丙乙。
- 臺灣集約農業有哪些特徵？(甲)農地單位面積投入的人力較多(乙)採用大規模機械耕種(丙)單位成本高，缺乏競爭力(丁)單位面積的產量較低
(A)甲丙 (B)丙丁 (C)乙丁 (D)甲丁。
- 一地各級產業活動所占的比例，與該地區的經濟發展程度密切相關。請問：目前臺灣的經濟是以哪一級產業為主體？
(A)第一級 (B)第二級 (C)第二、三級 (D)第一、三級。
- 附圖中哪一個地區的畜牧業活動類型最可能為欄牧？
(A)甲 (B)乙 (C)丙 (D)丁。



- 臺灣早期傳統農家栽種作物種類繁多，農民多自給自足，只求溫飽；現代農家多專業地種植少樣作物，產品則轉為以供應市場需求為導向，以賺取利潤。此種轉變屬於農業的何種現象？
(A)精緻化 (B)專業化 (C)單一化 (D)商品化。
- 臺灣農業的特色敘述中，何者錯誤？
(A)臺灣地形起伏大，因此各地農作物不同，形成多樣化的特色
(B)交通便利，因此可將最新鮮的作物送往各地
(C)由於人們飲食習慣的改變，使稻米生產過剩
(D)目前積極運用高科技生產方式，機械化生產降低成本，提供物美價廉的產品。
- 目前臺灣的畜牧發展狀況為何？
(A)許多牧場發展酪農業，供應市場需求
(B)畜牧業為農家副業
(C)農家資金少，小規模經營以降低風險
(D)一戶人家飼養多樣牲畜以自給自足。
- 附圖為肉鬆從製造到行銷的各個階段，甲、乙、丙、丁哪個階段屬於第二級產業？
(A)甲 (B)乙 (C)丙 (D)丁

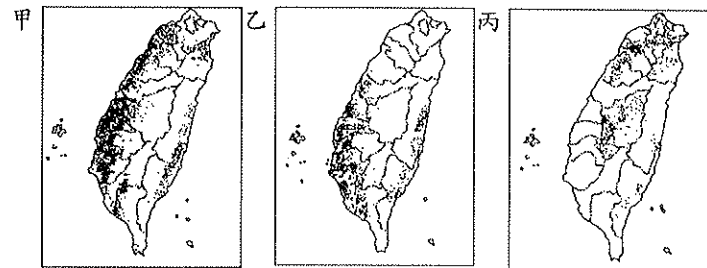
養豬 → 運送 → 加工、包裝 → 運送 → 商人批發、販賣

※臺灣漁業的經營方式可分為：(甲)養殖漁業 (乙)沿岸漁業 (丙)近海漁業 (丁)遠洋漁業。請問 10~13 題：

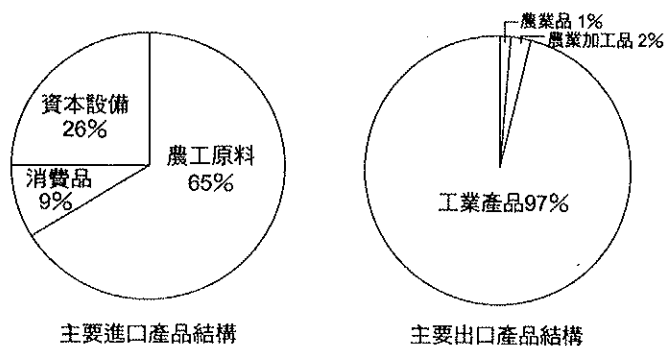
- 臺灣最大漁業產值來源為何？
(A)甲 (B)乙 (C)丙 (D)丁。
- 現今臺灣的漁業活動中，哪兩種已出現過度捕撈的情況？
(A)甲乙 (B)乙丙 (C)丙丁 (D)甲丙。
- 漁民在臺灣海峽捕撈烏魚的活動，應屬於哪一種類型的漁業？
(A)甲 (B)乙 (C)丙 (D)丁。
- 臺灣漁業發達的原因不包括下列哪項？
(A)寒暖流交會 (B)海岸線綿長 (C)大陸棚寬廣 (D)沿海平原面積大。
- 小芝要交一份關於「臺灣森林資源豐富的原因」的報告，她可利用下列哪些圖來做說明？(甲)臺灣人口分布圖(乙)臺灣年降水量分布圖(丙)臺灣緯度分布圖(丁)臺灣等高線分層設色圖
(A)甲、乙 (B)乙、丙 (C)丙、丁 (D)甲、丁
- 臺灣加入世界貿易組織(WTO)後，對農業的衝擊很大。造成衝擊的基本原因為何？
(A)農業生產成本太高(B)農村勞動

- 力老化 (C)政府對農業補助太少 (D)農業過度依賴人力。
- 承上題，農產品市場開放後，臺灣未來最適宜的農業發展方向為何？
(A)開發坡地，增加耕地面積 (B)協助農民轉種高經濟價值農作物 (C)全面休耕，全力朝向發展高科技產業 (D)推廣農業機械化，採粗放式經營，降低成本。

※附圖為臺灣三種重要農作物的分布圖。請問 17~20 題：

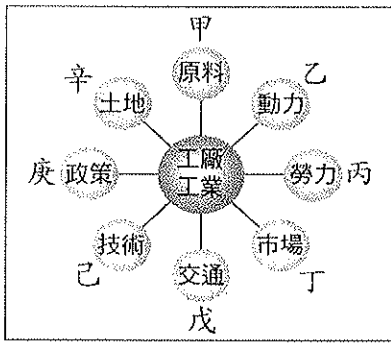


- 「適合生長在多雲霧且排水良好的丘陵地」的是哪一種農作物？
(A)甲 (B)乙 (C)丙。
- 下列哪一項敘述最符合「甲」圖的農作物？
(A)是臺灣製糖的原料 (B)栽培面積不大，但產量高，是重要的經濟作物 (C)目前仍是全臺種植面積最大的作物 (D)由於生產成本提高，種植面積已大幅縮減。
- 「喜歡生長在溫暖多雨的南部平原地帶」的經濟作物為何？
(A)甘蔗 (B)茶 (C)水稻 (D)番薯。
- 承上題，該種農作物的分布最有可能是附圖中哪一張圖？
(A)甲 (B)乙 (C)丙。
- 近年來臺灣部分稻田轉作花卉、蔬果，且大多銷往都市或海外。請問：下列哪一地區是花卉、蔬果專業化生產的重鎮？
(甲)北部地區(乙)中部地區(丙)南部地區(丁)東部地區。
(A)甲乙 (B)乙丙 (C)丙丁 (D)甲丁。
- 「近年來，臺灣有許多農產品出現『量少、價高、多樣、特殊』的情形，如有機高山茶、蝴蝶蘭等，吸引眾人的目光，賺取更高的利潤。」上述最可能是指哪種農業型態？
(A)集約農業 (B)粗放農業 (C)休閒農業 (D)精緻農業。
- (甲)臺灣的進、出口皆以工業產品為主(乙)臺灣自然資源缺乏(丙)臺灣是重要的農業加工出口國(丁)臺灣出口以工業產品為主。附圖可判斷哪些訊息？
(A)甲、乙(B)乙、丙(C)丙、丁(D)乙、丁。



- 在環保意識抬頭下，小志看中可回收再利用的鋁罐商機無限，因此欲投資煉鋁工廠。請問：他此時需要考慮的區位條件主要為何？
(A)鋁礦原料豐富 (B)勞工工資低廉 (C)電力充足便宜 (D)勞工素質較高。
- 臺灣的工業發展大致可分為三個階段：(甲)重工業(乙)輕工業(丙)高科技工業。其發展的先後順序為何？
(A)甲乙丙 (B)甲丙乙 (C)乙甲丙 (D)乙丙甲。

※附圖為工業區位條件示意圖。請問 26~33 題：



26. 工廠區位的選擇最主要是為了下列哪項目的？ (A)降低利潤 (B)提高售價 (C)產量增加 (D)降低成本。
27. 臺灣製造的產品揚名國際，早期主要以成衣、鞋類及加工產品等大量外銷，這些產業的興起大多與設立加工出口區有關。上述產業主要發展於哪個時期？ (A)民國四十年代 (B)民國五十年代 (C)民國七十年代 (D)民國八十年代。
28. 承 27 題，加工出口區的設立主要為吸引外國投資，請問：能吸引外國企業到台投資，主要是因為加工出口區具有哪些區位優勢？ (A)乙己 (B)丙庚 (C)丁戊 (D)辛庚。
29. 目前臺灣許多傳統產業都外移到中國、東南亞，主要是考量哪項區位因素？ (A)甲 (B)乙 (C)丙 (D)戊。
30. 臺灣的鋼鐵工廠主要集中在高雄地區，其優先考慮的因素應為下列何者？ (A)甲 (B)丁 (C)戊 (D)己。
31. 麥當勞、肯德基等速食店的設立，其區位選擇主要是考慮哪一項因素？ (A)乙 (B)丙 (C)丁 (D)戊。
32. 下列四種工廠，哪兩種設廠的區位是相同的？(甲)紙箱工廠 (乙)成衣工廠 (丙)蔬果罐頭廠 (丁)冰淇淋工廠 (A)甲、乙 (B)甲、丁 (C)乙、丙 (D)丙、丁。
33. 承 32 題，這兩種工業設廠，其區位選擇主要是考慮哪一項因素？ (A)乙 (B)丙 (C)丁 (D)戊。
34. 解釋高科技工業的工業區位條件，應加上產品生命週期、技術創新，並配合國際分工或區域分化的概念。請問：目前臺灣在全球高科技工業分工體系中，最主要的優勢為何？ (A)丁 (B)戊 (C)己 (D)辛。
35. 紡織工廠每個月生產一噸布料的成本如附表所列。如果你是老闆，應該選擇哪個地點設廠才可降低成本、提高利潤？ (A)甲 (B)乙 (C)丙 (D)丁。

地區	所需勞力		運輸 (元)	原料 (元)
	勞工 (人)	每人工資 (元)		
甲	1,000	10,000	1,000,000	40,000,000
乙	700	20,000	500,000	50,000,000
丙	500	15,000	300,000	60,000,000
丁	300	12,000	700,000	70,000,000

36. 下列何者考量的工業區位與其他三者不同？ (A)嘉南平原設置製糖廠 (B)宜蘭蘇澳設置魚罐頭工廠 (C)花蓮和平設置水泥廠 (D)高雄設置石化工廠。
37. 商品從被製造出來到進入消費者手中，如果經過的服務業次數與種類愈多，成本就愈高，最終商品的價格也就比較高。依以上敘述，下列哪種銷售店面的商品價格通常較高？ (A)批發店 (B)量販店 (C)零售店 (D)工廠直營店。
38. 量販店如「大潤發」和「家樂福」的設立地點多選在都市郊區，原因有哪些？(甲)空間較寬廣(乙)地價較便宜(丙)人口較眾多(丁)停車較方便(戊)地形較平坦 (A)甲乙丙 (B)甲乙丁 (C)乙丁戊 (D)丙丁戊。

39. 民國六十年後臺灣的國際貿易日趨蓬勃，經濟由入超轉為出超，主要是下列哪項「產業」發展所帶來的成果？ (A)農業 (B)漁業 (C)工業 (D)觀光業。
40. 網路購物是近年來較興盛的消費型態，消費潛力龐大，但此種經營方式有何缺點？ (A)購買物品費時 (B)無法看到實際物品 (C)物品價格較昂貴 (D)購物手續繁複。
41. 經濟全球化是當代世界經濟的重要特徵之一，也是世界經濟發展的重要趨勢。關於臺灣目前的經濟發展，下列敘述何者正確？ (A)提供充足勞力 (B)高雄港成為世界最重要轉口港 (C)提供高技術產品零件的代工 (D)擴大市場，設立海外分公司。
42. 身在臺灣的我們仍然可以接觸到日本的家電、美國的運動用品、韓國的手機通訊等商品，是由於下列哪項因素造成？ (A)供需平衡 (B)國際分工 (C)國際貿易 (D)比較利益。
43. 承上題，與臺灣關係最密切的三個國家為下列何者？(甲)美國(乙)中國大陸(丙)日本(丁)加拿大(戊)英國 (A)甲、乙、丙 (B)乙、丙、丁 (C)丙、丁、戊 (D)甲、乙、丁。
44. (甲)貿易、仲介(乙)金融保險(丙)批發零售(丁)水泥製造(戊)建築營造(己)水電工程(庚)運輸通訊(辛)製造業。以上有幾項屬於服務業？ (A)兩項 (B)三項 (C)四項 (D)五項。
45. 小都最近買了一臺美國 IBM 的筆記型電腦，因故障而自己拆開來修理，卻發現其中晶片是臺灣製造，外殼是中國生產，而程式是美國所寫。此種現象最適合用下列哪項因素來解釋？ (A)國際貿易 (B)工業區位 (C)國際分工 (D)規格化生產。
46. 下列關於輕工業與重工業的比較，何者正確？

	(A)	(B)	(C)	(D)
	產品重量	主要區位	工廠規模	實例
輕工業	較輕	資金	大	石化工業
重工業	較重	勞力	小	紡織工業

47. 在臺灣工業的發展歷程中，開始轉變為以高科技工業為發展重心為哪個時期？ (A)民國五十年代 (B)民國六十年代 (C)民國七十年代 (D)民國八十年代。
48. 承上題，台灣當時轉變為以高科技工業為發展重心的主要原因為何？ (A)台灣工資上漲以及環保意識高漲 (B)配合十大建設 (C)台灣加入世界貿易組織(WTO)後的因應對策 (D)台灣勞工工資低廉。
49. 若想對臺灣重工業的發展過程進行調查，應從臺灣哪一地區著手？ (A)北部地區 (B)中部地區 (C)東部地區 (D)南部地區。
50. 附表是臺灣與三個主要貿易國家的貿易情形。根據表中資料，下列敘述何者錯誤？ (A)臺灣對甲、丙的貿易呈出超 (B)臺灣與乙國的貿易呈入超 (C)臺灣與乙國的貿易情況，易於累積大量外匯 (D)臺灣與丙國的貿易總額最大。

貿易額	出口總值 (億美元)	進口總值 (億美元)
甲	267.6	181.0
乙	119.8	272.8
丙	408.0	96.9