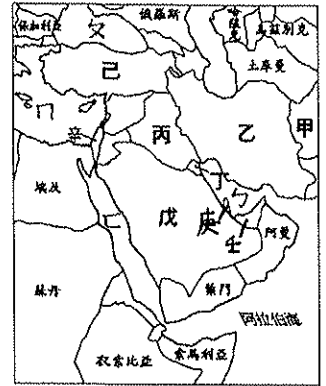


一、題組 (每格 2 分, 共 28 分)

年 班 座號: 姓名:

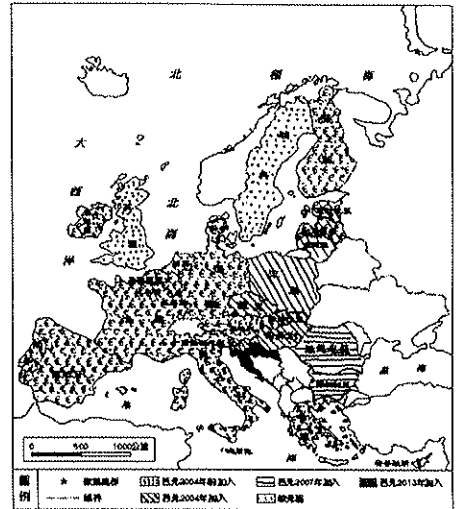
\*附圖為西亞各國分布圖。圖中甲~辛代表國家, ㄅ~ㄿ代表海域。請問:

1. 屬於古老地塊、起伏較平緩的高原區在圖中何處?(A)甲(B)乙(C)丙(D)戊
2. 昔有波斯文明, 並且以山牧季移、坎井水源維生的地區在圖中何處?(A)甲(B)乙(C)丙(D)戊
3. 承上題, 在下列哪個地區也可見到類似的灌溉水利設施?(A)中國新疆(B)日本北海道(C)印度恆河流域(D)菲律賓北部
4. 為適應西亞地區的乾燥氣候, 圖中哪個國家研發出滴灌農業技術?(A)乙(B)丙(C)戊(D)辛
5. 中東石油小國「卡達」, 在石油經濟的開發下, 成為全球每人平均GDP前十名的富國。請問: 卡達位於圖中何處?(A)丁(B)庚(C)辛(D)壬
6. 近年發展觀光業不遺餘力的杜拜, 投資觀光業、商業、貿易等產業後, 漸漸成為西亞地區工商業貿易中心。請問: 杜拜位於圖中何處?(A)丁(B)庚(C)辛(D)壬
7. 杜拜從一個沒沒無名的小城鎮躍升為國際知名的度假勝地, 每年吸引超過五百萬人次以上的遊客。杜拜的經濟成長與下列哪項因素最為相關?(A)國際貿易(B)高科技產業(C)盛產石油(D)鋼鐵工業
8. 西亞地區的武裝反抗軍隊多藏匿於境內山勢崎嶇難行的地區, 戰略地位相當優越, 為傳統上易守難攻的地點。請問: 根據此條件判斷, 附圖中何處位置最為適合?(A)甲(B)丙(C)戊(D)辛



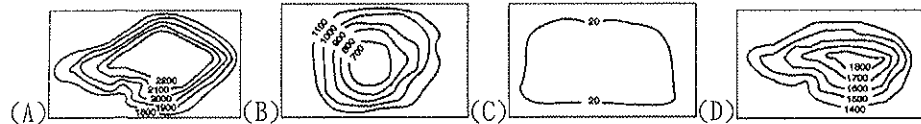
\*請依據歐洲聯盟會員國分布圖, 回答下列問題。

9. 歐盟最早的會員國, 大多分佈於哪個區域?(A)西歐、南歐(B)東歐、歐俄(C)北歐、東歐(D)南歐、東歐
10. 現今國際經濟界媒體對歐盟較弱的經濟體貶稱為「歐豬五國」(英語: PIIGS), 是指葡萄牙(Portugal)、義大利(Italy)、愛爾蘭(Ireland)、希臘(Greece)、西班牙(Spain)。請問: 這些國家大多位於哪個區域?(A)北歐(B)東歐(C)西歐(D)南歐
11. 歐元是歐盟會員國的共同貨幣, 但下列哪個國家不使用歐元?(A)英國(B)法國(C)荷蘭(D)西班牙
12. 某國地跨歐、亞兩洲, 有少部分領土在歐洲, 申請加入歐盟至今未成為正式會員國。請問: 某國是哪個國家?(A)俄羅斯(B)土耳其(C)烏克蘭(D)匈牙利
13. 西元2004年以後加入歐盟的會員國, 在經濟發展上具有什麼優勢?(A)技術先進(B)交通便利(C)勞力廉價(D)資金充足
14. 歐盟組織的國家眾多, 下列有關該組織的敘述何者正確?(A)歐盟內人員和貨物通行無阻 (B)歐盟使用英文為單一官方語言(C)基督教及伊斯蘭教國家各半(D)歐盟全體會員國皆使用歐元為單一貨幣



二、單題 (每格 2 分, 共 72 分)

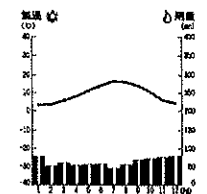
15. 下列哪幅等高線地形圖最能代表西亞地區的主要地形?



『圖1』



『圖2』




16. 承上題, 哪張等高線圖可代表中亞的地形主體?
17. 民居的類型常反映出當地的自然環境特色, 『圖1』為西亞地區常見的建築物, 其特點是牆很厚、門窗很小。請問: 西亞地區出現此種建築景觀的主因為何?(A)防止盜匪入侵(B)隔絕日照與阻止風沙侵襲(C)預防雨水滲透(D)避免地震震垮
18. 西亞地區的氣候乾燥, 為熱帶沙漠氣候。請問: 其沙漠的成因與下列哪個沙漠相同?(A)印度塔爾沙漠(B)中亞沙漠(C)中國塔克拉瑪干沙漠(D)中國內蒙古沙漠
19. 去年暑假小苗到歐洲某地區旅行, 發現當地的氣溫雨量圖如『圖2』所示。請問: 他旅行的地區可能為下列何者?(A)義大利羅馬(B)西班牙馬德里(C)英國倫敦(D)波蘭華沙
20. 西亞氣候乾燥, 當地民族早在西元前 6000 年就開始運用水車灌溉技術, 為當地帶來豐富農業和密集人口, 並讓當地成為蘇美、巴比倫等古文明的發源地。上述地區是指下列何地?(A)美索不達米亞平原(B)安納托利亞高原(C)阿拉伯高原(D)伊朗高原
21. 新聞報導:「……石油價格將在明日清晨調漲。」大仁上網查詢有關「石油價格」的國際組織資料。請問: 他該輸入下列哪個國際組織的簡稱?(A)EU (B)OPEC (C)APEC (D)WTO
22. 臺灣的農業考察團若前往西亞地區考察, 無法觀察到下列何種農業型態?(A)灌溉農業(B)綠洲農業(C)地中海型農業(D)熱帶栽培業
23. 自西元 2002 年以來, 前往澳洲旅遊的中東遊客大幅增加, 當地的旅遊業者很快意識到他們的需求, 除了在飯店及公寓標示箭頭, 指向阿拉伯半島上的麥加, 也在很多遊樂園中興建禮拜的場所, 以利伊斯蘭教教徒朝向聖城膜拜。根據二地的相對位置判斷, 這些箭頭的方向應該指向何處?(A)東北方(B)東南方(C)西北方(D)西南方
24. 美國總統歐巴馬曾公開談及西亞某國的邊界問題, 呼籲該國應分階段將軍隊從約旦河西岸撤離, 並與巴勒斯坦建立持久性的和平。請問: 美國總統是針對下列哪個國家發表公開談話?(A)以色列(B)伊拉克(C)土耳其(D)敘利亞
25. 西元 1990 年 8 月, 伊拉克突然發動攻勢, 一舉侵占了科威特, 導致聯合國部隊和伊拉克之間發生戰爭。請問: 伊拉克入侵科威特的主要原因為何?(A)民族不同(B)宗教歧異(C)爭奪水資源主權(D)搶奪石油礦產
26. 某美式速食業者到沙烏地阿拉伯開設分店, 其店內最不可能販售下列何種商品?(A)哈拉雞腿堡(B)豬肉滿福堡(C)香香魚肉堡(D)雙層牛肉堡

27. 西亞地區和北非的埃及合稱為中東，當地戰事不斷，素有「火藥庫」的稱號。下列關於該地區的紛爭原因，何者正確？(A)民族不同：日耳曼人與阿拉伯人的紛爭(B)宗教不同：猶太教徒與天主教徒紛爭(C)石油礦藏：主要分布於波斯灣沿岸(D)戰略地位：位美、亞、非三洲接觸地帶
28. 美國國防部日前表示，為防止伊朗在中東各海域發動部署地雷，以保護西亞航運自由，而在西亞周圍海域進行演習。亞當奉派到西亞與非洲間的海域進行演習，他所進行的演習的代稱可能為何？

- (A) 機密文件 波斯灣掃雷  
(B) 機密文件 黑海軍演  
(C) 機密文件 紅海行動  
(D) 機密文件 阿拉伯海反恐



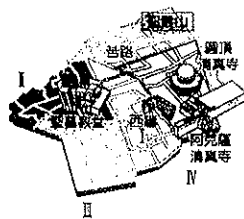
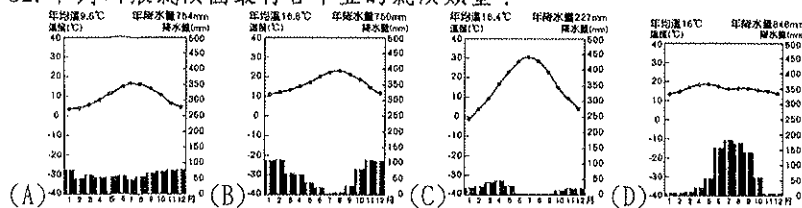
『圖3』



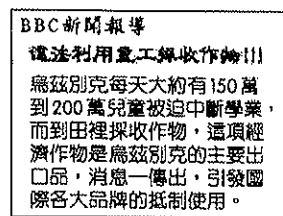
『圖4』

29. 『圖3』漫畫是描述西亞地區兩個民族自古以來的糾紛。請問：造成兩個民族紛爭的原因不包括下列何者？(A)宗教(B)水源(C)領土(D)石油
30. 雨軒用了半年的時間前往西亞地區旅行，並在網誌發表旅遊心得如『圖4』，由圖中資訊可以得知他前往的國家為何？(A)沙烏地阿拉伯(B)伊朗(C)伊拉克(D)土耳其
31. 西亞地區受到自然條件影響，對於水資源的利用相當節省，但除少數國家外，過去幾十年來本區水資源短缺問題日益嚴重。下列哪一因素最可能是造成此狀況的最主要原因？(A)溫室效應影響(B)椰棗價格飆漲(C)發展工商旅遊(D)戰亂破壞水源

32. 下列哪張氣候圖最符合中亞的氣候類型？



『圖5』



『圖6』

33. 某宗教聖地的示意圖如『圖5』所示，不同族群對聖地的爭奪，是造成地區衝突的主要原因之一。請問：該聖地最可能為下列何者？(A)麥加(B)耶路撒冷(C)伊斯坦堡(D)巴格達
34. 『圖6』為BBC新聞報導，報導中烏茲別克違法利用童工採收的經濟作物為何？(A)咖啡(B)甘蔗(C)棉花(D)小麥
35. 中亞有全世界面積最大的鹹水湖，近年來，因石油開採而備受關注。請問：是哪座鹹水湖？(A)鹹海(B)黑海(C)死海(D)裏海
36. 中亞的河流大多源自高山融化的雪水，屬於內流河。中國哪條河川與中亞河川性質最相似？(A)塔里木河(B)雅魯藏布江(C)長江(D)黃河
37. 中亞土地鹽鹼化面積增加，荒漠化現象嚴重，此問題和該地區的哪一項活動關係最大？(A)捕撈漁業(B)開採石油(C)發展農業(D)栽種咖啡
38. David到歐洲登山，爬上山頂後，發現自己正位於洲際間的交會區，一側為歐洲，另外一邊則為亞洲。請問：此時所攀登的高山應該為下列何者？(A)阿爾卑斯山(B)高加索山(C)基阿連山脈(D)本寧山
39. 歐洲的地形以平原為主，面積廣大的歐洲大平原主要分布於下列哪兩個區域內？(A)北歐、西歐(B)西歐、南歐(C)西歐、東歐(D)南歐、東歐
40. 阿爾卑斯山脈是歐洲最高大的山脈，山間有許多谷地，為南北間的「天然孔道」。請問：這些「天然孔道」是指什麼？(A)河蝕作用的V型谷(B)斷層作用的裂谷(C)溶蝕作用的岩溝(D)冰蝕作用形成的U型谷
41. 西歐屬於溫帶海洋性氣候，東歐屬於溫帶大陸性氣候，差別在於雨量多寡與溫差大小。根據上述，溫帶大陸性氣候的形成與何者關係最密切？(A)距海遠近(B)地形(C)緯度(D)洋流
42. 下列歐洲哪個半島有冰蝕形成的峽灣地形，利於航運與漁業的發展？(A)巴爾幹半島(B)斯堪地那維亞半島(C)伊比利半島(D)義大利半島
43. 歐洲的氣溫較其他同緯度地區溫暖溼潤。請問：這和下列哪些因素的影響有關？(甲)面積廣大(乙)火山活動(丙)西風吹拂(丁)暖流調節(A)甲乙(B)丙丁(C)甲丁(D)乙丙
44. 南歐大部分地區，屬溫帶地中海型氣候，影響此特殊氣候型態的主要原因有哪些？(甲)夏季為副熱帶高氣壓盤據(乙)夏季位於西風的背風側(丙)冬季有北大西洋暖流經過(丁)冬季進入西風帶(A)甲乙(B)甲丁(C)乙丙(D)丙丁
45. 由於政治體制與經濟發展的差異，目前東、西歐國家之間有著明顯的差距。關於東、西歐現況的描述，下列何者正確？(A)東歐國家工業發展程度較佳(B)西歐國家剛脫離共產制度，朝市場經濟轉型(C)西歐國家加入歐盟的時間較早(D)東歐國民的年平均所得比較高
46. 歐洲是全世界經濟最發達的一洲，其中又以哪兩個區域的發展程度最為快速、先進？(A)南歐、西歐(B)西歐、北歐(C)東歐、北歐(D)南歐、東歐
47. 人口問題呈現出一地區的社會經濟狀況。請問：目前歐洲所出現的人口問題最主要為下列何者？(A)人口過多(B)人口素質不佳(C)人口成長停滯(D)人口出生率高
48. 歐洲是世界人口分布最平均的一洲，這種現象與下列哪項因素關係最密切？(A)地形和氣候(B)位置和資源(C)氣候和經濟發展(D)地形和農業發展
49. 二次大戰後，世界各地紛紛成立經濟合作組織，其中歐洲聯盟是最早發展的區域性經濟組織，整合性也最高，下列何者是歐盟成立的目的？(A)圍堵共產勢力擴張(B)整合歐洲交通運輸系統(C)減少與非歐洲地區的貿易(D)增強產品的國際競爭力
50. 歐盟成立後，對臺灣的出口貿易產生負面的影響，臺灣廠商應以下列何種方式因應較為妥當？(A)建議政府申請加入歐盟 (B)建議聯合國對歐盟經濟制裁 (C)放棄亞洲市場，投資歐洲大廠 (D)直接到歐盟區域設廠生產