

宜蘭縣立羅東國中 103 學年度第一學期八年級地理科第一次段考試卷

選擇題：每題 2 分，請用 2B 鉛筆作答

班級： 座號： 姓名

1. 中國的面積相當廣大，氣候的分布相當多樣化。請問：中國以哪一種氣候類型的分布範圍最為廣闊？
(A) 熱帶 (B) 副熱帶 (C) 溫帶 (D) 寒帶。
2. 下列中國的氣候特徵中，哪些深受季風影響？(甲) 冬季南北溫差大 (乙) 降雨集中夏季 (丙) 青藏高原終年低溫 (丁) 雨量由東南向西北遞減 (A) 甲乙 (B) 甲丁 (C) 乙丙 (D) 乙丁。
3. 中國的降雨分布各地不同，大致由東南向西北遞減。其主要的影響因素中，不包括下列何者？(A) 東西距離寬廣 (B) 山脈阻擋水氣 (C) 西側地形平坦 (D) 西側距海較遠。
4. 冬季時中國境內的東部地區氣溫分布各地不同，請問主因為何？(A) 地形 (B) 緯度 (C) 洋流 (D) 經度。
5. 秦嶺、淮河為中國自然環境的重要分界線。附表為秦嶺、淮河河南、北兩地之間的自然環境比較，其中何者正確？

	(A) 地形	(B) 氣溫	(C) 雨量	(D) 水文
秦嶺以北	平原、盆地 地形為主	最冷月均溫 > 0°C	年雨量大於 750 毫米	河水冬季易 結冰
秦嶺以南	平原、丘陵 地形為主	最冷月均溫 < 0°C	年雨量少於 750 毫米	河水終年不 結冰

6. 影響中國氣候變化的因素很多，請問：在下列何種大氣狀況下，中國容易出現乾燥少雨的現象？(甲) 陸地高氣壓 (乙) 海洋高氣壓 (丙) 陸地低氣壓 (丁) 海洋低氣壓
(A) 甲乙 (B) 丙丁 (C) 甲丁 (D) 乙丙。
7. 中國氣溫受各種因素影響而不同，下列敘述何者錯誤？

選項	(A)	(B)	(C)	(D)
影響區域	夏季山地 涼爽	夏季普遍 高溫	冬季山區 寒冷	冬季 南暖北寒
影響因素	地形	太陽直射	季風風向	緯度

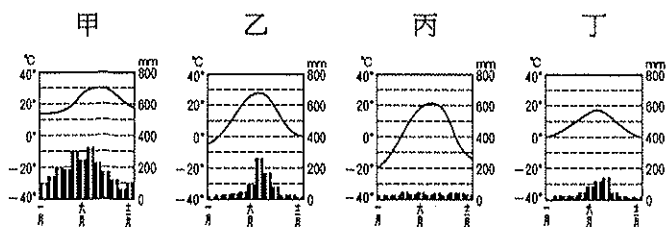
8. 季風是隨季節交替而方向相反的風。請問：季風形成的主要原因為何？(A) 洋流影響 (B) 緯度高低 (C) 地勢起伏 (D) 海陸性質差異。

※附表是中國境內四個假想城市的氣候資料。請問 9~13 題：

9. 依表中資料，哪個城市緯度最高？(A) 甲 (B) 乙 (C) 丙 (D) 丁。
10. 哪個城市最可能位於秦嶺以北的季風氣候區中？
(A) 甲 (B) 乙 (C) 丙 (D) 丁。
11. 哪個城市型，最可能是乾燥氣候？(A) 甲 (B) 乙 (C) 丙 (D) 丁。
12. 丙地是哪種氣候類型？(A) 熱帶季風氣候 (B) 副熱帶季風氣候 (C) 溫帶季風氣候 (D) 溫帶沙漠氣候。
13. 哪一個地區，最有利於小麥的生長？(A) 甲 (B) 乙 (C) 丙 (D) 丁。

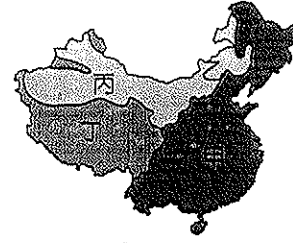
項目	一月均溫 (°C)	七月均溫 (°C)	年降水量 (mm)
城市			
甲	-18	22	518
乙	-15	29	20
丙	19	30	1,689
丁	4	28	1,110

※以下有四張中國氣候圖，請問 14~18 題：



14. 哪種氣候區最適合農業的發展？(A) 甲 (B) 乙 (C) 丙 (D) 丁。
15. 哪一張氣候圖所在個區域內的湖泊主要為鹹水湖？
(A) 甲 (B) 乙 (C) 丙 (D) 丁。
16. 哪一張氣候圖地區的緯度最高？(A) 甲 (B) 乙 (C) 丙 (D) 丁。
17. 哪一張氣候圖地區的地勢最高？(A) 甲 (B) 乙 (C) 丙 (D) 丁。
18. 哪一種氣候區的環境負載力最高？(A) 甲 (B) 乙 (C) 丙 (D) 丁。

19. 附圖為中國氣候分布圖，「居民以肉、乳為主食，為適應嚴寒的氣候，飼養犛牛，以其為主要的馱獸。」描述的是附圖中哪一地區的生活方式？(A) 甲 (B) 乙 (C) 丙 (D) 丁。



20. 承上題，哪區的降雨量最大，居民以農業維生？
(A) 甲 (B) 乙 (C) 丙 (D) 三區皆以農業維生
21. 附表為內流河與外流河的比較。請問：下列何者正確？
(A) 甲 (B) 乙 (C) 丙 (D) 丁。

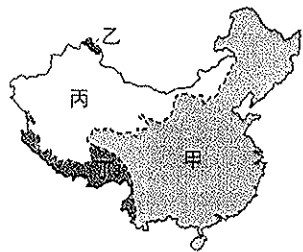
特色	(甲) 氣候	(乙) 水源	(丙) 水文特性	(丁) 代表河川
內流河	溼潤	雨水	水多、河長，末端注入海洋	塔里木河
外流河	乾燥	雪水	河短、水量不穩，末端消失沙漠中	長江

22. 氣候影響人類的日常生活，也反映在建築特色上：(甲) 干欄式建築 (乙) 四合院坐北朝南的設計 (丙) 騎樓設計 (丁) 蒙古包。以上建築中，哪些型式與一地「溼熱多雨」的氣候特色較為相關？(A) 甲、乙 (B) 甲、丙 (C) 丙、丁 (D) 乙、丁。
23. 「由此向西行，大地由綠轉黃，牛羊取代了小麥田地，成為當地居民重要的財富……」從短文中可得知變化如何？
(A) 越向西氣溫越低 (B) 越向西距海越遠 (C) 越向西緯度越高 (D) 越向西高度越高。
24. 王教授到中國作水文的相關研究，他發現某條河流受四周高山攔截水氣的影響，緩慢的匯合後，向北流入北極海中，成為該區主要的外流河。請問：這條河川最可能為下列何者？
(A) 長江 (B) 黃河 (C) 塔里木河 (D) 額爾濟斯河。
25. 明清時期，中國東南沿海許多居民藉由海上絲路向東南亞移民，他們若要一路順風，最好利用哪一個季節及何種季風風向前往東南亞？(A) 夏季，↗ (B) 夏季，↘ (C) 冬季，↘ (D) 冬季，↗。
26. 中國西北部面積廣大，多高山、高原地形，氣候乾燥，居民大多選擇居住在下列何處？(A) 山麓、山地 (B) 丘陵、平原 (C) 河谷、綠洲 (D) 綠洲、沙漠。
27. 一般而言，沿海地區受海洋調節，氣候上有哪些特徵？
(甲) 年溫差大 (乙) 年溫差小 (丙) 降雨量多 (丁) 降雨量少
(A) 甲乙 (B) 甲丙 (C) 甲丁 (D) 乙丙。
28. 中國東半部的山脈大多呈現哪種走向，因而容易阻擋夏季季風所帶來的水氣？
(A) (B) (C) (D)

29. 麥當勞選擇在大陸多處設分店，這是因為中國具有哪項優勢？(A) 勞力充沛廉價 (B) 消費市場廣大 (C) 織布科技先進 (D) 激發革新靈感。
30. 近 20 年來中國嬰幼兒的男女性別比嚴重失衡，形成主因為何？(甲) 工商業發達 (乙) 重男輕女觀念 (丙) 一胎化政策 (丁) 人口外移 (A) 甲乙 (B) 乙丙 (C) 丙丁 (D) 甲丁。
31. 影響雲貴高原和橫斷山脈一帶族系多元，且多保有傳統生活方式的主因為何？(A) 氣候 (B) 地形 (C) 政策 (D) 水文。
背後尚有試題，請翻頁作答！

- 32.「中國總人口數已達13億多，是世界人口總數最多的國家。然而預計再經過三十年後，總人口數將被印度超過，成為第二位。」這和下列哪一因素關係最大？(A)出生率下降 (B)死亡率提高 (C)移出率增加 (D)移入率減少。

33.附圖為中國四大水系分區圖。丁區主要水氣來源為何？



- (A)太平洋 (B)印度洋 (C)北極海 (D)高山雪水。

34.中國的人口主要集中於東半部；臺灣的人口主要集中於西半部，此兩地區人口集中分布的共同特徵為何？(A)地形平坦 (B)氣候乾燥 (C)水源充足 (D)年溫差小。

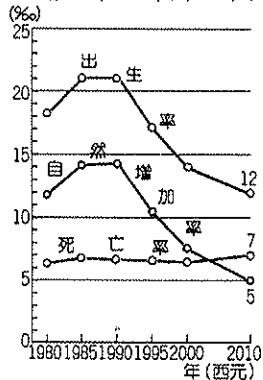
35.中國的城鄉人口比例變化，主要受到下列哪一個因素影響，因此成為該國境內重要的社會問題？(A)水力灌溉 (B)教育資源 (C)經濟發展 (D)氣候變遷。

36.中國的人口總數為世界第一，因此人口問題的因應對中國的發展特別重要。目前中國所亟待解決的人口問題中不包括下列何者？(A)人口分布不均 (B)人口外移嚴重 (C)老年人口漸多 (D)幼年人口男女比例不均。

37.新疆盆地及青藏高原同位於中國西部地區，然而氣候類型卻不盡相同。請問：附表中的敘述，何者最為正確？

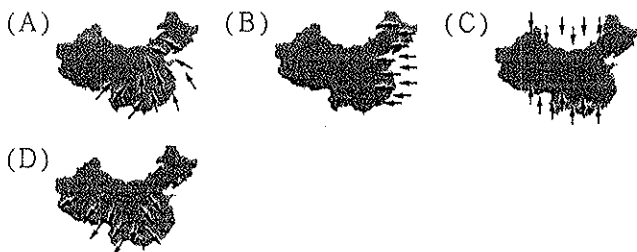
選項	(A)	(B)	(C)	(D)
青藏高原	日溫差大	日溫差大	年溫差小	年溫差大
新疆盆地	日溫差小	日溫差大	年溫差小	年溫差大

38.中國人口數量對該國近年來經濟發展影響甚大，附圖為其出生率、死亡率、自然增加率統計圖，下列敘述何者正確？



- (A)一胎化影響，死亡率快速下降 (B)政策影響，人口總數逐漸縮減 (C)計畫生育，影響幼年人口比例降低 (D)人口大增，導致死亡率上升。

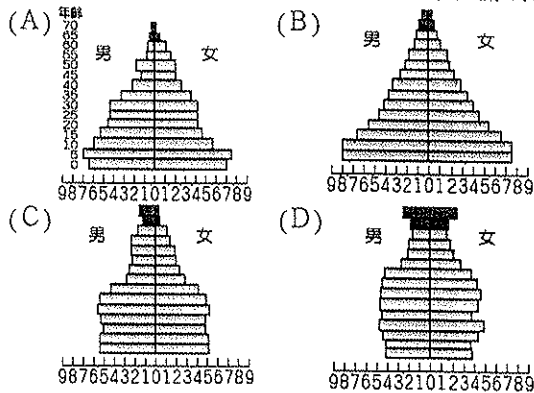
39.中國最主要的降雨季節受某盛行風的影響。下列哪一張圖最符合此盛行風的風向？



※中國目前的人口數約為全世界人口的1/5，因此各項人口的相關問題便成了亟待解決的課題。請問40~41題：

40.中國目前透過各種方法以降低其人口的成長，但效果不盡理想。這和下列哪一項因素的關係最大？(A)政府效能不彰 (B)鄉村文盲過多 (C)人口總數過多 (D)傳統觀念難改。

41.中國在實施一胎化之前的人口金字塔結構最接近下列何者，因此採取較為激烈的政策手段，進行相關調整？



※附圖為中國某次人口研討會中所展示的地圖。請問42~46題：



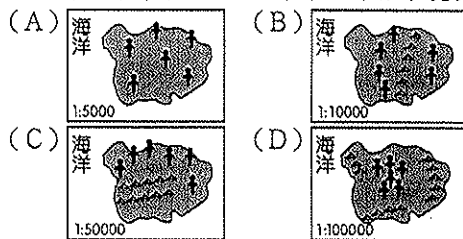
42.中國人口稠密與稀疏區，大致以下列何者為分界？(A)長城 (B)長江 (C)秦嶺—淮河 (D)黑河—騰衝。

43.請問：該次會議的主題最可能為下列何者？(A)人口數量所產生的環境問題 (B)中國人口結構與產業發展 (C)人口分布的對應政策 (D)政策對於人口成長的影響。

44.中國境內的少數民族眾多，下列何者分布於附圖中虛線以東的地區？(A)壯族 (B)維吾爾族 (C)藏族 (D)蒙古族。

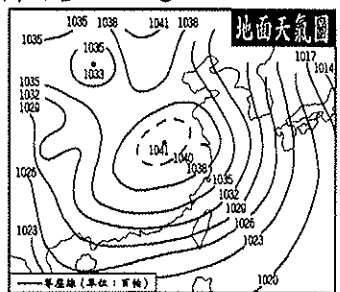
45.就中國人口分布的狀況而言，其影響因素不包括下列何者？(A)產業 (B)地形 (C)氣候 (D)面積。

46.由附圖中分布狀況加以判斷，何者環境負載力最高？



47.中國政府在2004年逐漸開放計畫生育的政策限制，甚至在都市地區還鼓勵生育。中國政府政策大轉變的主要原因為何？(A)死亡率漸高 (B)教育程度不佳 (C)勞動力漸少 (D)消費市場萎縮。

※中國的氣候類型，隨著季節變化而有不同的特色。請根據附圖的地面天氣圖回答48~50題：



48.附圖為中國哪一個季節的地面天氣圖？

- (A)春季 (B)夏季 (C)秋季 (D)冬季。

49.承第47題，王先生為中國的氣象觀測員，他發現這時候中國境內的氣候特徵為何？(A)南北溫差小 (B)氣流上升 (C)溫度上升 (D)氣壓增高。

50.承第47題，此時中國最可能出現的氣候災害為何？(A)豪雨成災 (B)颱風侵襲 (C)寒流來襲 (D)乾旱炎熱。