




壹、單選題 (每題 2 分)

1. 臺灣常見的河流地形包括：(甲)沖積扇(乙)瀑布(丙)三角洲。若由河流的上游順流而下到河口，沿途的河流地形依序應為下列何者？(A)甲乙丙 (B)丙甲乙 (C)乙丙甲 (D)乙甲丙。

2. 下表有關經緯線的敘述，哪一項目錯誤？

項目	緯線	經線
(A) 定義	與赤道平行的圓圈	皆交集於南北極點
(B) 方向	東西向	南北向
(C) 長度	向兩極縮短	等長
(D) 度數	南北緯各有 0~180 度	東西經各有 0~90 度

3. 哪一項的敘述是在說明「相對位置」的概念？(A)羅東國中在中華路 99 號(B)羅東火車站位在公正路與站前路的交會處(C)鳳凰颱風目前位置在臺灣東南方的海面上(D)佳佳坐在教室第 2 排第 5 列的座位。

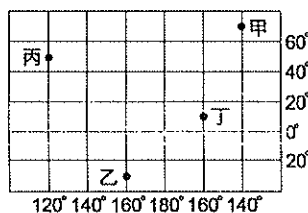
4. 地圖中若出現以「」代表墳地、以「」代表學校及以「」代表工場的符號，它們可視為地圖上的何種要素？(A)圖名(B)方向標(C)圖例(D)比例尺。

5. 一般而言，地圖上若是沒有方向標，通常地圖的上方即是何方？(A)北方(B)南方(C)西方(D)東方。

6. 隨著科技日新月異，近年來電子地圖有逐漸取代傳統紙本地圖的趨勢。請問下列何者不是電子地圖的特點？(A)地圖涵蓋範圍不變(B)更新顯示方便(C)能與全球衛星定位系統連結(D)可彈性的放大、縮小。

7. 下列哪一組城市間的航行，因經過國際換日線，日期需減一天？

- (A)甲→乙(B)甲→丁(C)乙→丁  
(D)丙→乙。



8. 下列是有關分層設色圖的敘述，(甲)分層設色圖是以等高線地形圖為底圖，不同的坡度以不同的顏色來區分(乙)宜蘭平原在地圖上主要是綠色(丙)地圖上顏色種類越多，表示地勢起伏大(丁)可以用來分析一地的土地利用。請問正確的有幾項？(A)一項(B)二項(C)三項(D)四項。

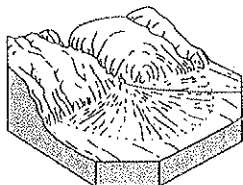
9. 地形作用力有來自地球內營力與外營力的共同作用之下而成，下列哪一例子，與其他三者的營力來源不同？(A)臺中市 921 地震教育園區(B)陽明山國家公園的大油坑(C)屏東縣恆春海邊的風吹沙(D)太魯閣國家公園的褶曲岩層。

10. 上地理課時，老師要同學說出臺灣的主要盆地，下列答案中，何者錯誤？(A)埔里盆地(B)八卦盆地(C)臺中盆地(D)臺北盆地。

11. 下列對於臺灣地形的敘述，何者正確？(A)五大地形中，平原面積最大(B)臺北盆地東南側是中央山脈(C)平原主要多在西部(D)中央山脈北起宜蘭頭城，南到屏東鵝鑾鼻。

12. 臺灣本島的火山群，主要分布在哪一個地區？(A)東部(B)西部(C)南部(D)北部。

13. 右圖是哪種地形景觀？(A)瀑布(B)三角洲(C)沖積扇(D)沙灘。



14. 臺灣的範圍除了本島外，還包括周圍許多島嶼。下列何者不是臺灣所管轄的島嶼？(A)綠島(B)馬祖列嶼(C)烏坵嶼(D)琉球群島。

15. 下表為比例尺 1:10000 地圖和 1:1000000 地圖的比較，若

圖幅大小相同，請問正確的有幾項？(A)一項(B)二項(C)三項(D)四項。

比例尺	(甲)種類	(丙)涵蓋範圍	(丁)內容	(戊)縮小程度
1:10000	大比例尺	大	簡單	較少
1:1000000	小比例尺	小	詳細	較多

貳、題組

\*右圖是臺灣的行政區圖，請根據此圖回答 16-18 題：



16. 圖中代號與縣市名稱的配對，何者正確？

- (A)甲：桃園縣 (B)丙：高雄市 (C)丁：南投縣 (D)己：臺東縣。

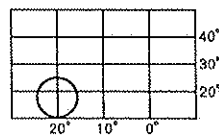
17. 下列哪一個行政區不屬於直轄市？(A)乙(B)丙(C)丁(D)戊。

18. 2014 年 12 月 25 日，桃園縣將升格為第六個直轄市，請問桃園縣位於圖中何處？

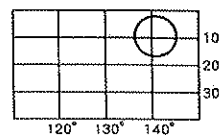
- (A)乙(B)丁(C)己(D)庚。

\*下圖為四個假想的國家位置圖，請根據此圖回答 19-20 題：

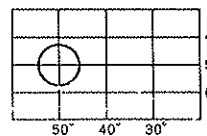
(甲)



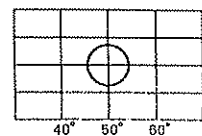
(乙)



(丙)



(丁)



19. 哪一國家位置與臺灣位在相同的半球？(A)甲 (B)乙 (C)丙 (D)丁。

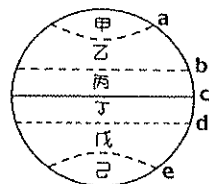
20. 哪一國家會最早看到一天當中的日出？(A)甲 (B)乙 (C)丙 (D)丁。

\*右圖為全球氣候區圖，請根據此圖回答 21-25 題：

21. 地表畫分熱帶與溫帶，主要是依據圖中那幾條緯線？(A) a、b (B) b、c (C) d、e (D) b、d。

22. 圖中那兩個地區是太陽直射的範圍屬於熱帶氣候區？(A)丙、丁(B)乙、戊 (C)甲、己 (D)乙、丙。

23. 甲區氣候嚴寒，造成該現象最主要的原因為何？(A)緯度高，太陽斜射 (B)緯度高，太陽直射 (C)緯度低，太陽斜射 (D)緯度低，太陽直射。

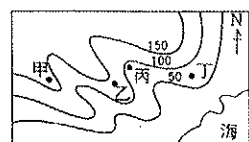


24. 哪一條經緯線恰好經過臺灣本島，成為地理環境上的主要界線？(A) a(B) b(C) c(D) d。

25. 北半球冬至時，太陽斜射地表最北的地方，稱為北極圈，請問：北極圈是指北緯幾度以及位於圖中何處？(A) a 緯線 66.5° (B) b 緯線 23.5° (C) c 緯線 0° (D) e 緯線 90°。

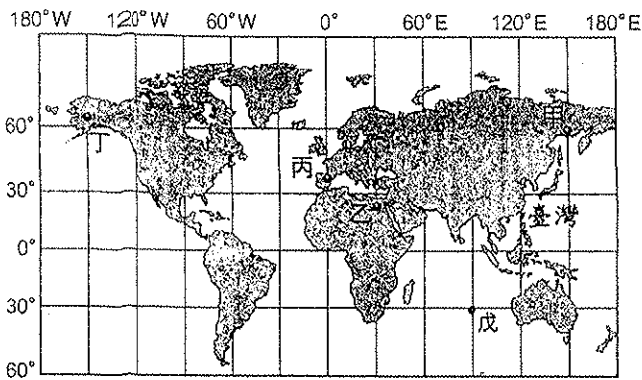
\*右圖是某地的等高線地形圖，請根據此圖回答 26-27 題：

26. 颱風季節時，山區暴雨常導致河川下游溪水暴漲，河岸地區的居民因此遭受到生命財產的威脅。判斷圖中哪一地點最可能遭遇上述災害？(A)甲(B)乙(C)丙(D)丁。



27. 若想立即得知溪水暴漲「前後」的地貌變化狀況，應該用下圖最適宜？(A)地形剖面圖(B)立體地形圖(C)衛星影像圖(D)等高線地形圖。

\*下圖世界經緯線簡圖，請根據此圖回答 28-30 題：



28. 下列有關於丙地所處經線的敘述，何者錯誤(A)又稱為本初子午線(B)通過格林威治天文臺(C)平分南北半球的經線(D)與臺灣時差 8 個小時。

29. 澳洲雪梨時間比臺灣快了 2 小時，由此判斷澳洲雪梨與圖中哪一個地區屬於同一個時區？(A)甲(B)乙(C)丙(D)戊。

30. 從圖中經度資料所示，若臺灣時間為 10 月 17 日上午 10 點，同時，丁地的時間應為下列何者？(A)10 月 16 日清晨 4 點(B)10 月 16 日下午 4 點(C)10 月 17 日下午 4 點(D)10 月 17 日午夜 20 點。

\*香港文匯報報導：「越南於 2011 年 6 月 13 日在其宣稱擁有主權的『經濟海域區』的漢翁島附近海域（如圖所示）舉行實彈演習，主因是中國海監船干擾越方油氣勘探活動，侵犯越方「主權」。此軍演也引發中國的不滿，中國認為越南侵犯其海域，中越兩國之間的緊張將進一步加劇。」請根據此文回答 31-34 題：

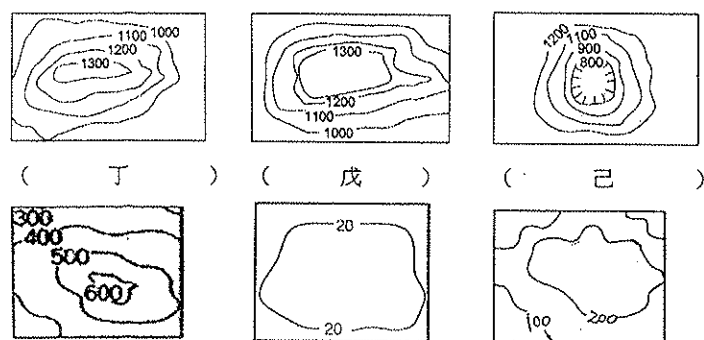
31. 越南軍演的位置在臺灣的哪一方位(A)東北方(B)西南方(C)東南方(D)西北方。

32. 越南軍演的位置所屬的海域應為下列何者？(A)東海(B)臺灣海峽(C)南海(D)巴士海峽。

33. 承上題，此海域中有一某島隸屬高雄市所管轄，島嶼面積小，距離臺灣本島相當遠，是臺灣的範圍最南端，某島是下列何者？(A)綠島(B)蘭嶼(C)太平島(D)東沙島。

34. 文中界定的『經濟海域』範圍為多少浬(A) 12 浬(B) 20 浬(C) 120 浬(D) 200 浬。

\*下圖為五種地形等高線地形圖。請根據此圖回答 35-38 題：



35. 哪些地形是最適宜人們居住、工作的自然環境，因此成臺灣人口分布的集中區？(A)甲戊(B)乙丙(C)丙戊(D)乙戊。

36. 哪一種地形是臺灣沒有機會看到的？(A)甲(B)乙(C)丙(D)丁。

37. 哪一種地形附近的居民最可能在當地開闢茶園、果園？(A)甲(B)丙(C)丁(D)戊。

38. 臺灣哪一種地形原為沖積扇，後來受板塊擠壓地層抬升而隆起？(A)乙(B)丁(C)戊(D)己。

\*右圖為臺灣山脈分布簡圖，請根據此圖回答 39-46 題：

39. 臺灣五大山脈走向均呈南北走向，主要原因為何？(A)因河川侵蝕所造成(B)因板塊擠壓方向的關係(C)因臺灣位於歐亞大陸，所以走向與大陸沿海山脈相同(D)火山噴發的位置。

40. 臺灣河川的分水嶺是哪一座山脈？(A)甲(B)乙(C)丙(D)丁(E)戊。

41. 臺灣第一高峰玉山是哪一座山脈？(A)甲(B)乙(C)丙(D)丁(E)戊。

42. 哪一座山脈屬於「菲律賓海板塊」？(A)甲(B)乙(C)丙(D)丁(E)戊。

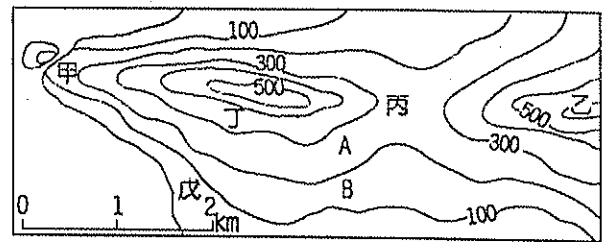
43. 位於臺灣最西邊，且可以搭乘森林小火車、看日出、雲海是哪一座山脈？(A)甲(B)乙(C)丙(D)丁(E)戊。

44. 蘇花公路常因大雨坍崩而中斷，為了讓居民們有條安全回家的路，政府在 2010 年底通過蘇花公路山區路段改善計劃（蘇花改）決議。請問：這項工程預計會切穿哪一座山脈？(A)甲(B)乙(C)丙(D)丁(E)戊。

45. 沿著花東縱谷平原南下到臺東，如果向左看是哪一座山脈？(A)甲(B)乙(C)丙(D)丁(E)戊。

46. 宜蘭平原介於哪兩座山脈之間？(A)甲乙(B)丙戊(C)丙丁 (D)乙丙。

\*下圖為某地的等高線地形圖，請根據此圖回答 47-50 題：



47. 下列有關等高線地形圖的敘述，何者正確？(A)在地圖上將地表坡度相同的各點，連成一條條的閉合曲線，稱為等高線(B)等高線地形圖可以顯示地表地貌的概況與土地利用情形(C)在等高線地形圖上，等高線之間的疏密程度是依據地面坡度而有所不同(D)在等高線地形圖上，等高線的水平間距愈密集，表示坡面愈平緩。

48. 該圖的等高線間距是多少公尺？(A)50(B)100(C)150(D)200。

49. 請問：乙、丙兩地之間實際距離是多遠？(A)0.5 公里(B)1 公里(C)2 公里(D)4 公里。

50. 在圖中甲、乙、丙、丁、戊五點中，若高度由低而高的順序排列應是下列何者？(A)甲丙丁戊乙(B)丙甲丁戊乙(C)甲戊丁丙乙 (D)戊甲丙丁乙。

