

1. 亞洲為七大洲中面積最大的一洲，四周主要的地形區中，包含了(甲)印度半島(乙)南洋群島(丙)阿拉伯半島(丁)日本群島(戊)朝鮮半島。請問，哪些地區位於東北亞？
(A) 甲乙 (B) 乙丙 (C) 丙丁 (D) 丁戊
2. 日本第一高峰富士山，其高度雖比台灣第一高峰玉山來得低，但富士山頭卻終年積雪，造成此現象的主要原因為何？
(A) 生長季較長 (B) 雨量較少 (C) 緯度較高 (D) 開發程度較高

3. 附表為日本東、西兩岸的比較，何者錯誤？

項目	(A)	(B)	(C)	(D)
	瀕臨海洋	冬季降雨	夏季降雨	工業區
東岸	日本海	少	多	多
西岸	太平洋	多	少	少

4. (甲)山勢高大，成為中、印兩國間的天然屏障(乙)屏障東北寒風，使得冬季乾燥而涼爽(丙)孕育肥沃的黑棉土，促成紡織業的興起(丁)雨雪豐富，成為各大河川的發源地(戊)攔截西南季風水氣，使得西岸雨量多於東岸。在地理景觀的描寫中，那些是喜馬拉雅山脈對南亞地區所帶來的影響？
(A) 甲乙丁 (B) 甲乙戊 (C) 甲丙丁 (D) 甲丁戊
5. 下列四區域中，屬於熱帶季風氣候的有哪些區域？(甲)東印度群島(乙)菲律賓群島(丙)馬來半島(丁)中南半島
(A) 甲乙 (B) 甲丙 (C) 乙丁 (D) 丙丁
6. 朝鮮半島居民吃泡菜，東南亞居民築高架屋，其原因與下列哪一項條件的影響最相關？
(A) 地形 (B) 氣候 (C) 政策 (D) 宗教

7. 台灣與日本均為於東亞島弧上，兩地在環境上有其相似性，下列何項說明並非台灣及日本共同之特徵？
(A) 高山眾多 (B) 平原多集中在島嶼西側 (C) 地震頻繁 (D) 不適合內陸河運發展

8. 關於日本氣候的敘述，何者正確？
(A) 日本和同緯度的亞洲大陸相比較，冬季較冷，夏季較熱
(B) 冬季時，東部較西部常發生大雪
(C) 親潮為日本帶來溫暖、潮溼的氣候影響
(D) 大多屬於溫帶季風氣候。

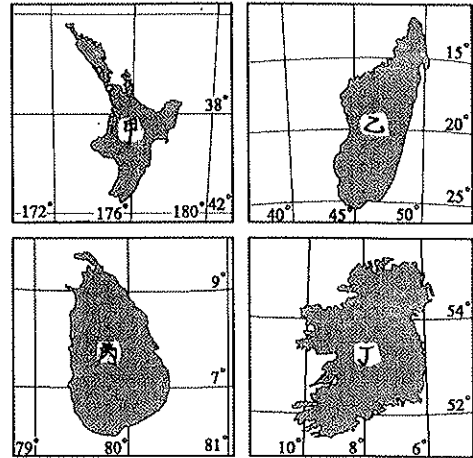
9. 日本一年一度的櫻花季，替日本帶來可觀的觀光商機。小杰打算和父母利用清明連假到日本賞櫻。根據右圖資料，小杰應前往何處賞櫻？
(A) 九州 (B) 四國 (C) 本州 (D) 北海道



10. 承上題，四大島何處最晚才能看到櫻花開放？
(A) 北海道 (B) 本州 (C) 四國 (D) 九州
11. 同樣位於朝鮮半島的南北韓，有著不同的地理環境及經濟表現，下列選項中，何者與緯度高低的關係最小？
(A) 南韓的生長季較長 (B) 北韓較缺乏糧食
(C) 南韓的氣溫較高 (D) 北韓的礦產較豐富
12. 今年三月失事的馬航班機，推測其墜機的地點為麻六甲海峽。【甲】國位於此海峽東側出口，控制【乙】【丙】兩大洋的交通往來，地位相當重要。請問甲、乙、丙分別為何國家及海洋？
(A) 泰國，太平洋，大西洋 (B) 菲律賓，印度洋，大西洋
(C) 新加坡，太平洋，印度洋 (D) 馬來西亞，太平洋，北極海

13. 下列那個國家，氣候條件和台灣類似，同屬季風氣候，且冬、夏兩季的風向亦與台灣相同，甚至夏季常有颱風？
(A) 菲律賓 (B) 南韓 (C) 日本 (D) 印尼
14. 受宗教影響，印度教徒前往東北亞旅遊時，最「不可能」食用的食物是：
(A) 神戶牛排 (B) 日式豬排

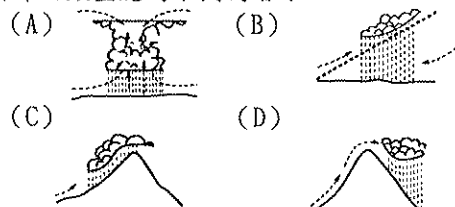
15. 斯里蘭卡位於熱帶氣候區內，而受到經度位置的影響，時間較臺灣晚3個小時。請根據上文資料判斷，下列哪一個島嶼最可能是斯里蘭卡？
(A) 甲 (B) 乙 (C) 丙 (D) 丁。



16. 南亞全境可分為三大地理區：(甲)喜馬拉雅山(乙)德干高原(丙)印度大平原。若由北向南排列，其正確順序為
(A) 甲乙丙 (B) 甲丙乙 (C) 乙甲丙 (D) 丙乙甲
17. 東南亞及南亞地區族群複雜文化多元，存在多種不同類型的宗教，下列區域與主要宗教的配對，何者錯誤？
(A) 印度-印度教 (B) 斯里蘭卡-伊斯蘭教
(C) 峇里島-印度教 (D) 巴基斯坦-伊斯蘭教
18. 日本國際貿易發達，在台灣市場中，可常見日本商品的流動，下列四位同學針對日本貿易發展的優勢提出自己的觀點，請問哪為同學的說法錯誤？
(A) 阿迪：日本具有豐沛的水力提供工業發展動力
(B) 小芳：海運便捷有利於貨物的進出口
(C) 小岑：進步的技術是日本工業發展的優勢
(D) 阿祐：日本勞工工資低廉，可降低生產成本
19. 小宏打算利用寒假跟家人到日本參觀世界文化遺產-合掌屋，建築屋簷多為傾斜設計，其目的為方便積雪滑落。請問：當地冬季凝結降雪的水氣源於哪個海域？
(A) 黃海 (B) 南海 (C) 太平洋 (D) 日本海。
20. 附表為南、北韓的農業環境比較，哪一項目正確？

項目	(A)	(B)	(C)	(D)
	生長季	年均溫	年雨量	耕地面積
北韓	短	高	多	大
南韓	長	低	少	小

21. 南亞的錫蘭紅茶、阿薩姆紅茶及大吉嶺紅茶皆為世界知名的茶品。請問，南亞茶葉生產區的地理環境為何？
(A) 恆河、印度河上游區域 (B) 背風坡的德干高原
(C) 乾燥的塔爾沙漠 (D) 南亞東部濕熱多雨的丘陵區
22. 「這個城市舊名漢城，位於漢江畔，昔日為朝鮮李氏王朝的首都，今日為南韓的首都，為朝鮮半島上最大的都市，也是全國交通經濟中心。」上文所描述的是下列哪一個城市？
(A) 平壤 (B) 釜山 (C) 首爾 (D) 東京。
23. 東南亞近赤道地區一年之中每天的天氣預報幾乎都是：「上午晴，下午雨，之後再晴。」請問：上述所稱的「雨」，其降雨類型應為下列何者？



24. 七八月暑假為旅遊旺季，此時的南亞地區，為何種氣候？
 (A) 涼季 (B) 熱季 (C) 雨季 (D) 冬季
25. 承上題，南亞涼季的形成原因與下列那一地區的氣候特徵的成因類似？(A) 台灣夏季西北雨 (B) 宜蘭冬雨 (C) 日本西岸冬季降雪 (D) 四川盆地冬季溫暖
26. 孟買為印度第一大港，人口眾多且工商業發達，自英國殖民時期起，即為物品的進出口港。關於這個印度大都市的敘述，何者「錯誤」？(A) 位於印度半島西側 (B) 高科技產業發達有「印度矽谷」的稱號 (C) 印度最大電影製片「寶萊塢」所在位置 (D) 接近棉花產地，棉紡業發達
27. 韓劇成功地將韓國文化推廣開來，從劇中可以發現韓國歷史、文化深受中、日兩國影響，造成此現象的原因為何？(A) 位置 (B) 地形 (C) 政治 (D) 經濟
28. 中國籌畫在湄公河上游興建多座水庫，若水庫完成後，將會對下游那一個地區的用水和生態環境造成影響？(A) 朝鮮半島 (B) 中南半島 (C) 阿拉伯半島 (D) 印度半島
29. 南亞西部有面積廣大的乾區域，境內更有塔爾沙漠。請問，造成此區域乾燥的主因為何？(A) 地勢低窪 (B) 緯度太高 (C) 副熱帶高壓籠罩 (D) 距海遙遠
30. 住在羅東的金小賢打算利用假期帶女友千小伊搭乘郵輪前往東京旅遊。請問：郵輪前進的方向應為下列何者？(A) 西北 (B) 西南 (C) 東北 (D) 東南
31. 日本人喜愛食用海鮮，日式料理中更是以生食海鮮為主，日本的魚獲量常占世界第一，造成日本漁業發達的原因與何者「無關」？(A) 寒暖流交會 (B) 海岸線平直 (C) 四面環海 (D) 捕撈技術佳

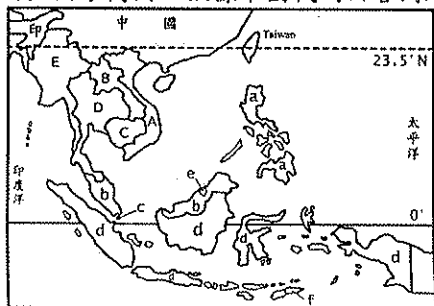
32. 日本311大地震後，位於本州東側的福島電廠受到損害，導致日本漁產有受到核污染的疑慮。為此，北海道的漁產公會提到：「民眾可以安心食用北海道的海產，因為根據洋流流向，和輻射不可能由水流帶往北海道。」請問：上文中提到的洋流為何？(A) 親潮 (B) 黑潮 (C) 中國沿岸流 (D) 北大西洋暖流

33. 朝鮮半島位居中國與日本之間，下列有關半島的氣候敘述，何者「錯誤」？(A) 有東亞陸橋的號稱 (B) 夏季時，較中國東北地區多雨 (C) 冬季時，較日本多雨 (D) 年溫差較中國東北地區小

34. 菲律賓的蘇祿是世界著名的海盜窩，他們每每乘著盛行風揚帆到西南方的印尼婆羅洲、巴拉灣等地，因此當地的居民稱此盛行風為「海盜風」。依照海盜航行的方向判斷，這些海盜最常出沒的季節為何？(A) 春 (B) 夏 (C) 秋 (D) 冬

35. 日本政府擴大雇用老年人口再就業政策，同時銀髮族商品持續熱賣，諸如養身食品、加大按鍵的手機，方便年長者使用。導致這些狀況的主因何者「錯誤」？(A) 醫療進步 (B) 少子化 (C) 人口負成長 (D) 性別比嚴重失衡

※下圖為東南亞國家簡圖，依據下圖代碼回答問題：



36. 甲國可以說是呈現東西交融的成果。因地緣關係受中華文化影響相當明顯，今年五月更因與中國在南海的糾紛，危及台商在該國的安全。此國為？(A) A (B) B (C) D (D) E

37. 乙國位於台灣南方，因經濟海域問題爆發海上衝突的國家？(A) a (B) b (C) d (D) e

38. 丙國被稱為「微笑國度」，是虔誠的小乘佛教國家，甚至當地速食店的麥當勞叔叔都出現右圖的姿勢。丙國為？(A) A (B) D (C) b (D) d

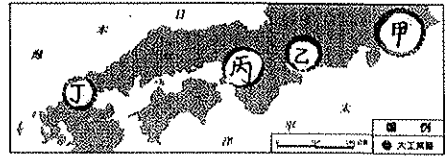


39. a 國受到西班牙殖民的影響，主要信奉的宗教為何？(A) 伊斯蘭教 (B) 佛教 (C) 天主教 (D) 印度教

40. 著名的樂高積木樂園即將在東南亞開幕，屆時b國著名的地標，如雙子星大樓等皆會被做成維妙維肖的積木展示。上述的丁國應為下列何者？

- (A) 泰國 (B) 印尼 (C) 馬來西亞 (D) 新加坡

※下圖為日本重要工業區示意圖，依據題目回答下列問題：



41. 日本大多數工業區集中在下列那一島？(A) 九州 (B) 本州 (C) 四國 (D) 北海道

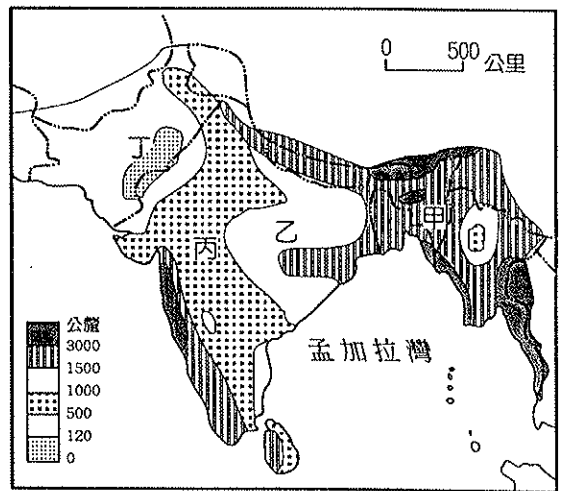
42. 甲、乙、丙依序為日本哪三大平原？(A) 關東、近畿、濃尾 (B) 近畿、濃尾、關東 (C) 濃尾、近畿、關東 (D) 關東、濃尾、近畿

43. 日本首都東京位於那一區中？(A) 甲 (B) 乙 (C) 丙 (D) 丁

44. 由圖中工業區所在的位置條件，可得知日本工業發展上最大的缺點是：(A) 山多平原少 (B) 勞工工資昂貴 (C) 缺乏原料、能源 (D) 國內市場規模太小

45. 影響日本工業區分布的區位條件是：(A) 原料 (B) 動力 (C) 交通 (D) 市場

※下圖為南亞地區的降雨量分布圖，請根據圖中資訊與代號回答下列問題：



46. 甲區為南亞雨量最多的地方，最可能的原因為何？(A) 地形、緯度 (B) 風向、地形 (C) 洋流、地形 (D) 風向、緯度

47. 丙區位於德干高原背風側，盛產何種作物？(A) 棉花 (B) 水稻 (C) 黃麻 (D) 甘蔗

48. 承上題，丙區的農業經營方式與主要栽種的作物與下列何地「相同」？(A) 關東平原 (B) 中國新疆 (C) 朝鮮半島 (D) 東印度群島

49. 造成丙區乾燥及甲區濕潤的季風，為何種方向的風？(A) 東北 (B) 東南 (C) 西北 (D) 西南

50. 丁區的沙漠，為印度與何國的交界？(A) 孟加拉 (B) 不丹 (C) 巴基斯坦 (D) 尼泊爾