

宜蘭縣立羅東國中 102 學年度第二學期七年級地理科第三次段考試卷

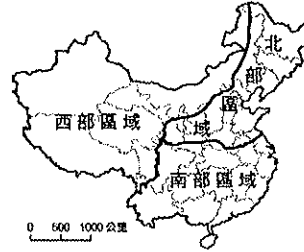
選擇題：每題 2 分，請用 2B 鉛筆作答

班級： 座號： 姓名：

- 新聞報導指出：「因中國欲在南海上的島嶼興建軍事基地，引起某國不滿，而向中國提出抗議。」請問：文中的某國最可能為何？(A)日本 (B)南韓 (C)菲律賓 (D)俄羅斯。
- 目前中國設有四個直轄市，其中哪一直轄市所處的緯度最低？(A)天津 (B)上海 (C)北京 (D)重慶。
- 中國農人為解決耕地不足問題，常在哪一種地形區開闢梯田，種植作物？(A)高原 (B)盆地 (C)丘陵 (D)平原。
- 地理課時老師請同學說明中國的海岸地形，下列哪一位同學的說法有誤？(A)子堯：「中國北部區域的海岸多為沙岸，但遼東半島例外。」(B)崇恩：「中國南部區域的海岸多為岩岸，故適合發展海洋漁業。」(C)志宇：「山東半島位於杭州灣以北，故為沙岸地形。」(D)承佑：「珠江三角洲一帶的海岸屬於沙岸地形。」

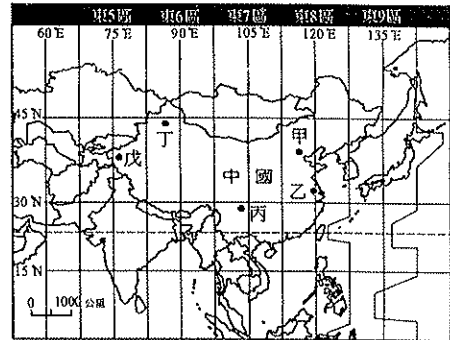
- 圖中箭頭所指的方向為何？(A)東 (B)西 (C)南 (D)北。
- 下列何者是圖中乙區的特徵？(A)地形平坦，多草原 (B)雨量稀少，多沙漠 (C)肥沃土壤，物產豐富 (D)黃土深厚，易受流水侵蝕。
- 圖中丙地最可能是下列哪個平原？(A)東北平原 (B)華北平原 (C)長江中下游平原 (D)珠江三角洲。
- 「丙」往右方會和哪個大洋相接？(A)太平洋 (B)大西洋 (C)印度洋 (D)北極海。

*請依附圖回答以下問題。請問19~21題：



- 本圖主要畫分依據以下哪一種原則畫分？(A)根據經濟發展程度畫分 (B)依照地勢高低為依據畫分 (C)依照水文分布為依據畫分 (D)綜合考量自然與人文因素劃分。
- 哪一地區擁有最多的少數民族自治區？(A)北部區域 (B)南部區域 (C)西部區域。
- 長江流域主要位於圖中何處？(A)北部區域 (B)南部區域 (C)西部區域。

*附圖為中國時區圖。請問22~25題：

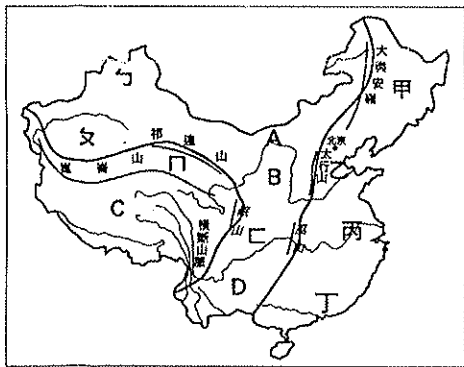


- 中國國土東西約有60度經度的差異，因此理論上中國最東端與最西端將相差幾個小時？(A)3個小時 (B)4個小時 (C)5個小時 (D)6個小時。
- 住在英國倫敦 (0.2°W, 51.5°N) 的哲叡利用聖誕假期前往中國烏魯木齊旅遊，為了配合目的地所在國家的時間，他應該將手錶時間做下列何種調整？(A)調慢 8 小時 (B)調快 8 小時 (C)調慢 11 小時 (D)調快 11 小時。
- 以全球時區的觀點來看，當北京早上11點時，附圖中何地可能正在享用早餐？(A)乙 (B)丙 (C)丁 (D)戊。
- 造成中國橫跨多個時區的原因為何？(A)地形起伏大 (B)氣候複雜多樣 (C)領土南北相差30餘度 (D)領土東西相差60餘度。
- (甲)中國(乙)加拿大(丙)俄羅斯(丁)美國。以上國家若按面積大小依序排列，正確順序為何？(A)甲乙丙丁 (B)丙乙丁甲 (C)丙丁甲乙 (D)甲丁丙乙。
- 王老闆將他公司的貨物透過貫穿歐亞大陸的「新絲路」來進行運輸，請問：「新絲路」可以有效連結下列哪兩個海洋之間的客貨運輸？(A)北極海、太平洋 (B)印度洋、大西洋 (C)大西洋、太平洋 (D)太平洋、印度洋。
- 有關中國與鄰國的位置描述，何者正確？(A)中國位於蒙古的北方 (B)日本是中國的陸上鄰國 (C)中國北與俄羅斯相接 (D)中國隔海與緬甸相望。

5.附表是中國「行政區劃」與「地理區劃」的比較，何者錯誤？(A)甲 (B)乙 (C)丙 (D)丁。

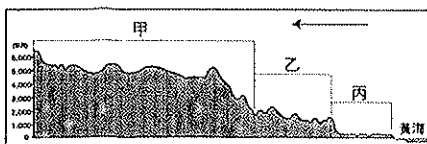
分類	(甲)劃分依據	(乙)劃分目的	(丙)界線	(丁)舉例
行政區劃	根據行政界線劃分範圍	便於統轄管理	有一明確界線	北部區域、南部區域、西部區域
地理區劃	根據不同的指標來劃分區域範圍	便於描述和應用	常無一明確界線	自治區、直轄市

*附圖為中國地形分布圖，圖中甲~丁為平原，A~D為高原，ㄅ~ㄾ為盆地。請問：

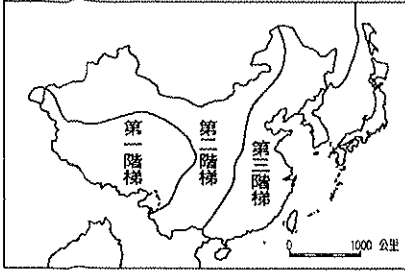


- 丁平原主要是由下列哪一條河川沖積而成？(A)長江 (B)黃河 (C)珠江 (D)松花江。
- 哪一座高原有「世界屋脊」之稱？(A)A (B)B (C)C (D)D。
- ㄅ、ㄾ兩盆地間橫互著一座山脈，其名稱為何？(A)天山 (B)阿爾泰山 (C)岡底斯山 (D)巴顏喀喇山。
- 承上題，(甲)準噶爾盆地 (乙)四川盆地 (丙)塔里木盆地 (丁)柴達木盆地。上述哪兩個盆地為以下何者？(A)甲丙 (B)甲丁 (C)乙丙 (D)乙丁。
- 中國最大的平原為何？(A)甲 (B)乙 (C)丙 (D)丁。
- 「此高原由於板塊擠壓及造山運動，形成山高谷深的景觀，加上受到冰河侵蝕影響，目前是個湖泊遍佈的高原……」上述指的是附圖中哪一高原？(A)A (B)B (C)C (D)D。
- 中國最大的沙漠位在何處？(A)ㄅ (B)ㄾ (C)ㄗ (D)ㄘ。
- 哪一地形區因受河川侵蝕，成為中國水土流失最嚴重的高原？(A)A (B)B (C)C (D)D。
- 何者是地形崎嶇不平，且石灰岩地形發達的高原？(A)A (B)B (C)C (D)D。

*附圖為沿北緯36度所畫的中國地形剖面圖。請問15~18題：

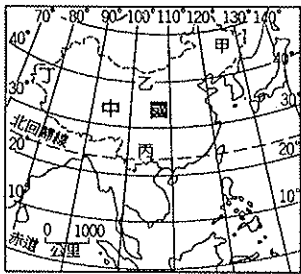


*附圖為中國地勢三級階梯示意圖。請問29~32題：



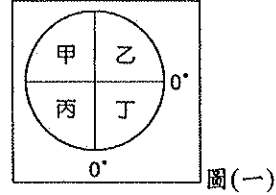
29. 圖中第一級階梯的主要地形為下列何者？ (A)塔里木盆地 (B)內蒙古高原 (C)青藏高原 (D)雲貴高原。
30. 圖中第二級階梯以下列哪些地形為主體？ (A)山地、平原 (B)高原、盆地 (C)丘陵、平原 (D)山地、丘陵。
31. 下列哪些山脈組合是第二級階梯與第三級階梯的分界？ (A)祁連山、岷山 (B)大興安嶺、太行山、巫山 (C)秦嶺、陰山 (D)喜馬拉雅山、橫斷山脈。
32. 中國的地勢呈現西高東低的分布狀況，這種現象對當地環境特色的主要影響，不包括下列何者？ (A)興建東西向的運河 (B)海洋溼氣深入內陸 (C)人口分布東多西少 (D)主要河港位於東側。
33. 中國為彌補天然形勢上不足，因此在隋唐時期興建人工運河，加強河川航運的功能。請問：中國的人工運河主要是什麼方向？ (A)東北—西南向 (B)西北—東南向 (C)東—西向 (D)南—北向。
34. 京杭大運河主要聯絡哪兩個地理區？ (A)東南丘陵、嶺南丘陵 (B)珠江三角洲、長江中下游平原 (C)長江中下游平原、華北平原 (D)華北平原、東北平原。
35. 隋朝時皇帝航行於京杭大運河，前往各地巡察，順便了解相關的航運狀況。請問：皇帝若由錢塘江出發，其主要的航行方向為下列何者？ (A)向北航行 (B)向南航行 (C)向東航行 (D)向西航行。
36. 中國的行政區劃中，「自治區」的設置有什麼樣特殊的原因？ (A)為保障少數民族的政治、經濟與社會文化所設置 (B)中國幅員廣大，管理困難，故同意偏遠地區的少數民族獨立，自行治理國家 (C)少數民族希望獨立，自治區是正式獨立前的過渡單位 (D)由於這些區域內的人口數量太多，故設立自治區。

* 中國的地理位置分布對境內各地的影響甚大，請根據附圖回答37~40題：

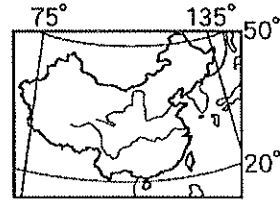


37. 中國受地理條件影響，各地區的時區不同。請問：附圖中的哪一個地方，會最慢見到2015年的新年曙光？ (A)甲 (B)乙 (C)丙 (D)丁。
38. 若以緯度區分全球的氣候帶，則中國缺少哪個類型的氣候？ (A)副熱帶氣候 (B)熱帶氣候 (C)溫帶氣候 (D)寒帶氣候。
39. 中國東半部的山脈，多呈現下列何種走向？ (A)東北—西南走向 (B)西北—東南走向 (C)東—西走向 (D)南—北走向。
40. 承上題，中國東半部的山脈的走向主要受哪兩個版塊的擠壓形成？ (甲)歐亞板塊 (乙)菲律賓板塊 (丙)太平洋板塊 (丁)印澳板塊 (A)甲乙 (B)乙丙 (C)甲丁 (D)甲丙。
41. 下列關於中國行政區的敘述中，何者錯誤？ (A)有4個直轄

- 市 (B)香港、澳門為少數民族自治區 (C)設有2個特別行政區 (D)特別行政區、直轄市、少數民族自治區地位與省相當。
42. 附圖(一)為經緯度簡圖，中國位於圖中的哪一個區域？ (A)甲 (B)乙 (C)丙 (D)丁。

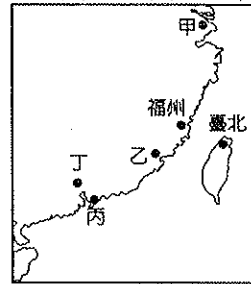


43. 附圖(二)為中國疆域圖，由圖中不能看出中國疆域哪一特色？ (A)面積廣大 (B)國土完整 (C)位居溫帶 (D)地形複雜。



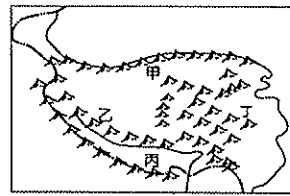
圖(二)

44. 「中國西部深入亞洲內陸，是陸上商旅行走歐洲、西亞的要道；沿海地區進出口貿易便利，與外國接觸早且頻繁，乃成為中國目前經濟最活躍的地帶。」上文是描述中國哪一項地理特色的優越性？ (A)面海背陸，宜海宜陸 (B)位居中緯度，氣候溫和 (C)地勢起伏大，擁有多種不同的氣候 (D)面積廣大，幅員完整。
45. 下列哪些國家的領土與中國領土直接相連？ (甲)南韓 (乙)俄羅斯 (丙)越南 (丁)哈薩克 (A)甲乙丙 (B)甲乙丁 (C)甲丙丁 (D)乙丙丁
46. 香港位於珠江口，腹地廣大，為著名的轉口港，位於附圖(三)中的何處？ (A)甲 (B)乙 (C)丙 (D)丁。



圖(三)

47. 中國地勢第一級階梯的地形概況如附圖(四)所示，請問：世界最高峰的喜馬拉雅山應位於圖中何處？ (A)甲 (B)乙 (C)丙 (D)丁。



圖(四)

48. 雅伶想利用暑假時到上海參觀世界博覽會，行前她對上海的地理環境做了一番研究，但下列哪一項卻寫錯了？ (A)行政區劃：上海為直轄市 (B)地形：上海位於第三級階梯 (C)經濟：上海位於東部經濟帶 (D)地理區劃：上海位於南部區域。
49. 中國行政區所劃分的22個省中，「最北」與「最南」的省分別為何？ (A)河北省；海南省 (B)黑龍江省；海南省 (C)河北省；雲南省 (D)黑龍江省；雲南省。
50. 以下對中國的「相對位置」的敘述，何者不正確？ (A)宜修：「中國位居東半球、北半球。」 (B)婷鈺：「中國位居太平洋東側。」 (C)宜亭：「中國位居亞洲大陸東部。」 (D)谷環：「中國西北深入歐亞大陸。」