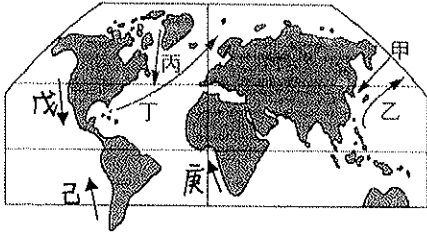


一、選擇：每題 2 分

- () 環太平洋火山地震帶是全世界火山及地震活動最頻繁的地區，哪座山脈的形成是因太平洋板塊與其他板塊的碰撞擠壓而形成？(A) 落磯山脈 (B) 阿爾卑斯山 (C) 喜馬拉雅山 (D) 天山。
- () 關於地表海陸分布的特色，下列敘述何者「不」正確？(A) 海陸面積比例約為 7:3 (B) 陸地大多分布於北半球 (C) 南半球的海洋面積大於陸地面積 (D) 陸半球的陸地面積大於海洋面積。
- () (甲) 日照強烈 (乙) 終年高溫 (丙) 空氣稀薄 (丁) 年溫差大，上述哪幾項是青藏高原氣候的特色？(A) 甲乙 (B) 甲丙 (C) 乙丁 (D) 丙丁。
- () 在某國街道可看到牛隻漫步在街道上，人車會禮讓牛通過的景象，與當地的宗教信仰有關。該國人民多數信奉的宗教下列何者？(A) 印度教 (B) 基督教 (C) 佛教 (D) 伊斯蘭教。
- () 承 4 題，該國受殖民母國的影響，通用的官方語言是哪一種？(A) 英語 (B) 法語 (C) 中文 (D) 西班牙語。

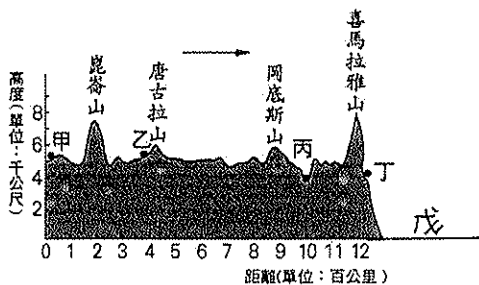
二、題組：每題 2 分

(一) 附圖為海陸分布與洋流簡圖。請問：



- () 「黑潮」位於圖中哪一個洋流？(A) 甲 (B) 乙 (C) 丙 (D) 丁。
- () 「涼流」是由中緯度溫帶海域流向低緯度熱帶海域的洋流。圖中何者為涼流？(A) 乙 (B) 丙 (C) 丁 (D) 戊。
- () 圖中共有幾個洋流屬於寒流？(A) 2 (B) 3 (C) 4 (D) 5。
- () 圖中的「己」洋流的名稱是什麼？(A) 墨西哥灣流 (B) 本吉拉洋流 (C) 秘魯洋流 (D) 拉布拉多洋流。
- () 挪威位於高緯度地區，有部分的港口冬天不結冰的原因是，哪一個洋流流經過？(A) 甲 (B) 乙 (C) 丙 (D) 丁。
- () 非洲納米比沙漠乾燥少雨，與哪一個洋流經過有關？(A) 丁 (B) 戊 (C) 己 (D) 庚。

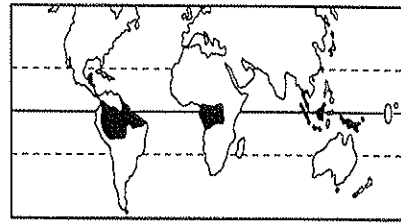
(二) 附圖為中國青藏地區的地形剖面圖。請回答下列問題：



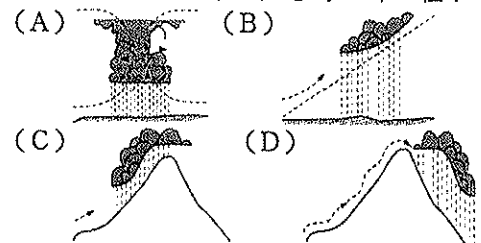
- () 藏北高原位於圖中的哪一區？(A) 甲 (B) 乙 (C) 丙 (D) 丁。
- () 適合發展農業的地區位於圖中的哪一區？(A) 甲 (B) 乙 (C) 丙 (D) 丁。
- () 承 13 題，該地區種植的作物是哪一種？(A) 小麥 (B) 稻米 (C) 玉米 (D) 青稞。

- () 承 13 題，該地區氣候較濕潤的原因是可獲得哪一個海洋的水氣？(A) 太平洋 (B) 印度洋 (C) 大西洋 (D) 北極海。
- () 圖中的「戊」區是哪一個國家？(A) 印度 (B) 阿富汗 (C) 巴基斯坦 (D) 緬甸。

(三) 附圖是氣候類型示意圖。請問：



- () 圖中的黑色區域是哪一種氣候區？(A) 熱帶莽原 (B) 熱帶沙漠 (C) 熱帶雨林 (D) 熱帶季風。
- () 承 17 題，該地區的降雨型態屬於哪一種？

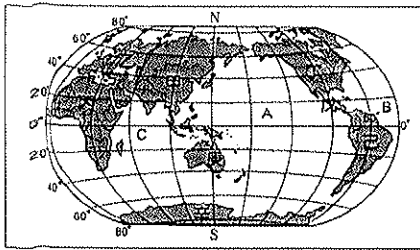


- () 該地區的氣候特徵為何？(甲) 終年高溫 (乙) 終年多雨 (丙) 夏雨冬乾 (丁) 生態多樣化 (戊) 動物作季節性遷徙。(A) 甲乙丁 (B) 甲丙丁 (C) 甲乙戊 (D) 丙丁戊。
- () 承上題，此氣候分布區域因人為大量開發，對於環境所造成的負面影響中，「不」包括 (A) 溫室效應 (B) 臭氧層變薄 (C) 氣候異常 (D) 物種消失。

(四) 海拔高的青藏高原依地理環境的不同分為 (甲) 藏北高原 (乙) 藏南縱谷 (丙) 柴達木盆地 (丁) 青海湖盆地四個地理區，請問：

- () 青藏地區的畜牧區分布在哪兩區？(A) 甲乙 (B) 乙丙 (C) 丙丁 (D) 甲丁。
- () 青藏高原適合哪一種畜牧方式？(A) 游牧 (B) 放牧 (C) 山牧季移 (D) 欄牧。
- () 適應青藏高原高寒的氣候環境，有「高原之舟」稱呼的牲畜是哪一種？(A) 犏牛 (B) 羊駝 (C) 綿羊 (D) 馬。
- () 盛產煤、石油等礦產資源，適合發展工礦業的是哪一區？(A) 甲 (B) 乙 (C) 丙 (D) 丁。
- () 青藏高原地勢高，是中國主要大河的發源地，下列哪一條河流「不」是源於此處？(A) 黃河 (B) 長江 (C) 珠江 (D) 怒江。
- () 「一年無四季，一日見四季」用以形容青藏高原的氣候，其具有的意義為何？(A) 年溫差小、日溫差大 (B) 年溫差大、日溫差小 (C) 年溫差小、日溫差小 (D) 日溫差大、年溫差大。
- () 青藏鐵路經過的可可西里自然保護區，位於哪一個地理區？(A) 甲 (B) 乙 (C) 丙 (D) 丁。

(五) 附圖為世界海陸分布簡圖，其中甲~辛為各大洲，A~C 為三大洋。請問：



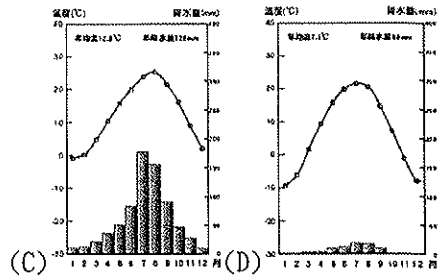
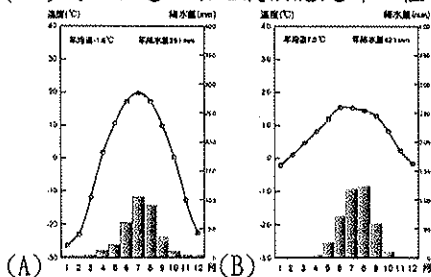
28. () 各大洲中，面積最大的「甲」是哪一洲？ (A) 歐洲 (B) 亞洲 (C) 非洲 (D) 北美洲。
29. () 哪二洲因曾被西班牙殖民，而以西班牙語為其主要語言？ (A) 甲庚 (B) 丙丁 (C) 丁戊 (D) 己戊。
30. () 陸半球中心在法國，該國位於哪一洲？ (A) 甲 (B) 乙 (C) 丁 (D) 庚。
31. () 水半球中心在紐西蘭，該國位於哪一大洋上？ (A) A (B) B (C) C。
32. () 第一批從歐洲移居到美洲的移民，須乘船橫渡哪一個大洋？ (A) A (B) B (C) C。
33. () 人口成長速度最快是分布在哪兩洲？ (A) 甲丙 (B) 乙丙 (C) 丁己 (D) 乙己。
34. () 哪一洲的雨林占世界雨林面積的一半，亞馬孫流域分布其中，此地被稱作「地球之肺」？ (A) 丁 (B) 戊 (C) 己 (D) 庚。
35. () 濱臨印度洋的陸地有哪些洲？ (A) 甲庚丁己 (B) 乙丙丁己 (C) 丙庚己辛 (D) 甲丙辛庚。
36. () 哪一洲擁有世界上最長的山脈？ (A) 甲 (B) 丙 (C) 丁 (D) 己。

(六) 由於自然環境及人文條件的差異，全球人口的空間分布很不均勻。請問：

37. () 地勢平坦的平原地區，通常為人口集中的精華區，但是西伯利亞與北美加拿大大平原的部分地區人口卻很稀少，造成此現象的主要原因為何？ (A) 沙漠廣布 (B) 氣候嚴寒 (C) 資源缺乏 (D) 開發較晚。
38. () 世界人口分布不均，唯有歐洲人口分布均勻，主要原因為何？ (甲) 資源豐富 (乙) 平原廣大 (丙) 氣候溫和無沙漠 (丁) 工業發達 (A) 甲乙 (B) 乙丙 (C) 丙丁 (D) 甲丁。
39. () 世界人口稀少的地區，「不」包括下列哪一區？ (A) 亞馬孫盆地 (B) 非洲北部 (C) 北美東部 (D) 青藏高原。

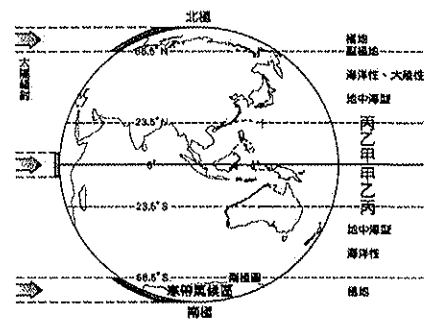
(七) 青藏鐵路是當今世界海拔最高、路線最長的高原鐵路。請問：

40. () 青藏鐵路完成後，使青藏地區的人民及觀光客出入更加便利，該鐵路的終點站是哪個城市？ (A) 格爾木 (B) 敦煌 (C) 西寧 (D) 拉薩
41. () 承 40 題，該地氣候應是哪一種？



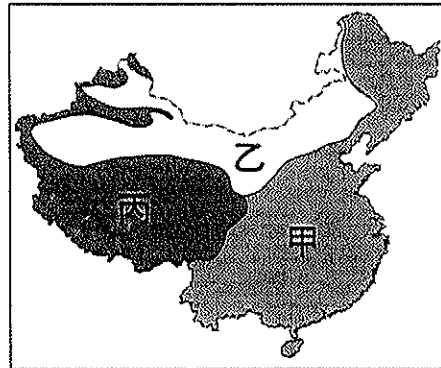
42. () 青藏鐵路的列車上設有供氧設備，避免乘客發生缺氧狀況，主要是受哪一因素影響？ (A) 氣溫較低 (B) 距海較遠 (C) 地勢較高 (D) 風力太強。
43. () 青藏鐵路直到 2006 年才全線通車，建造之際須克服凍土層的哪一種作用所造成的困難？ (A) 冰蝕作用 (B) 凍融作用 (C) 風蝕作用 (D) 斷層作用。

(八) 附圖中甲乙丙分屬不同的氣候區。請問：



44. () 圖中從甲到丙呈現的氣候變化為何？ (A) 氣溫漸高 (B) 降雨漸少 (C) 植被漸多樣 (D) 人口漸少。
45. () 圖中的「丙」區是哪一種氣候？ (A) 熱帶沙漠 (B) 熱帶莽原 (C) 熱帶雨林 (D) 熱帶季風。
46. () 承 45 題，該地區氣候形成主要是受哪一種因素影響？ (A) 位於赤道無風帶 (B) 東北信風吹拂 (C) 盛行西風吹拂 (D) 副熱帶高氣壓籠罩。
47. () 「此地雨量稀少且集中於夏季，乾溼季明顯，林木稀少，以高大的草類為主。」圖中哪一區符合以上敘述？ (A) 甲 (B) 乙 (C) 丙

(九) 附圖是中國三大氣候類型分布圖。請問：



48. () 甲與乙間的分界線，主要是依據何項氣候資料為界？ (A) 1 月均溫 0°C (B) 1 月均溫 18°C (C) 年雨量 250 mm (D) 年雨量 500 mm 。
49. () 圖中何者的七月月均溫可能最低？ (A) 甲 (B) 丁 (C) 丙。
50. () 圖中何者因氣候乾燥導致年溫差可能最大？ (A) 甲 (B) 乙 (C) 丙。