

一、題組 (每格 2 分, 共 68 分)

年 班 座號: 姓名:

* 聚落的發展依其特性可分為下列四種, 請依下列各題敘述, 選出最適合的答案代號。

- (A) 集村 (B) 散村 (C) 都市 (D) 都會區

1. 地形起伏大的傳統聚落。
2. 水源缺乏的農業聚落。
3. 交通位置優良的工商聚落。
4. 城鄉界限模糊的聚落型態。

* 臺灣除了環島鐵路之外, 尚有四條風景優美、各具特色的支線鐵路。附圖是臺灣鐵路的分布圖。請問:

5. 臺灣鐵路除了環島系統外, 還有四大支線零星分布, 鐵路線分布遠不及公路普遍, 此現象和鐵路的何種特性最為相關? (A) 適應地形能力差 (B) 不利長途運輸 (C) 速度較緩慢 (D) 載運量較小
6. 如果要搭乘某支線參加元宵節放天燈活動, 應搭乘哪一支線? (A) 甲 (B) 乙 (C) 丙 (D) 丁。
7. 嘉義山區蘊藏豐富的林木資源, 從前日本人將山上的檜木運到平地, 是利用哪一條鐵路支線運送木材? (A) 甲 (B) 乙 (C) 丙 (D) 丁



8. 如果想要到南投旅遊, 可以搭乘哪一條鐵路支線的火車? (A) 甲 (B) 乙 (C) 丙 (D) 丁

* 下列為北部區域各縣市的发展特色, 請填入其相對應的縣市代號。

9. 國家的門戶、國際航空運輸發達。(A) 甲 (B) 乙 (C) 戊 (D) 庚
10. 因蔣渭水高速公路通車, 便利與臺北都會區的往來。(A) 甲 (B) 乙 (C) 丙 (D) 丁
11. 技術發達, 臺灣高科技產業的火車頭。(A) 丙 (B) 戊 (C) 己 (D) 庚
12. 人口超過 390 萬人, 高居全臺第一。(A) 甲 (B) 乙 (C) 丙 (D) 戊
13. 港口貿易發達, 冬季陰雨綿綿 (A) 甲 (B) 乙 (C) 丙 (D) 丁



* 現代化的運輸方式有陸運、水運、空運、管線運輸。請問:

14. 從臺灣彰化田尾運送菊花到澳洲, 最適合的交通方式為何? (A) 鐵路 (B) 公路 (C) 海運 (D) 空運
15. 從印尼進口木材到臺灣, 最適合的交通方式為何? (A) 公路 (B) 鐵路 (C) 海運 (D) 空運
16. 將進口的液化天然氣由港口送到瓦斯公司的儲存槽, 最適合的交通方式為何? (A) 管線 (B) 鐵路 (C) 海運 (D) 空運
17. 如果要宅配團購美食到一山區住戶, 最適合的交通方式為何? (A) 鐵路 (B) 公路 (C) 海運 (D) 空運

* 中部區域的面積相當廣大, 區域內各縣市的发展狀況不同。下列為中部區域各縣市的发展特色, 請填入其相對應的縣市代號。

18. 每到油桐花季時, 皆會吸引大批遊客前往中部的山城賞花, 順便到以客家文化為主題的休閒農場遊玩。請問: 上述活動地點主要分布於哪一縣市? (A) 甲 (B) 乙 (C) 丙 (D) 丁
19. 颱風過後蔬菜價格大漲, 造成民生問題嚴重。若要了解中部區域農業產地的狀況, 應該前往附圖中哪些縣市探訪? (A) 甲、乙 (B) 丙、戊 (C) 甲、丁 (D) 乙、戊



20. 臺灣的茶葉聞名遐邇, 成為中國遊客首選的伴手禮。請問: 他們在前往中部旅行的過程中, 如欲參觀選購著名的魚池日月潭紅茶, 則應該前往下列何處? (A) 甲 (B) 乙 (C) 丙 (D) 丁

* 八田與一紀念公園, 主要為紀念八田與一當時興建嘉南大圳的工程, 提供農業活動的灌溉所需。請問:

21. 嘉南平原為全臺灣最大的平原地形, 然而因為受到下列何項因素的影響, 造成此區域早期農業灌溉用水不足? (A) 地下水汙染 (B) 背東北季風 (C) 民生用水需求量大 (D) 水土保持不良

▲圖(一)

22. 在八田與一完成嘉南大圳後, 臺灣緊接著又興建當時世界第三大的烏山頭水庫, 有利於何種作物的耕種, 使南部區域成為臺灣最重要的農產區? (A) 茶葉 (B) 樟腦 (C) 稻米 (D) 小麥

* 行政院南部聯合服務中心近年來推行南臺灣觀光護照, 希望可以振興當地的觀光活動, 推廣當地的文化特色, 並結合觀光護照的優惠活動, 吸引全臺旅客一起瘋南臺灣。附表為當時所推出的相關活動內容, 請根據相關資料回答問題:



23. 行政院所推出的觀光護照中, 包含了景點的入場優惠。若想要善加利用觀光護照參觀眾多古蹟, 則可到圖(一)中何處旅遊? (A) 甲 (B) 乙 (C) 丙 (D) 丁

24. 小名到此地旅行, 用照相機拍下如圖(二)的照片。請問: 圖(二)中的景象最可能出現於圖(一)中的何處? (A) 甲 (B) 乙 (C) 丙 (D) 丁

▲圖(二)

25. 臺灣南部的特色美食小吃吸引眾多遊客前往品嚐, 其中養殖魚、蝦及鮮蚵, 更是各地老饕的最愛。請問: 南部區域的養殖漁業發達, 主要是因為具有下列何種地形?

- (A) (B) (C) (D)



26. 承上題選項, 屏東縣的海岸線相當優美, 每年均吸引眾多遊客前往, 成為地方政府重要的觀光收入來源。請問: 屏東縣境內的墾丁國家公園以何種海岸地形聞名?

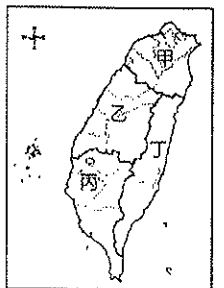
* 臺灣各區域受到自然及人文因素的影響, 造成各區域間的发展差異。請問:

27. 區域發展直接影響人口的移動, 目前臺灣人口密度最高的區域應是右圖中的哪一區? (A) 甲 (B) 乙 (C) 丙 (D) 丁

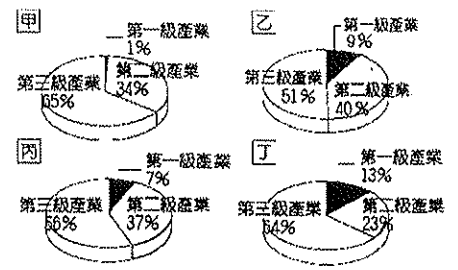
28. 承上題, 該區域人口密度高和下列何項因素的關係最大? (A) 就業機會多 (B) 土地面積大 (C) 降雨量充沛 (D) 環境汙染少

* 附圖為臺灣各區域產業就業人口比例圖。請問:

29. 臺灣四個區域的產業皆以哪一級產業為主? (A) 第一級 (B) 第二級 (C) 第三級 (D) 無共通性。



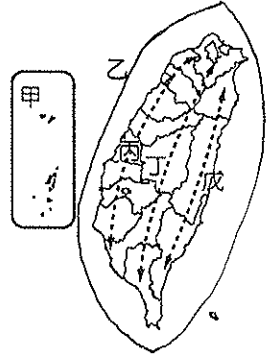
30. 丁區的第二級產業比例為四個區域中最低，可見工業較不發達，它應是臺灣哪一區域的產業結構？(A)北部區域 (B)中部區域 (C)南部區域 (D)東部區域。
31. 承上題，丁區第三級產業所占比例高，其最可能的產業發展為何？(A)商業 (B)運輸業 (C)觀光業 (D)金融業
32. 人口最多，工商業最發達的臺北市應位於圖中哪一區？(A)甲 (B)乙 (C)丙 (D)丁



*臺灣未來的國土空間規劃主要依據各地不同的條件來設計，期望可為未來國家發展奠定基礎，其相關計畫如附表所示。請問：

33. 各地區的發展條件不同，政府擺脫了過去一致性的思考模式，期望能找到各區域的特色，設計出因地制宜的相關策略。附表中「以生態環境資源保育為重心」定位的B區域應位於附圖中何處？(A)甲(B)乙(C)丙 (D)丁
34. 若依各縣市所在位置的特性判斷，下列哪一縣市的發展方向屬於附表中C區域的定位目標？(A)臺北市 (B)南投縣 (C)屏東縣 (D)花蓮縣

區域	定位
A	強調都市與創新產業發展
B	以生態環境資源保育為重心
C	以適性發展優質生活產業
D	強調海岸及海洋之自然珍貴資產
E	強調人文及自然環境保全與觀光發展



二、單題 (每格2分, 共32分)

35. 「出名鯉魚山亦有一支石雨傘，初鹿之夜牧場唱情歌，紅頭嶼、三仙臺美麗的海岸..」這是某歌手獻給家鄉的一首歌，囊括了當地景點及特產。請問：這首歌描寫的是哪一個縣市？(A)宜蘭縣 (B)花蓮縣 (C)臺東縣(D)屏東縣
36. 右圖中，哪一個國家都市化程度最高？(A)甲(B)乙(C)丙 (D)丁
37. 臺灣早期沿海形成許多港口，南北往來只能依賴沿海海運，此現象和下列哪一個因素最相關？(A)氣候多雨 (B)多東西向河川 (C)海運較便宜 (D)海運運輸量大。
38. 一個港口貨物吞吐量及腹地的大小和下列哪一因素有關？(A)港口本身的地質構造(B)港口的資源多少 (C)港口附近交通系統多寡 (D)港口的人口多寡。
39. 臺灣五大都會區分別為臺北基隆、桃園中壢、臺中彰化、臺南、高雄，其共同特徵有：(甲)第二、三級產業人口比例高(乙)皆包含一個以上直轄市(丙)皆位於臺灣西部地區(丁)人口數皆因自然增加所致。以上敘述何者正確？(A)甲乙 (B)丙丁 (C)甲丙 (D)乙丁
40. 臺灣目前已通車的大眾捷運系統有臺北捷運及高雄捷運，成為當地居民主要的交通方式。關於「大眾捷運系統」的敘述，何者正確？(A)有助於臺灣東西部均衡發展 (B)與地面交通交會，故仍有塞車問題 (C)適合短程運輸 (D)運客量較汽車小
41. 交通可分為運輸和通訊兩種方式，請問：下列哪些屬於通訊方式？(甲)自來水管(乙)輸油管(丙)e-mail (丁)世界盃足球賽的實況轉播(戊)廣告單(己)電話(庚)鐵路 (A)甲乙丙丁 (B)乙丙丁戊 (C)丙丁戊己 (D)甲戊己庚
42. 根據目前臺灣高鐵快速、票價昂貴、停車站少等利於長途運輸的交通特性判斷，高鐵對臺灣哪一種運輸業者的衝擊最大？(A)航空業 (B)捷運 (C)汽車客運 (D)計程車業。
43. 中部區域的濁水溪下游一帶由於平原面積廣大，因此農業活動相當發達，加上下列哪一條交通路線通車後，可以快速將生鮮農產品運送到各大都市，使區域內的傳統農業逐漸轉作花卉、蔬果？(A)中山高速公路 (B)蘇花公路 (C)中部橫貫公路 (D)蔣渭水高速公路
44. 現代經濟發展的過程中，國際分工已成為不可避免的趨勢。其中中部區域即以何種產業升級的方式創造更多的利益，成為相當成功的典範？(A)傳統機械→高級自行車 (B)電子玩具→高科技產業 (C)養殖漁業→罐頭食品業 (D)傳統稻作→食品加工業
45. 右圖為東部區域的氣溫雨量圖，請由降雨月分判斷影響此區域降雨量的原因為何？(A)梅雨滯留期長 (B)颱風侵襲頻繁 (C)東北季風盛行 (D)午後對流旺盛
46. 下列哪一個縣市受到產業的影響，吸引了眾多高學歷人口的移入，使該縣市民眾的教育程度較其他縣市為高？(A)新竹市(B)臺中市 (C)嘉義市 (D)臺東縣
47. 東部區域工業活動較不發達，當地居民除觀光業外，近年來亦積極發展農業活動。請問：若根據當地條件判斷，當地最適合的農業類型中不包括下列何者？(A)無毒農業 (B)粗放農業 (C)休閒農業 (D)有機農業
48. 臺灣的民族組成概況如附圖所示。請問：附圖中僅占2%的原住民以分布在哪一個縣市的人數最多？(A)桃園縣 (B)宜蘭縣 (C)花蓮縣 (D)臺東縣
49. 金門由國防任務逐漸轉為觀光發展，當地的氣候成為阻礙發展的原因之一。尤其是哪一季節時，全島籠罩在霧氣之中，航空運輸經常出現停擺？(A)春季 (B)夏季 (C)秋季 (D)冬季
50. 馬祖北竿鄉芹壁村的石頭屋由堅硬的花崗岩砌成，窗戶偏小，除了可阻止海賊入侵外，還和當地哪一項氣候特徵有關？(A)多豪雨 (B)多雪災 (C)日照強 (D)多強風

單位：萬人

國家	甲	乙	丙	丁
人口總數	2,100	3,600	5,000	5,400
都市人口	1,400	1,800	2,800	2,900

