

壹、單選題 (1-20 題 2.5 分, 21-45 題 2 分)

01. 右圖的所列地區中, 宗教信仰相同的是
(A)甲、丁 (B)甲、乙 (C)乙、丙 (D)乙、丁。



02. 「巴格達」是伊拉克的首都, 也是古代文明巴比倫帝國的首都, 在西亞地區是一處物產豐富, 人口聚集的古文明發源地。請問: 相較其他西亞地區, 此地主要具有何項優越條件? (A)草原遍布, 適合畜牧(B)有河水灌溉(C)高山雪水多, 綠洲發達(D)位於迎風坡, 雨水較多。
03. 阿爾卑斯山脈有「歐洲屋脊」之稱, 下列的敘述何者錯誤? (A)由歐亞大陸、非洲大陸板塊擠壓而成(B)大致呈東-西走向(C)因緯度高, 大陸冰河發達 (D)鐵、公路的路線多沿冰河谷地而建。
04. 北歐的雖地處高緯, 但卻能充分發揮歐洲人擅於利用自然環境的特性, 靠海洋維生。請問: 在下圖四種海岸類型中, 何者就是北歐向海洋發展的重要基礎? (A)甲 (B)乙 (C)丙 (D)丁。



05. 承上題, 形成此種海岸類型的條件正確順序是 (A)U 型谷→海水入侵(B)冰蝕湖→海水入侵(C)河谷→海水入侵(D)冰蝕湖→湖水流出。
06. 歐洲人口分布最為均勻, 其最主要原因是? (A)位居陸半球中心 (B)地形平坦且無沙漠(C)海洋深入, 海運便利(D)工業發達, 經濟繁榮。
07. 十五世紀中, 哥倫布從歐洲出發向大西洋尋找想像中的東方國度, 當時他刻意將船隻航行的路線降至 30°N 以南的海域, 哥倫布此種作法是想避開何種天氣現象的阻礙? (A)西風(B)極地東風(C)東北季風(D)副熱帶高氣壓。
08. 右圖為陸半球圖。圖中甲、乙兩處緯度相當, 分居歐亞大陸東西兩岸, 但甲地沿海冬季冰封, 通航時間較短, 乙地沿海則是終年不結冰、可航行。請問: 造成乙地沿海終年不凍的原因為下列何者? (A)海底火山噴發的岩漿 (B)沿海暖流經過 (C)沿海地勢較低 (D)季風的調劑。



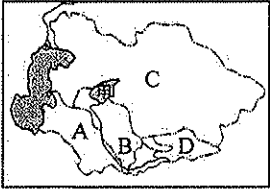
09. 西亞地區氣候特徵深深影響當地居民的生活方式, 請問: 下列哪一現象與西亞氣候關連性最小? (A)逐水草而居的游牧生活 (B)伊拉克引發波斯灣戰爭(C)厚牆、小窗的建築風格 (D)精耕細作的農業經營方式。
10. 1990 年代, 歐洲共產政權瓦解後, 東歐各國憑藉下列哪一項條件, 吸引西歐資金投入, 發展經濟(A)廉價的勞力(B)豐富的礦產(C)先進的技術(D)便捷的交通。
11. 大明今年打算與友人挑戰位於俄羅斯境內一座山, 該山脈也是歐洲與亞洲的界山, 他們最可能是挑戰下列哪一座山? (A)烏拉山(B)基阿連山(C)阿爾卑斯山(D)庇里牛斯山。
12. 黎巴嫩是西亞西部的小國家, 鄰近地中海, 近年來發展石油產業經濟, 該國可以有如此發展的原因是? (A)在地中海域發現油田(B)是油管經過的路線(C)向歐洲購買石油(D)石油大國將石油儲存在黎巴嫩。

13. 下列有關歐洲人口方面的資料何者敘述最為正確? (A)人口金字塔為低金字塔(B)醫療衛生進步, 平均壽命短 (C)人口高齡化問題嚴重 (D)社會增加率低, 人口大量移出。
14. 西亞地區氣候乾燥, 水資源十分珍貴, 為了發展農業, 採取了哪些現代化的灌溉技術? (甲)滲灌(乙)滴灌 (丙)鑽井技術取水 (丁)伏流水灌溉 (A)甲乙 (B)甲丙 (C)乙丙 (D)丙丁。
15. 下列有關高地氣候的敘述, 正確的有幾項? (甲) 氣溫、氣壓均與高度成垂直變化; (乙) 高山上因陽光強, 不僅易曬傷且覺炎熱; (丙) 迎風坡多雨, 背風坡少雨; (丁)年溫差依緯度而不同, 熱帶高山年溫差小, 溫帶高山年溫差大。 (A) 一項(B)二項 (C)三項 (D)四項。

貳、題組

◎右圖為中亞地區的簡圖。請回答 16-20 題:

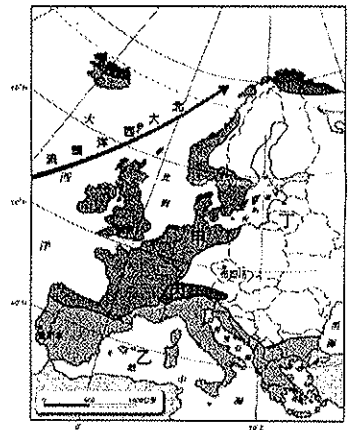
16. 中亞氣候除了部分降雨稍多, 其餘都是乾燥少雨的氣候特色, 有關影響原因的敘述, 下列何者錯誤? (A)地處內陸 (B)受副熱帶高氣壓的影響 (C)盆地地形 (D)北方受到北極海濕氣的影響。
17. 中亞國家過度引河水灌溉農田, 使得「甲」湖泊面積日益縮小。請問: 「甲」湖泊為下列何者? (A)鹹海(B)裏海(C)死海(D)貝加爾湖。
18. 承上題, 此湖泊面積縮小的主要原因是因為種植何種經濟作物? (A)椰棗 (B)棉花(C)蔬菜 (D)橄欖。
19. 承上題, 除了「甲」湖泊面積縮小外, 這樣的農業發展也造成其他嚴重的環境問題。請問: 這些問題最不可能是下列何者? (A)土地沙漠化 (B)土壤鹽鹼化 (C)水源污染 (D)地層下陷。
20. 近年來, 中國為了發展能源外交, 與中亞那一個盛產石油的國家有油管直通? (A)A (B)B (C)C (D)D。



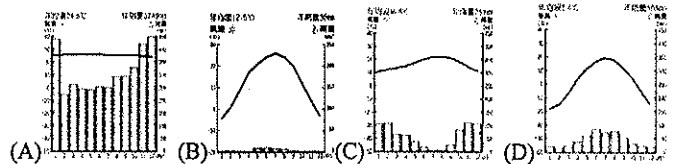
◎右圖為歐洲氣候分區簡圖。

請依圖回答 21-25 題:


21. 下列有關甲和丁兩地的氣候比較何者正確? (甲)夏季氣溫丁較甲熱; (乙)冬夏季溫差甲較丁大; (丙)降雨集中率丁較甲大; (丁)丁較甲乾燥; (戊)丁降雨季節以秋冬為主, 甲以冬季為主。 (A)甲丙丁 (B)乙丁戊 (C)甲丁戊 (D)丙丁戊。



22. 乙地的氣候圖最近似以下何者?



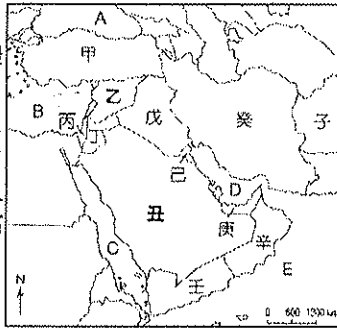
23. 下圖為乙地氣候的主要成因示意圖, 請問圖中的「↘」代表行星風系中的哪一帶? (A)東南信風帶 (B)西風帶 (C)赤道低壓帶 (D)極地東風帶。



24. 圖中丙地氣候分布的山地是 (A)庇里牛斯山(B)喀爾巴阡山(C)阿爾卑斯山 (D)亞平寧山。
25. 白色的建築物不僅可以減少艷陽熱量的吸收, 平頂的屋頂也代表著當地冬天少有降雪。請根據這些建築的特色判斷, 這種類型的建築物最有可能位於圖中哪一個氣候區? (A)甲 (B)乙 (C)丙 (D)丁

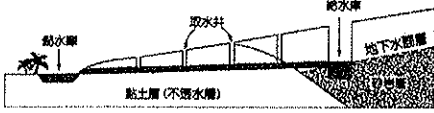
◎下圖為西亞地區的簡圖。請依圖回答 26-32 題:

26. 下列有關丑地的地理特色的敘述中何者錯誤？(A)此地主體地形是高原，板塊擠壓處，多地震 (B)該半島有北回歸線經過，氣候乾燥少雨 (C)利用鑽井技術，開發深層地下水的「人工綠洲」景觀(D) 經濟產業以石油為主，加入石油輸出國組織。



27. 圖中哪一國所信奉的宗教，與周邊大部分國家不同？該國所信奉的又是哪一宗教？(A)甲—伊斯蘭教(B) 丙—猶太教 (C) 戊—佛教 (D)庚—基督教。

28. 下圖是中國新疆常見到的引水設施，目的是為了能更有效的利用地下水。下列哪個地區的居民為了適應當地環境，也發展出類似的設施？(A)乙 (B)戊(C)辛 (D)癸。



29. 世界上 60% 已經證實的石油蘊藏量在西亞，其中絕大部份集中在波斯灣沿岸各國，波斯灣位於圖中何處？(A)A(B)B(C)C(D)D

30. 甲地控制哪 A 和 B 兩個海域的進出口，A 海和 B 海分別為下列何者？(A)裏海、黑海(B)紅海、裏海(C)黑海、地中海 (D)紅海、黑海。

31. 承上題，擁有控制 A 海進入 B 海的重要位置的城市為(A)耶路撒冷 (B)杜拜 (C)巴格達 (D)伊斯坦堡。

32. 下列有關戊地的敘述，何者正確？(A)地形是高原，屬於古陸塊的一部分(B) 石油產量居西亞第一(C)為了爭奪伊朗的石油，引發波斯灣戰爭 (D)為了控制北部的油田，曾對庫德族展開民族滅絕的軍事行動。

◎下圖為歐洲四大半島簡圖。請依圖回答 33-37 題：

33. 自古以來丙地航運、海運皆盛，海岸地形的優越其中重要的關鍵，關於丙地海岸地形的描述何者正確？(A) 沿海多島嶼，成因近似金門島 (B) 海底平緩、大陸棚廣大 (C) 是因陸地上升、海水相對下降所致 (D) 屬於斷層海岸的一種。



34. 甲地控制地中海進出大西洋的海峽是(A)博斯普魯斯(B)達達尼爾 (C) 馬摩拉海 (D)直布羅陀海峽

35. 季節的輪替影響了『斯堪地那維亞人』的思考與生活方式。寒冷與溫暖、黑暗與光明、憂鬱與希望間永無止盡的交替作用，形成了他們文化的基礎。請問：「斯堪地那維亞人」應該是生活在右圖中的何地？(A)甲 (B)乙 (C)丙 (D)丁

36. 丙地的自然環境對農業的發展有很大的限制。請問：下列對於該地的敘述何者錯誤？(A)地形多山而耕地不足(B)地勢較高而夏溫偏低 (C)雨季和生長季難以相互配合 (D)土壤石灰質含量過高

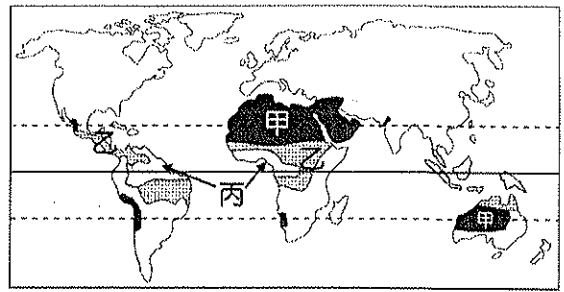
37. 西元 79 年，龐貝古城受到維蘇威火山灰所掩埋覆蓋，其位在哪地？(A)甲 (B)乙 (C)丙 (D)丁。

◎一位居住在西亞某地區的學生在日記上寫道：「並不是我自大，而是我和我的親人是由上帝所欽點的選民。所以雖然我們對抗敵人的戰爭是以寡擊眾，但最後正義和勝利終究和我們同在。當然我們並不喜歡戰爭，數千年以來，我們只是想爭回自己的土地、爭回自己的聖城……。」根據文中的敘述，請回答 38-39 題：

38. 該戰爭的爭端除了土地問題以外，還包括了哪些糾結的問題？(甲)宗教(乙)石油(丙)水權(丁)民族(戊)油管通行權。(A)(甲)(丙)(丁)(B)(乙)(丙)(丁)(C)(甲)(丁)(戊)(D)(乙)(丁)(戊)。

39. 文中所指的聖城，是一個宗教意味十分濃厚的城市，下列哪些宗教即是將此地視為聖地？(甲)伊斯蘭教(乙)基督教(丙)佛教(丁)猶太教(戊)印度教 (A)(甲)(丙)(丁) (B)(乙)(丁)(戊)(C)(甲)(乙)(丁) (D)(丙)(丁)(戊)。

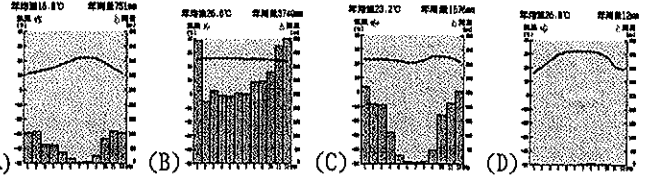
◎下圖為熱帶氣候分布圖，請依圖回答 40-42 題：



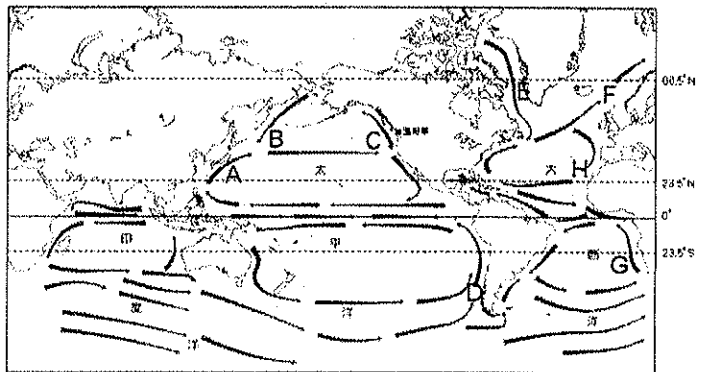
40. 關於熱帶氣候分布圖中，丙氣候之敘述何者正確？(A)屬於熱帶沙漠氣候 (B)終年有雨，以對流雨為主 (C)植被以疏林莽原為主 (D)年溫差大，日溫差小。

41. 「……遼闊的大地，大批羚羊、長頸鹿、斑馬在獅子、獵豹、豺狼的注視下，啃食著腳下的草料。在年年來回遷徙中，體驗著自然與生命的不可分離……。」此段文字最可能發生在下列一氣候區？(A)甲 (B)乙 (C)丙

42. 甲地的氣候圖為下列中何者？



◎下圖為世界洋流分布簡圖，請依圖回答 43-44 題：



43. 哪兩道洋流，可以替高緯度沿海地區帶來溫暖海水，甚至冬季不易結冰？(A)A、B (B)C、E (C)C、F (D)H、D

44. 哪一些洋流流經過的地區，會造成空氣穩定，不易下雨，甚至形成沙漠氣候？(A)B、D、F (B)A、E、G(C)C、E、F (D)D、H、G

45. 下列四張氣候圖，依序應該出現於世界地圖中哪一地區？(A)甲、丙、乙、丁 (B)乙、丁、甲、丙 (C)乙、丙、丁、甲 (D)甲、乙、丙。

