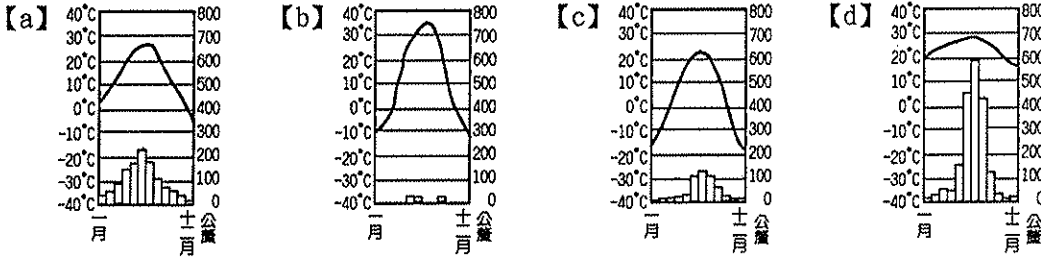


※選擇題，每題 2.5 分，共 40 題

1. 秦嶺—淮河是中國一條重要的地理界線，此線具有下列何種意義：(甲)溫帶與副熱帶的界線 (乙)一月 20°C 等溫線 (丙)年雨量 750 mm 等雨量線 (丁)季風氣候與乾燥氣候分界線；正確的是 (A) 甲乙 (B) 乙丙 (C) 甲丙 (D) 乙丁
2. 從下列四個地區的氣候分布圖判斷可知，哪一個地區的緯度最低？

(A) a (B) b (C) c (D) d.



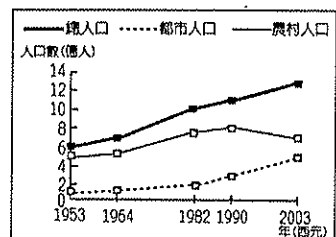
3. 承上題，哪一個地區的年溫差、日溫差最大？(A) a (B) b (C) c (D) d
4. 「a」圖的氣候類型可能是下列哪一個選項？(A) 熱帶季風氣候 (B) 副熱帶季風氣候 (C) 溫帶草原氣候 (D) 高地氣候
5. 中國實施一胎化政策後，減輕了人口壓力，但也衍生了不少問題，這些「副作用」不包括下列哪一現象？
(A) 盲流人口增加 (B) 過分寵溺兒童 (C) 性別比失衡 (D) 未來勞動力不足
6. 在台灣各大商場均可買到各式「made in china」的電器及生活用品，這可顯示中國在產業上具有何種優勢的工業區位？
(A) 資金 (B) 技術 (C) 勞工 (D) 動力
7. 雲貴地區有苗、壯、土家、布依、白、侗等二十多族，風俗各異，是中國少數民族最複雜的地區。此地區形成族系複雜的現象，其主要原因為何？(A) 氣候潮濕 (B) 鄰國眾多 (C) 山河阻隔 (D) 宗教多元
8. 中國傳統建築有「坐北朝南」的習慣，這種現象最主要是為適應下列哪項自然環境因素？
(A) 避開寒冷強風 (B) 避開強烈日照 (C) 避開夏季暴雨 (D) 避開沿海地區颱風。
9. 中國冬季季風的風向各地不同，包括 (甲) 東北風 (乙) 西北風 (丙) 北風。自華北向華南，風向依序排列為何？
(A) 甲乙丙 (B) 乙丙甲 (C) 丙甲乙 (D) 丙乙甲。
10. 承上題，此季風的特性是以下何者？(A) 溫暖潮濕 (B) 溫暖乾燥 (C) 寒冷乾燥 (D) 寒冷潮濕
11. 小芳想作一份有關「高地氣候」的報告，在搜集資料的過程中發現高地氣候的分類依據為何？
(A) 最熱月月均溫 18°C 以上 (B) 最冷月月均溫 0°C 以下 (C) 年降水量 500 毫米以上 (D) 海拔高度的 3,000 公尺以上

12. 位居中國西南地區的喜馬拉雅山為一氣候分界線，朝南的那面因為受到來自□□□的暖溼氣流影響，降水量豐沛、草木繁盛；而北面則降水量稀少，木疏草短。請問：上文敘述中的空格應是指哪個海域？(A) 太平洋 (B) 大西洋 (C) 印度洋 (D) 北極海
13. 下列有關環境負載力高低的敘述，何者不正確？(A) 與當地的自然環境有關 (B) 和生產技術的發展有關 (C) 中國東南部的環境負載力較高 (D) 負載力低的地區通常人口較密集
14. 地理老師要同學舉例中國受氣候影響下的自然或人文特色，下列哪位同學的舉例有誤？(A) 許小帥：「河川主要由西向東流。」(B) 吳小龍：「南北主要糧食作物不同。」(C) 張小祐：「北方人家中多設有炕。」(D) 陳小志：「南方河川流量比北方穩定。」
15. 中國人口眾多，對社會發展造成嚴重影響，下列那一現象與其較無關係？(A) 勞力充足 (B) 失業率高 (C) 市場廣大 (D) 礦產豐富
16. 山脈的走向若與風向有交角，則山脈往往成為氣候上的障壁。中國東半部哪種走向的山脈，阻擋來自海洋的夏季暖溼氣流，所以迎風坡溼潤多雨，而背風坡乾燥少雨？



17. 中國國土面積廣大，東西距離寬、南北橫跨緯度廣，四位同學整理中國氣候差異，那位同學說錯了？(A) 小寧：「越往內陸日溫差越大。」(B) 小柔：「降水從東北往西南遞減。」(C) 小宇：「越往北年溫差越大。」(D) 小繹：「季風氣候區依照緯度可再細分為熱帶、副熱帶、溫帶。」
18. 中國人口總數龐大，政府透過何種方式減緩此問題？(A) 降低出生率，減少自然增加 (B) 降低移入率，減少社會增加 (C) 獎勵生育，避免人口老化 (D) 宣導性別平等，平衡性別比
19. 中國人口高達 13 億，是世界上人口最多的國家，而國內人口最多的民族是下列何者？(A) 壯族 (B) 滿族 (C) 藏族 (D) 漢族
20. 夏季時，上海七月月均溫 28°C，緯度相近的拉薩卻只有 12°C，影響兩地氣溫差異的主要原因為何？(A) 地形 (B) 季風 (C) 緯度 (D) 距海遠近

21. 圖(一)為中國人口變化曲線從資料中可看出何項事實？
(A) 人口自然增加率下降 (B) 都市人口已超越鄉村人口 (C) 環境污染情況嚴重 (D) 都市人口增加較鄉村人口快速



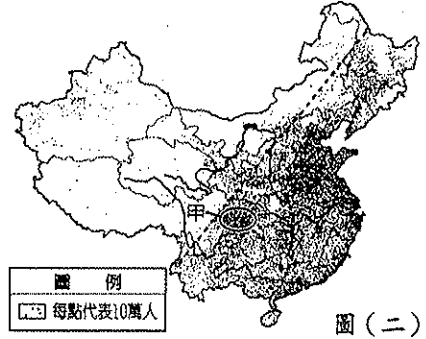
圖(一)

22. 承上題，這種中國城鄉人口變化和哪一個因關係最大？
(A) 糧食的增加 (B) 教育的普及 (C) 一胎化政策 (D) 工商業發展

23. 根據資料顯示，中國新生兒的性別比是123.6，此項數據可以顯示出何種中國人口問題？ (A) 女性新生兒較多 (B) 男性新生兒較多 (C) 壯年人口負擔沉重 (D) 人口老化嚴重
24. 近年來，中國每年約增加1,500萬左右的人口，比歐洲荷蘭、葡萄牙等國的人口數還多。由此一敘述可以發現，中國的人口具有下列哪一項特徵？ (A) 出生率高 (B) 移民人口多 (C) 人口總數多 (D) 人口密度高
25. 中國長河大多分布在太平洋外流區，這與下列哪一因素關係最密切？ (A) 風向 (B) 地形 (C) 緯度 (D) 氣溫

※圖(二)為中國人口分布圖

26. 圖(二)中的黑河至騰衝之間連線為人口疏密的分界，此界線大致會與哪一條地理分界線接近？ (A) 農業區與畜牧區 (B) 外流區與內流區 (C) 水稻區與小麥區 (D) 乾燥與高地氣候區。
27. 承上題，造成中國此種人口分布的可能原因有：(甲) 地形 (乙) 氣候 (丙) 土壤 (丁) 天然植物 (戊) 經濟；「正確」的是：(A) 甲乙丙 (B) 甲乙戊 (C) 乙丙丁 (D) 乙丙戊。



圖(二)

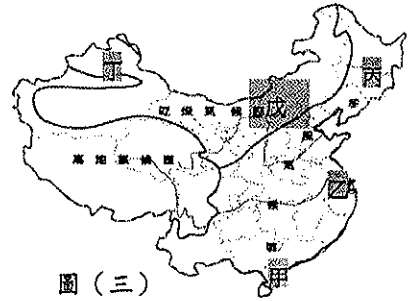
28. 承上題，下表為黑河至騰衝之間連線的東西部特色比較，請問下列何者正確？

特色	(A)面積	(B)人口密度	(C)地形	(D)環境負載力
東部地區	大	高	丘陵、高原	低
西部地區	小	低	平原、盆地	高

29. 圖(二)中的甲區人口稠密，為下列哪個地形區？ (A) 四川盆地 (B) 柴達木盆地 (C) 華北平原 (D) 長江中下游平原

※圖(三)為中國三大氣候分布圖

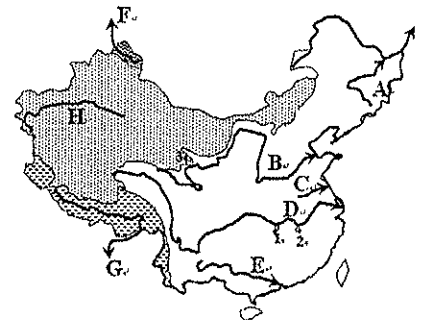
30. 圖(三)中，丁、戊、丙三種氣候區的分界指標是年雨量，依序為 (A) 250mm、750 mm (B) 250 mm、500mm (C) 500 mm、750mm (D) 500 mm、1000mm。
31. 「年雨量350公釐，最冷月均溫為-5°C。」由上文資料判斷應為圖(三)中，哪一城市的氣候？(A) 丁 (B) 乙 (C) 丙 (D) 戊。
32. 圖(三)中，丁氣候區，最「不」可能遇到的天氣現象是 (A) 颱風 (B) 暴雨 (C) 乾旱 (D) 寒害。



圖(三)

※圖(四)為中國大陸地區的主要河川分布示意圖

33. 中國南船北馬的地理分界，大致以哪一河川為界？(A) E (B) B (C) C (D) D
34. 根據圖(四)中的位置分布特色判斷，F河流入哪一個海洋為主？ (A) 太平洋 (B) 印度洋 (C) 大西洋 (D) 北極海。
35. 圖(四)中，H河的長短與哪一因素最有關？ (A) 氣溫的高低 (B) 雨季的長短 (C) 融雪量多寡 (D) 風力的強弱。
36. 承上題，該河川在哪一個季節時水量較多？ (A) 春季 (B) 夏季 (C) 秋季 (D) 冬季。
37. 附表為內陸河與外流河的比較。請問：下列何者正確？

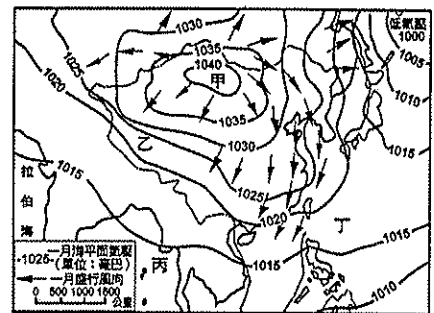


圖(四)

特色	(A)氣候	(B)水源	(C)水文特性	(D)代表河川
內陸河	溼潤	雨水	水多、河長，末端入海	塔里木河
外流河	乾燥	雪水	河短、水量不穩，末端消失沙漠中	長江

※圖(五)為中國某季節氣壓及風向圖，請問：

38. 圖(五)中的季節為何？ (A) 春 (B) 夏 (C) 秋 (D) 冬。
39. 圖(五)甲位於中國哪一個地區？(A) 青藏高原 (B) 雲貴高原 (C) 蒙古高原 (D) 黃土高原。
40. 下列何者是形成「季風」的主要的成因？ (A) 緯度高低 (B) 海陸分布 (C) 山脈走向 (D) 距海遠近。



圖(五)