

壹、單選題 (1-35 每題 2 分, 36-45 每題 3 分。)

1. 下列各項產業何者屬於「輕工業」的類別？(A)石油化學工業(B)線上遊戲設計公司(C)麵包工廠(D)基因與幹細胞研發中心。

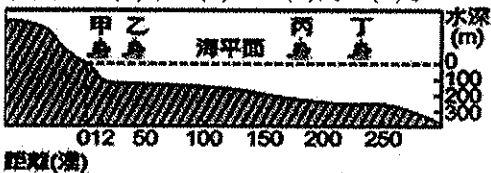
2. 右表是某國近 30 年來的產業產值比例，請問：下列敘述何者正確？(A)此國的服務業以商品批發為最大宗(B)曾經歷過產業的轉型(C)目前屬於發展落後國家(D)從事高科技產業的人口比重工業的還要多。

年份	第一級產業	第二級產業	第三級產業
1980	7.68	45.75	46.57
1990	4.1	42.5	53.3
2000	2.6	34.5	62.9
2007	1.42	25.46	73.12

3. 關於台灣農業發展的特色，下列敘述何者正確？(甲)農產品以自給自足為主(乙)農業生產技術先進(丙)農村勞力老化(丁)地狹人稠，單位面積產量小 (A)甲丁(B)甲丙 (C)乙丙 (D)丙丁。

4. 臺灣因四面環海，相當適合漁業發展。下列何者是目前最重要的漁業產值來源，漁獲量也最高？(A)養殖漁業(B)沿岸漁業(C)近海漁業(D)遠洋漁業。

5. 承上題，下圖中哪艘船隻作業海域屬於產值最高的漁業的範圍？(A)甲 (B)乙 (C)丙 (D)丁。



6. 近年來臺灣森林經營的方向，著重於下列哪一項原則？(A)砍伐與保育並重(B)兼顧保育、永續利用(C)廣闢果園，增加收入(D)全面砍伐，物盡其用。

7. 近年來，高科技產業已經成為台灣重要的工業類型，請問下列何者屬於高科技產業？(A)彰濱工業區(B)台塑雲林六輕(C)楠梓加工出口區(D)新竹科學園區。

8. 下表為某工廠的生產成本分析資料。依據表格判斷此家工廠選擇哪一種工業區位最有利？(A)原料(B)動力(C)勞工(D)市場

成本項目	勞工薪資	原料運費	產品運費	水電費	其他
占總成本比例	25%	10%	10%	50%	5%

9. 「漁夫出生於歡樂的大家庭之中，爸爸是快樂農場的農夫，媽媽是盡責的家庭主婦，爺爺雖然退休了但仍在羅東市場賣菜；舅舅是魚罐頭工廠的大老闆，大哥是太平山的巡山員，二哥在花蓮從事礦產加工的工作，大姐是羅東國中的地理老師…。大家各司其職，站在自己的工作崗位上打拚，提供社會大眾生活所需」根據上述，請問從事第一級產業的有幾人？(A)一人 (B)二人 (C)三人(D)四人。

10. 小丸子正在做台灣工業發展的報告，她想以下列產業類型：(甲)鋼鐵工業(乙)生物科技(丙)資訊產業(丁)紡織工業，來代表台灣工業的發展歷程，請依據 50 年代到 80 年代主要發展的工業類型，幫她排出正確的先後順序？(A)丁甲丙乙(B)丁乙甲丙(C)丙丁甲乙(D)甲丙丁乙。

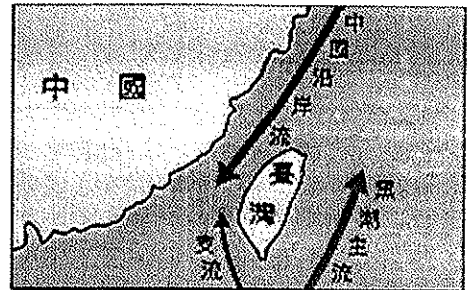
11. 下列關於臺灣畜牧業的發展敘述中，何者「有誤」？(A)依地理環境條件而言，臺灣的畜牧方式多屬於欄牧 (B)主要的畜牧區大多分布於中部以及東部地區(C)早期畜牧業是農家的副業(D)朝向專業化與現代化的經營模式。

12. 世界貿易組織(WTO)成立的主要目的為減少國際間各種形式的貿易障礙與不同國家的歧視。請問：臺灣正式成為會員國後，造成國內的經濟可能會有什麼樣的影響？(A)促進國內的傳統產業發展 (B)進出口關稅收入增加 (C)面臨

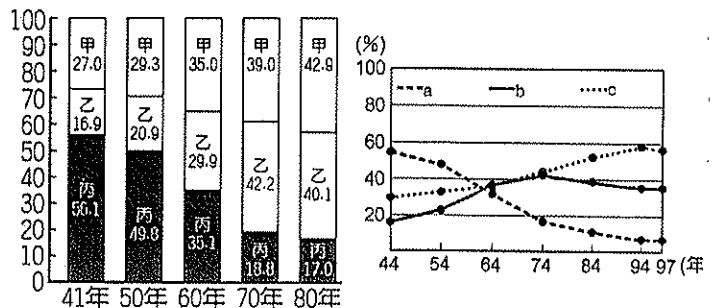
國際間商品價格的競爭 (D)減少對外貿易的市場。

13. 台灣在北部、中部、南部皆設有科學工業園區，園區內以積體電路、光電、生物科技等產業為主，請問這些產業活動的特色中不包括下列何者？(A)能源密集度低(B)資本密集度高(C)技術密集度低(D)產品附加價值高。

14. 每年 4~6 月屏東縣東港鎮的漁民在沿海海域捕獲的魚群，為當地居民帶來非常豐厚的收入，因而衍生出當地著名的漁業文化觀光季。根據洋流示意圖，請問此種魚類及洋流名稱配對何者正確？(A)黑鮪魚—中國沿岸流 (B)黑鮪魚—黑潮 (C)烏魚—中國沿岸流 (D)烏魚—黑潮。



15. 下左圖、下右圖為臺灣三級產業從業人口變化圖，請問：左圖中的甲、乙、丙分別代表右圖中那條曲線？(A)甲=c, 乙=a, 丙=b (B)甲=b, 乙=a, 丙=c (C)甲=c, 乙=b, 丙=a (D)甲=a, 乙=b, 丙=c。



16. 「農無閒年，地無閒田」是臺灣集約農業的典型寫照，此種農業類型的主要成因為何？(A)技術落後 (B)資金不足 (C)運輸欠便 (D)耕地狹小。

17. 「為防止地層下陷，危及行車安全，高鐵雲林縣封井 2491 口。」，請問此區的地層下陷，主要與當地居民從事哪一項產業有關係？(A)農業 (B)工業 (C)商業 (D)養殖漁業。

18. 請從農作物的分類及台灣農業的生產特徵來判斷，下列配對何者最正確？(A)小麥—經濟作物(B)甘蔗—糧食作物(C)稻米—粗放農業 (D)花卉—經濟作物。

19. 民國 63 年開始推行十大建設，推動各項大型基礎建設，例如：造船廠、煉鋼廠等，其主要是以發展下列何項工業為主？(A)輕工業(B)重工業(C)資訊工業(D)奈米產業。

20. 近年來臺灣農民改變原來的稻米種植，轉作其他高價蔬果、花卉，或發展休閒農業的原因，不包含下列何者？(A)加入 WTO 的衝擊 (B)台灣人口數量減少 (C)稻米種植利潤不高 (D)人們飲食習慣的改變。

21. 「黑金剛」品牌由王瑞雄所創，並申請專利。他說：『蓮霧細胞分裂期最需要牛奶、豆漿、雞蛋等高蛋白營養；果實著色期，得在根部加入進口海藻精』。因此讓蓮霧皮膚「又黑又亮又光滑」。高品質的黑金剛蓮霧，成功打入市場，因此贏得『總統級蓮霧』的稱號。上述『黑金剛蓮霧』乃是供應市場需求為導向的生產，屬於下列何種現象？(A)農產品商品化(B)自給自足農業(C)農業經營集約(D)農業科技先進。

22. 某報訊：「不景氣宅經濟熱，□□規模再創高峰，資策會預估 2013 年台灣□□市場規模將超過三千億元，比去年成長三成。…」根據上述報導，□□的商業活動是最有可能是哪一種形式？(A)批發 (B)量販 (C)網購 (D)零售。

23. 一個以「市場區位」為主的工廠，關於它的各項區位要素說明，以下何者正確？(A)原料較產品笨重 (B)產品可能易碎、易腐壞 (C)為容易招募員工而設在市場附近 (D)例

如鳳梨罐頭或水泥工廠即是代表。

24. 臺灣經濟對於國際貿易的倚賴度很高，關於臺灣目前的國際貿易，正確敘述為何？(A)出超累積了大量的外匯(B)民國60年代以來都呈現入超(C)和日本的貿易關係一直呈現進出口平衡的狀態(D)進口以工業產品為主，出口以農工原料為主。
25. 蚵仔煎是臺灣著名的地方小吃，業者從產地購買最新鮮的蚵仔，做出最美味的料理。請問：這些蚵仔屬何種漁業類型？(A)沿岸(B)近海(C)養殖(D)遠洋漁業。
26. 阿旺想開工廠，表是工廠生產時所需要的原料內容，為了節省成本，請問它最佳的設廠地點應該在哪個縣市？(A)臺東縣(B)臺北市(C)嘉義縣(D)高雄市。

原料種類	所佔比例
鐵	60%
煤	30%
石油	10%

27. 下表為有關便利商店和量販店的比較，請問何者正確？

	(A) 商品單價	(B) 店面占地	(C) 貨品種類	(D) 設置地點
便利商店	較低	較大	較多	人口稠密
量販店	較高	較小	較少	停車便利

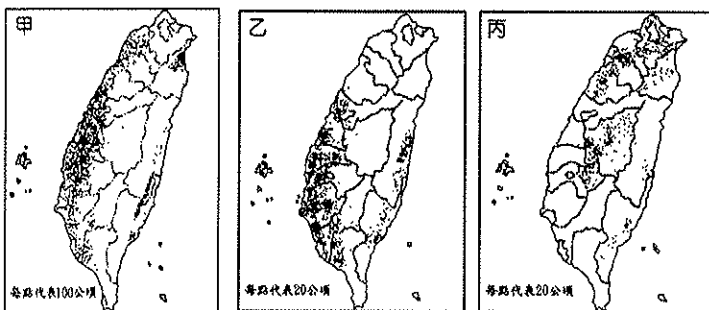
28. 臺糖公司轉型多角化經營後，其所生產的抗老化保養品及蜆精等保健食品，屬於哪一種工業型態(A)食品工業(B)石化工業(C)生物科技工業(D)奈米科技工業。
29. 臺灣的熱帶水果香蕉、鳳梨蓮霧等，不僅以南部產量最多，收成時間也比其他縣市為早，這與南部地區那一項地理環境特徵有關？(A)渠道發達(B)土壤肥沃(C)緯度較低(D)平原廣闊。
30. 政府「產業東移」政策未見成效，主因是東部何種環境影響？(A)交通依然不便(B)礦產資源不豐(C)氣候過於溼熱(D)平原太過狹小。
31. 下表為臺灣對貿易國之間的貿易數額，請問其中哪一個國是台灣的貿易最大入超國？(A)甲(B)乙(C)丙(D)丁。

國家	甲	乙	丙	丁
出口額	242.2	193	254.1	117.5
進口額	102.9	89.8	261.8	455.6

32. 現在市面上出現許多貼有「MIT」生產標章的產品，代表完全在臺灣生產製造的產品，例如：襪子、家電用品、食品等，生產同時並融入創意設計與包裝，售價不一定便宜，但訴求高品質的競爭力。請問：這樣的現況顯示出目前臺灣的第二級產業，呈現何種趨勢？(A)回歸勞力密集型產業，才能促進經濟成長(B)大量生產日常生活用品，並出口賺取外匯(C)提升技術實力，並積極進行研發設計(D)投入大量能源生產高附加價值產品。

### 貳、題組

\*下圖中甲、乙、丙為臺灣地區的某三種農作物空間分布圖，請根據此圖回答33-35題：



33. 此種圖示法為何？(A)點圖(B)圓餅圖(C)柱狀圖(D)剖面圖。
34. 清康熙年間，某一官員來臺視察，對臺灣某一地形區的景觀，有如下的記載：「農田乾旱百餘里，鄉道兩側皆為甘蔗樹……」。當地居民以蔗糖為生，當時蔗糖亦出口至浙江一帶。」請問：此文所記述的農田景觀最可能是何圖？(A)甲(B)乙(C)丙。
35. 關於丙圖農作物的敘述，下列何者正確？(A)種植於平原、

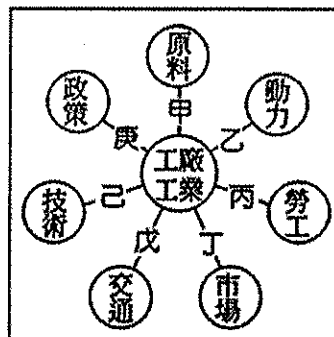
盆地區(B)適合涼爽多雲霧的氣候(C)是臺灣最主要的糧食作物(D)是製作「糖」的基本原料。

\*林小德的蝴蝶蘭溫室花園是全臺灣最大的花園，他以溫室調控蝴蝶蘭的生長速度與花期，以高級有機肥料施肥，使產品獲得國際青睞並大量外銷日本！近年來，還將他的試驗花園開放供民眾採花、拍婚紗，還可以DIY製作蘭花精油、香皂…請根據此文回答36-37題：

36. 林小德的蝴蝶蘭園經營包含了那些經營方式？(A)集約經營、自給自足(B)精緻化、休閒觀光(C)商品化、機械化經營(D)自給自足、粗放經營。

37. 林小德的蝴蝶蘭園經營涵蓋哪幾級產業的內容？(A)第一、三級產業(B)第一、二級產業(C)僅有第三級產業(D)第二、三級產業。

\*下圖為工業區位條件示意圖。請根據此圖回答38-43題：



38. 工業區位選擇的主要目的為下列何者？(A)提高售價(B)降低成本(C)配合政府(D)交通便利。

39. 下列工廠最需考慮的區位條件，何者有誤？(A)砂糖、水泥—甲(B)成衣、紙箱—丙(C)玻璃、鮮奶—丁(D)主機板、液晶螢幕—己。

40. 高雄為台灣第一個設立加工出口區的地區，請問此加工出口區的位置選擇，有可能是考量下列哪些項區位因素？(A)甲戊(B)乙丁(C)丙庚(D)戊己。

41. 康熙三十六年(1697)清朝官員郁永河來到臺灣的北投到陽明山一帶尋找硫磺，並設廠提煉硫磺，以製作火藥，請問當時所考慮的區位為何？(A)甲(B)丙(C)丁(D)己。

42. 知名美國冰淇淋品牌 Häagen-Dazs 廣受台灣消費者的喜愛，冰淇淋包裝好的體積變大，且運送冰淇淋的冷凍車比運材料的卡車運費貴，試問：冰淇淋工廠設廠時應該優先考慮下列哪一個區位條件？(A)甲(B)丙(C)丁(D)己。

43. 宜蘭縣南方澳漁港附近，有許多魚罐頭工廠，其工業區位條件為何？(A)甲(B)丁(C)己(D)庚。

\*巨大機械(GIANT)公司於1972年在台中縣大甲鎮成立，本來是專為一家美國廠商製造自行車零件為主的□□□□工廠。後來，因為美國廠商將工廠移往中國大陸影響，使巨大機械一度面臨倒閉的危機，也因此毅然決然地決定自創品牌—捷安特。如今成為暢銷全球的自行車製造商。根據此文回答44-45題：

44. 捷安特早期為一家美國廠商製造自行車零件為主的□□□□工廠，請問□□□□最可能為下列何者？(A)產品設計(B)產品代工(C)技術研發(D)自創品牌。

45. 捷安特主要從事國際貿易，且台灣對國際貿易依賴度極高，請問以下何者為台灣依賴國際貿易的主因？(A)台灣為出超國(B)台灣國內市場小(C)台灣技術性勞工多(D)國內礦產資源豐富。