

一、單選題 每題兩分

- 東非的索馬利亞有「非洲之角」之稱，近年來政局動盪、戰亂頻傳，人民甚至鋌而走險，集結在「甲」海域搶劫過往油輪，2005至2012年間，海盜劫持漁船和商船已勒索了3.39億至4.13億美元的贖金。請問：「甲」是指哪一海域？(A)太平洋 (B)大西洋 (C)印度洋 (D)幾內亞灣
- 蘇伊士運河完成後，亞洲歐洲的往來不必再繞過非洲南端的好望角，大大縮短航程。請問：從東非出發的船隻想經過運河抵達西非依序會經過【甲】印度洋【乙】地中海【丙】紅海【丁】大西洋，正確的順序為：(A)甲乙丙丁 (B)甲丙乙丁 (C)丁丙乙甲 (D)丁乙丙甲
- 洋流是影響氣候的重要因素，關於非洲本吉拉涼流的敘述，何者**錯誤**？(A)位於南半球 (B)位於大西洋 (C)由北往南流 (D)與澳洲西部外海洋流一樣，同屬涼流
- 將非洲分為「白非洲」及「黑非洲」的是下列哪一個地理區？(A)剛果熱帶雨林區 (B)東非大裂谷 (C)喀拉哈里盆地 (D)撒哈拉沙漠
- 小蒸打開世界地圖，從臺灣嘉義出發，沿著北回歸線一路向東前進，將會到達非洲的哪一個地形區？(A)撒哈拉盆地 (B)剛果盆地 (C)衣索比亞高原 (D)喀拉哈里盆地
- 數年前某國家徵選大堡礁保育員，推出號稱「全世界最好的工作」，短時間在全球引起熱烈討論。請問：大堡礁位於下列哪一個國家境內？(A)夏威夷 (B)澳洲 (C)紐西蘭 (D)關島
- 大洋洲兩萬多個島嶼，依照經緯線區分成三大群島。請問：分類的依據為何？(A)本初經線、赤道 (B)本初經線、北回歸線 (C)國際換日線、南回歸線 (D)國際換日線、赤道
- 承上題，美國第50個州-夏威夷。位於東西南北哪兩個半球？(A)東半球、北半球 (B)東半球、南半球 (C)西半球、北半球 (D)西半球、南半球
- 紐西蘭號稱「活的地形教室」，因為兼具【甲】溫泉【乙】U型谷【丙】地熱【丁】峽灣，呈現多樣景觀。請問紐西蘭的「北島」可觀察到哪些地形？(A)甲乙 (B)甲丙 (C)乙丙 (D)丙丁
- 承上題，該島的特殊地形與那一種作用有關？(A)火山作用 (B)風化作用 (C)溶蝕作用 (D)冰河作用
- 埃及亞斯文高壩的完成，提供了可觀的灌溉用水而增加了不少可耕地，但也產生了負面的效應，如農民增加了對化學肥料的需求及花費，原因是：(A)下游泥沙堆積增加 (B)推展科學化農業 (C)鋼鐵工業蓬勃發展 (D)缺乏新生淤泥的補充
- 承上題，亞斯文高壩在興建時，高漲的水位淹沒了阿布辛貝神廟，後來經聯合國的教科文組織搶救才得以保存下來。該神廟應該位於哪一條河川的沿岸地區？(A)剛果河 (B)尼羅河 (C)尼日河 (D)橘河
- 非洲在發展的過程中，受到歐洲殖民影響很大。請問：下列何項特色與歐洲殖民活動**無關**？(A)國家數量多 (B)以經緯線劃分國界 (C)西非沿海盛行熱帶栽培業 (D)北非一帶盛行伊斯蘭教
- 非洲的氣候候特色為南北兩側呈現對稱分布，這和該地區的何項地理位置條件關係最大？(A)經度位置 (B)緯度位置 (C)洋流分布 (D)行星風系風向
- 南非的開普敦為地中海型氣候，為非洲適合人居住的氣候類型。當地在六月進行世界風箏大賽時，受到盛行風向的影響，天空中風箏多飛往何方？(A)東方 (B)西方 (C)南方 (D)北方
- 去年11月非洲干比亞與我國斷交，在不久的將來，台灣的邦交國可能又要少掉一個！位於南太平洋的吐瓦魯，即將面臨被大海淹沒的危機，該國國民也將成為世界上第一

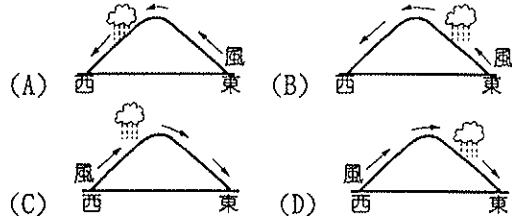
批環境難民。請問：上文中，該國國土被海水淹沒的主要原因為何？(A)海嘯侵襲 (B)地震頻繁 (C)火山爆發 (D)全球暖化

- 承上題，吐瓦魯應該為何種類型的島嶼？(A)火山島 (B)珊瑚礁島 (C)大陸島 (D)沙洲島

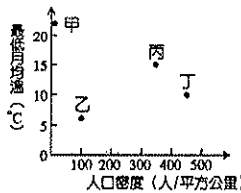
- 畜牧業為紐西蘭重要的經濟來源，右圖為紐西蘭南島簡圖，牛隻多棲息在較濕潤的林地，根據此一條件，附圖島嶼中的哪一地點較適合放牧大量牛隻？(A)甲 (B)乙 (C)丙 (D)丁



- 澳洲早期曾為哪一國的殖民地，從現今澳洲的國旗中，仍可看見痕跡，也造成澳洲文化特色和經濟發展和該國影響甚大。請問：早期殖民澳洲的國家為何國？(A)美國 (B)法國 (C)德國 (D)英國
- 澳洲面積廣大，各地的降雨特色大不相同。請問：澳洲西南隅在七月分時的主要降雨情況最接近下列何者？



- 游耕又稱火耕、移耕。通常有固定的步驟：焚燒樹木→耕種→休耕→遷移。因不施肥、不除草、不灌溉，使單位面積產量低，屬於粗放耕作。請問：圖一那一個環境條件，符合游耕的環境？(A)甲 (B)乙 (C)丙 (D)丁




甲	電腦、汽車、軟體
乙	鋼鐵、汽車、電子產品
丙	咖啡、可可、石油、鐵礦
丁	牛乳、小麥、鐵礦

表一

- 表一為某四個國家對外主要的出口品清單，請由表中資料判斷，何者最可能為非洲國家？(A)甲 (B)乙 (C)丙 (D)丁。
- 阿勳拿到一張非洲旅遊的廣告單上面寫著：「無論你想乘車經過一群獅子，還是走在平原野生動物群中，或舒服地躺在一個原野營地、木屋旅社、精品酒店的露台上觀賞大象群、獅子群...」請問：這種生態旅遊最適合分布於那一種氣候區內？(A)熱帶雨林氣候 (B)熱帶莽原氣候 (C)熱帶沙漠氣候 (D)高地氣候
- 非洲恰巧位於東西南北半球交界處。請問：赤道與本初經線兩條經緯線交界處應位於何處？(A)幾內亞灣 (B)剛果盆地 (C)喀拉哈里盆地 (D)紅海
- 預計2014年3月在台灣上映電影「曼德拉-漫漫自由路」內容講述非洲歷史上重要的民族鬥士，終身為了打破種族隔離制度而努力，成為□□首位民選總統，並於1993年獲得諾貝爾和平獎。請問：□□為非洲那一國家？(A)埃及 (B)查德 (C)南非 (D)肯亞
- 澳洲畜牧業的分布呈現東南沿海平原牧牛業發達、中部則以牧羊為主，造成這種差異的主因為何？(A)勞工多寡 (B)市場遠近 (C)地形差異 (D)雨量多寡
- 大洋洲許多島國居民主要依賴漁業維生，其農業發展困難的最主要原因為何？(A)位熱帶海洋，多颱風 (B)地勢低平，海水倒灌 (C)屬珊瑚礁島，缺乏淡水 (D)地形崎嶇，坡度陡

28. 小鈞到國外旅遊，見到附圖這座被列為世界遺產的地標，關於這座城市的敘述，何者錯誤？
 (A)為澳洲首都 (B)位於東南沿海平原 (C)屬於夏兩型暖濕氣候 (D)迎東南信風



29. 沿著南回歸線由西向東，依序會經過澳洲哪些地形？
 (A)平原、高原、盆地 (B)盆地、山地、高原 (C)高原、平原、山地 (D)山地、盆地、高原

30. 地理老師在上課時提到：南極與北極的自然景觀及人文環境不同。下列四個學生分別提出自己的觀點，請問誰的說法是錯誤的？(A)小念：北極是海洋，南極是陸地 (B)小安：南極的地勢較高 (C)小佳：北極圈附近發現石油 (D)小寶：受到全球暖化影響，南極海運價值提升

31. 電影《馬達加斯加》為非洲大陸東側的島嶼，此島嶼氣候帶的分布也相當特殊。請問：馬達加斯加島東邊與西邊分別為何種氣候類型？

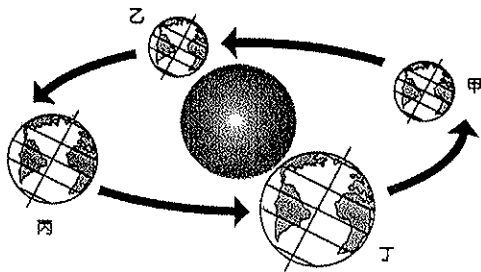
	(A)	(B)	(C)	(D)
東邊	熱帶雨林	熱帶莽原	熱帶沙漠	熱帶莽原
西邊	熱帶莽原	熱帶雨林	熱帶莽原	熱帶沙漠

32. 非洲的土地過度利用，因此造成環境問題相當嚴重。最主要的影響因素為下列何者？(A)地球溫室效應 (B)人口大量增加 (C)戰亂動盪不斷 (D)河川定期氾濫

33. 非洲北有撒哈拉沙漠南有喀拉哈里沙漠，這兩個地區形成沙漠的主要原因為何？(A)沿岸有暖流經過 (B)地勢較高 (C)距海遙遠水氣少 (D)位於副熱帶高壓下方

34. 澳洲目前正積極和亞洲國家進行多方面的交流與合作，並加入該地區的經濟組織。澳洲加強與亞洲合作的有利條件為何？(A)語言相同 (B)宗教信仰 (C)殖民母國 (D)距離接近

35. 居住在KMT184.05星球的敏俊，打算利用2014年夏天的一場流星雨造訪台灣。下圖為地球公轉示意圖，請問，敏俊的太空船應是在下列那一張圖時，抵達台灣？
 (A)甲 (B)乙 (C)丙 (D)丁

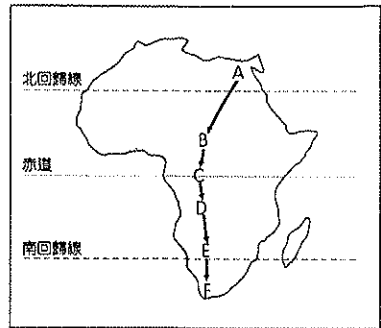


二、題組題 每題兩分

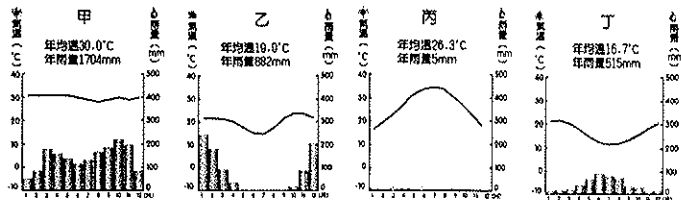
第100屆飢餓遊戲擴大舉行，預計進行兩階段的比賽。第一階段參賽選手必須先通過地理常識的考驗，才能得到武器和補給品。主辦單位提供關鍵字，由參賽者解答，答案必須同時符合三個關鍵字。

36. 「冰河、火山、毛利人」
 (A)紐西蘭 (B)澳洲 (C)南極洲 (D)夏威夷
37. 「永晝、寒漠、高原」
 (A)吐瓦魯 (B)北極 (C)南極 (D)大溪地
38. 「石油、新航道、因紐特人」
 (A)南極 (B)北極 (C)埃及 (D)南非
39. 「地塹、高原、吉力馬札羅山」
 (A)北非 (B)南非 (C)西非 (D)東非

小鈞通過考驗，順利進入第二階段比賽。此階段場地安排在有「神秘大陸」之稱的非洲。右圖為主辦單位設定好的比賽地點A-F，參賽選手將面臨不同環境的考驗。請參考右圖，回答下列問題：



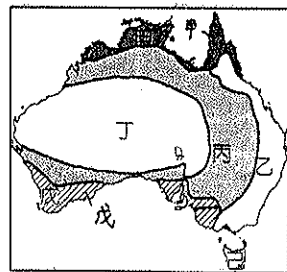
40. 此次的比賽場地共包含幾種氣候類型？(A)三種 (B)四種 (C)五種 (D)六種
41. 小鈞在A場地的比賽中，最可能遭遇到何種挑戰？
 (A)強烈暴雨 (B)缺乏水源 (C)獅子攻擊 (D)遭到祖魯黑人襲擊
42. 若比賽時間為七月，A到F的場地，最有可能下雨的為哪三個？(A)ABC (B)CDE (C)BCF (D)DEF
43. 非洲共有【甲】剛果盆地【乙】撒哈拉盆地【丙】喀拉哈里盆地。從場地A沿著箭頭指示路線至F，會依序經過？
 (A)甲乙丙 (B)乙丙甲 (C)乙甲丙 (D)丙甲乙
44. 在導師的指導下，小鈞事先蒐集比賽場地的氣候圖，並整理出下列四張圖。



請問：那一張為C場地的氣候圖？

- (A)甲 (B)乙 (C)丙 (D)丁
45. 承上題，小鈞順利過關將最終抵達F場地，關於當地的敘述何者錯誤？(A)當地的氣候圖為乙 (B)屬於地中海型氣候 (C)盛產葡萄、橄欖等作物 (D)此氣候類型降雨受西風影響

比賽結果出爐，小鈞順利獲得冠軍，主辦單位大手筆送他一棟位於澳洲的別墅。小鈞打算就此移民澳洲，於是在出發前先做好準備，了解澳洲的地理概況。右圖為他找到的澳洲氣候資料。參考圖片，回答下列問題：



46. 丁區為澳洲的大沙漠，和非洲的撒哈拉沙漠相比，有何共通點？【甲】回歸線經過【乙】距海遙遠【丙】四周高山屏障【丁】涼流經過，正確的有？(A)甲乙 (B)丙丁 (C)乙丙 (D)甲丁
47. 小鈞的別墅位於澳洲的精華區內，也是首都所在的氣候區。請問，小鈞的別墅為在那的區域？
 (A)甲 (B)乙 (C)丙 (D)戊
48. 小鈞聽聞澳洲有名的烏魯汝岩，是當地原住民心中的聖石，也是世界上最大的獨立岩石，想利用時間去一睹它的風采。請問，小鈞該前往那一區才能看見此塊岩石？
 (A)甲 (B)乙 (C)丙 (D)丁
49. 觀光之旅繼續來到下一站來到位於戊區的波浪岩，他發現當地的氣候類型，和某個國家非常類似，請問下列那個國家和戊區為同種氣候類型？
 (A)台灣 (B)俄羅斯 (C)義大利 (D)芬蘭
50. 當小鈞到達己區，發現天空下起雨了，己區的雨最有可能受到何種盛行風向的影響？(A)東風 (B)東北風 (C)西風 (D)西北風