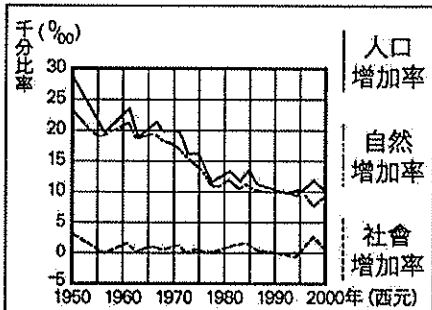


年 班 座號： 姓名：

一、選擇：每題2分，共28分

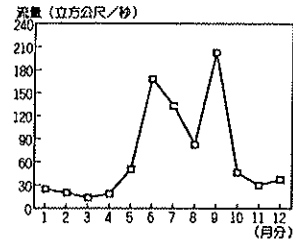
- () 1. 近年來許多外籍勞工遠離家鄉來到臺灣工作，台灣外勞的主要來源是何處？(A)東南亞 (B)東北亞 (C)印度 (D)美國。
- () 2. 清領時期，政府曾下達渡臺禁令，這種情況對當時臺灣的哪一項人口特色影響最大？(A)人口移出率 (B)自然增加率 (C)社會增加率 (D)人口分布。
- () 3. 臺灣雖小但擁有豐富的森林資源，於不同的海拔高度，可看到闊葉林、混合林、針葉林等豐富的植物景觀變化。是受到哪一項自然環境影響？(A)屬於暖溼的季風氣候 (B)位居中緯度的位置 (C)位處低緯且板塊接觸帶 (D)為海陸交界地帶
- () 4. 供應北部地區主要用水的水庫是哪兩座水庫？(甲)石門水庫 (乙)德基水庫 (丙)日月潭水庫 (丁)翡翠水庫(A)甲乙 (B)乙丙 (C)丙丁 (D)甲丁。
- () 5. 臺灣擁有許多特有種生物，如臺灣黑熊、臺灣獼猴、櫻花鉤吻鮭等，與臺灣何項自然環境有關？(A)板塊接觸帶 (B)孤立島嶼 (C)北回歸線經過 (D)為海陸交界
- () 6. 在臺灣經常可見水庫、水圳、埤塘等水利設施，這些水利設施在什麼季節最能發揮供水的功用？(A)春夏 (B)夏秋 (C)秋冬 (D)冬春。
- () 7. 臺灣南部沿海地區出現地層下陷，海水倒灌等環境問題，造成這些問題的原因為何？(A)地質脆弱 (B)超抽地下水 (C)山坡地過度開發 (D)沿海濕地消失。
- () 8. 臺灣地區的扶養比有逐年增高的趨勢，影響臺灣地區扶養比變化的主要原因為何？(A)出生率逐年下降 (B)人口外移 (C)重男輕女觀念 (D)醫療衛生落後。
- () 9. 臺灣地區最新的人口結構顯示，人口的性別比低於100，這表示人口結構有何變化？(A)移入多於移出 (B)壯年多於老年 (C)死亡多於出生 (D)女性多於男性。
- () 10. 附圖為臺灣的人口成長趨勢圖。根據圖中資料，下列敘述何者正確？(A)自然增加率幾乎為零 (B)人口成長率主要受自然增加率影響 (C)人口成長率為負數 (D)人口總數正在下降中。



- () 11. 小新是一位12歲大的學生，媽媽42歲是專職的家庭主婦，爸爸45歲事業有成，奶奶67歲、爺爺69歲都已退休。小新家中屬於壯年人口有幾人？(A)1 (B)2 (C)3 (D)4
- () 12. 承上題，小新家中屬於被扶養的人口有幾人？(A)1 (B)2 (C)3 (D)4。
- () 13. 臺灣的人口密度比美國的人口密度高，其意義為何？(A)美國居住與活動的空間較寬闊 (B)美國的國土狹小 (C)臺灣人口數量較多 (D)臺灣的經濟比較發達。
- () 14. 臺灣的新移民中因婚姻關係移居台灣，這些外籍配偶中最多來自哪一國？(A)中國 (B)泰國 (C)日本 (D)越南。

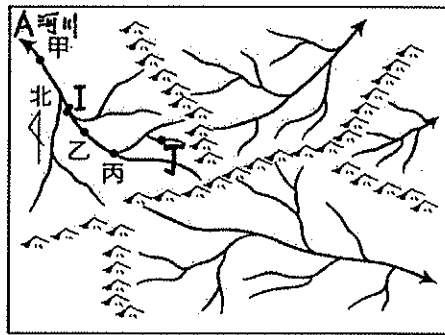
二、題組：每題2分，共72分

(一) 附圖為濁水溪的各月流量變化圖。請問：

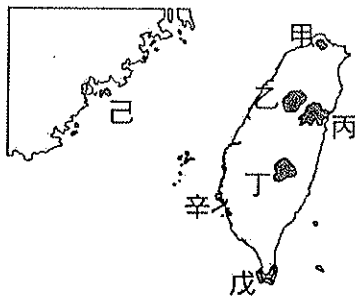


- () 15. 根據河川流量變化可知臺灣中部的降水特徵為何？(A)全年有雨 (B)全年少雨 (C)夏雨冬乾 (D)夏乾冬雨。
- () 16. 哪一個月分的出現河床磊石遍佈的現象？(A)一月 (B)六月 (C)八月 (D)十月。
- () 17. 河川流量出現兩個高峰期，受到哪些氣候現象影響？(甲)寒害 (乙)梅雨 (丙)颱風 (丁)東北季風。(A)甲乙 (B)乙丙 (C)丙丁 (D)甲丁
- () 18. 該河川因含沙量高溪水混濁而名為「濁水溪」，導致含沙量高的原因為何？(A)全年有雨 (B)地形相對高度落差大 (C)陸地面積太小 (D)河流長度長。
- () 19. 造成河川乾枯分明的「荒溪型河川」，這和哪一項自然環境影響關係最大？(A)熱帶低緯，河水蒸發旺盛 (B)地層下陷，河水下滲明顯 (C)降雨分布不均 (D)降雨量少，河川乾枯明顯。
- () 20. 該河川上游興建哪一座水庫，以解決水資源不足的問題？(A)石門水庫 (B)德基水庫 (C)日月潭水庫 (D)曾文水庫

(二) 附圖是河川水係與流域示意圖，請問：

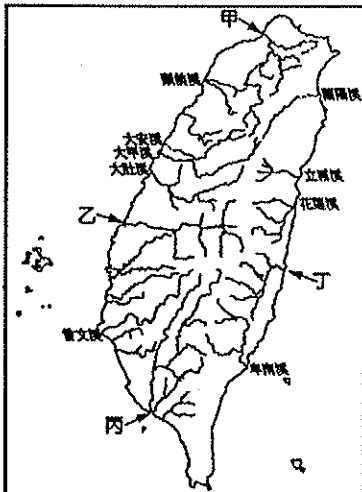


- () 21. 圖中共有幾個水系？(A)2 (B)3 (C)4 (D)5
- () 22. 圖中A河川的主流主要流向何方？(A)東北 (B)西北 (C)東南 (D)西南。
- () 23. 圖中的哪一個點並「不」在I點的集水區範圍內？(A)甲 (B)乙 (C)丙 (D)丁。
- () 24. 圖中河道中哪一個點的河水流量應該最多？(A)甲 (B)乙 (C)丙 (D)丁。
- () 25. 圖中地勢最高的是下列何者？(A)甲 (B)乙 (C)丙 (D)丁。
- () 26. 若河川發生汙染，圖中哪一地點河川的汙染最嚴重？(A)甲 (B)乙 (C)丙 (D)丁。
- (三) 附圖是臺灣國家公園位置圖。請參看圖中資料，回答下列問題：



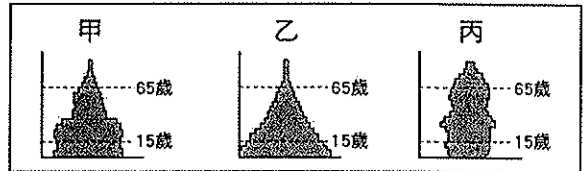
• 庚

- () 27. 哪兩座國家公園是以保育人文景觀為特色？(A) 甲丙 (B) 乙丁 (C) 戊庚 (D) 己辛。
- () 28. 哪兩座國家公園皆有美麗的珊瑚礁景觀？(A) 甲丙 (B) 乙丁 (C) 戊庚 (D) 己辛。
- () 29. 何者在冬季時可觀賞來臺度冬的黑面琵鷺？(A) 辛 (B) 戊 (C) 己 (D) 庚。
- () 30. 臺灣著名的櫻花鉤吻鮭為國寶魚，因此將其棲息地畫入國家公園境內加以保護。請問：其主要分布地區位於圖中何處？(A) 甲 (B) 乙 (C) 丙 (D) 丁。
- () 31. 圖中的哪兩座國家公園內可欣賞到原始林？(A) 甲乙 (B) 乙丙 (C) 丙丁 (D) 乙丁。
- () 32. 想從事火山地形的研究，需到哪座國家公園，較能順利完成？(A) 甲 (B) 乙 (C) 己 (D) 庚。
- () 33. 國家公園設立主要目的為何？(A) 學術研究 (B) 生態環境保育 (C) 增加門票收入 (D) 開發資源。
- () 34. 丙區被規畫為國家公園，主要特色為何？(A) 火山地形 (B) 原始森林 (C) 珊瑚環礁 (D) 大理石峽谷。
- (四) 附圖為臺灣河川分布圖，甲、乙、丙、丁代表河川。請問：

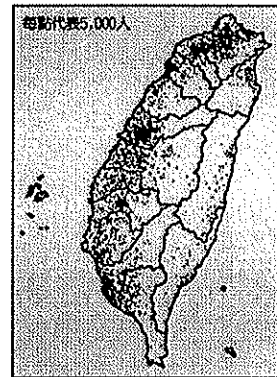


- () 35. 影響河川流向與長度的因素為何？(A) 地形分布 (B) 緯度高低 (C) 雨量多寡 (D) 氣溫變化。
- () 36. 主要河川的分水嶺是下列哪一座山脈？(A) 雪山山脈 (B) 中央山脈 (C) 玉山山脈 (D) 阿里山山脈。
- () 37. 關於臺灣河川的特色下列敘述「有誤」？(A) 東西分流 (B) 河短流急 (C) 水量豐穩 (D) 泥沙含量高。

- () 38. 圖中哪條河流的河川冬夏季的流量變化差異最小？(A) 甲 (B) 乙 (C) 丙 (D) 丁。
- () 39. 圖中哪一條河川流域面積最廣？(A) 甲 (B) 乙 (C) 丙 (D) 丁。
- () 40. 何者是臺灣河川水量的主要來源？(A) 雪水 (B) 地下水 (C) 雨水 (D) 湖水。
- () 41. 臺灣河川可供利用的水資源有限，主要受到哪一項河川要素的影響？(A) 河川流向 (B) 河川水質 (C) 河床坡度 (D) 河床寬度。
- (五) 請根據下列甲、乙、丙三個地區的人口金字塔圖，回答下列問題：



- () 42. 哪個地區幼年人口比例最高？(A) 甲 (B) 乙 (C) 丙。
- () 43. 哪個地區經濟發展最差？(A) 甲 (B) 乙 (C) 丙。
- () 44. 未來幾年，哪個地區進入高齡化社會？(A) 甲 (B) 乙 (C) 丙。
- () 45. 哪個地區最早面臨未來勞力不足的問題？(A) 甲 (B) 乙 (C) 丙
- () 46. 由人口金字塔圖可以分析一個地區的：(甲) 年齡比 (乙) 人口素質 (丙) 扶養比 (丁) 性別比 (戊) 職業比。下列何者正確？(A) 甲乙丙 (B) 乙丙丁 (C) 丙丁戊 (D) 甲丙丁。
- (六) 附圖為臺灣的人口分布圖。請問：



- () 47. 此種人口分布圖屬於下列哪一種統計圖？(A) 點圖 (B) 折線圖 (C) 柱狀圖 (D) 圓餅圖。
- () 48. 由圖中可看出臺灣人口分布的特色，下列敘述何者「有誤」？(A) 空間分布不平均 (B) 東部人口遠較西部為多 (C) 北部人口分布最為集中 (D) 山地地區人口分布最為稀疏。
- () 49. 造成此種人口分布特徵的主要原因為何？(甲) 平原廣大 (乙) 資源豐富 (丙) 雨量豐富 (丁) 開發早。(A) 甲乙 (B) 乙丙 (C) 丙丁 (D) 甲丁
- () 50. 台灣有哪三個大都會區？(甲) 台北市 (乙) 基隆市 (丙) 台中市 (丁) 台南市 (戊) 高雄市。(A) 甲乙丙 (B) 乙丙丁 (C) 乙丁戊 (D) 甲丙戊。