

# 黎明國小釣魚臺的主權與爭議 學習單

班級：六年七班 姓名：陳鈺淨

一、釣魚臺列嶼的位置在哪個洲？

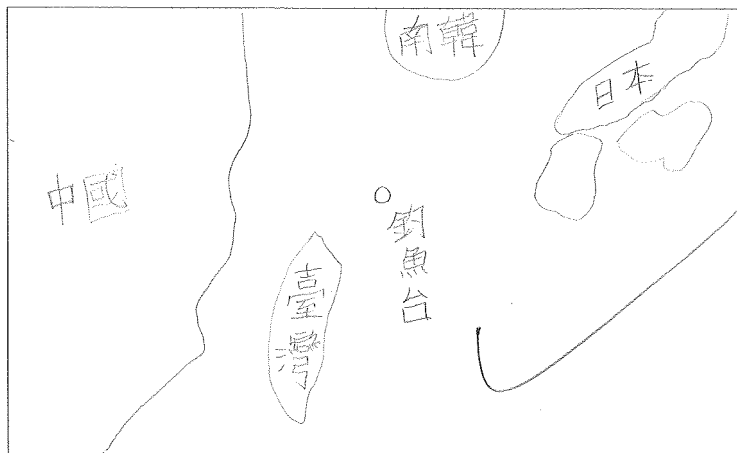
- 美洲  亞洲  非洲  歐洲  澳洲

二、鄰近的國家有哪些？（複選，答案不只一個）

- 美國  臺灣  埃及  英國

- 紐西蘭  日本  德國  中國

三、請畫出這些國家的相對位置，並標示出釣魚臺的位置。



四、這些國家之間的衝突可以透過什麼樣的方式解決？  
（自由作答）

採用理性的方法，好好溝通，順便  
加強自己國家的權利。

good 3/19

# 黎明國小釣魚臺的主權與爭議 學習單

班級：六年七班 姓名：張屹

一、釣魚臺列嶼的位置在哪個洲？

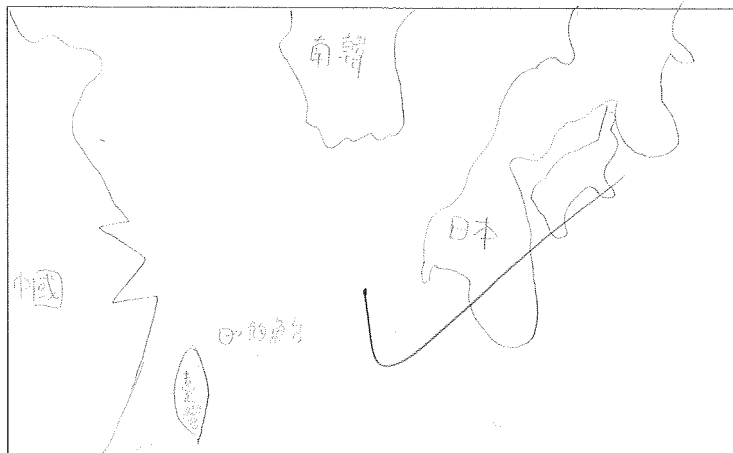
美洲 亞洲 非洲 歐洲 澳洲 ✓

二、鄰近的國家有哪些？（複選，答案不只一個）

美國 臺灣 埃及 英國 ✓

紐西蘭 日本 德國 中國 ✓

三、請畫出這些國家的相對位置，並標示出釣魚臺的位置。



四、這些國家之間的衝突可以透過什麼樣的方式解決？  
（自由作答）

增加自己的國力，讓別的國家可以把釣魚臺列嶼  
還給我們。 ✓

good 3/19

# 黎明國小釣魚臺的主權與爭議 學習單

班級：六年七班 姓名：林培豪

一、釣魚臺列嶼的位置在哪個洲？

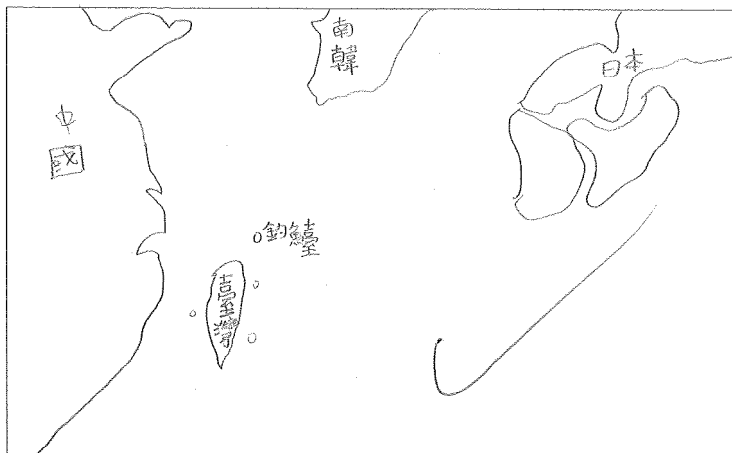
美洲 亞洲 非洲 歐洲 澳洲

二、鄰近的國家有哪些？（複選，答案不只一個）

美國 臺灣 埃及 英國

紐西蘭 日本 德國 中國

三、請畫出這些國家的相對位置，並標示出釣魚臺的位置。



四、這些國家之間的衝突可以透過什麼樣的方式解決？  
（自由作答）

和平的方式來好好溝通、或把釣魚臺給平分。

good 3/19

# 黎明國小釣魚臺的主權與爭議 學習單

班級： 六年七班 姓名： 李崗印

一、釣魚臺列嶼的位置在哪個洲？

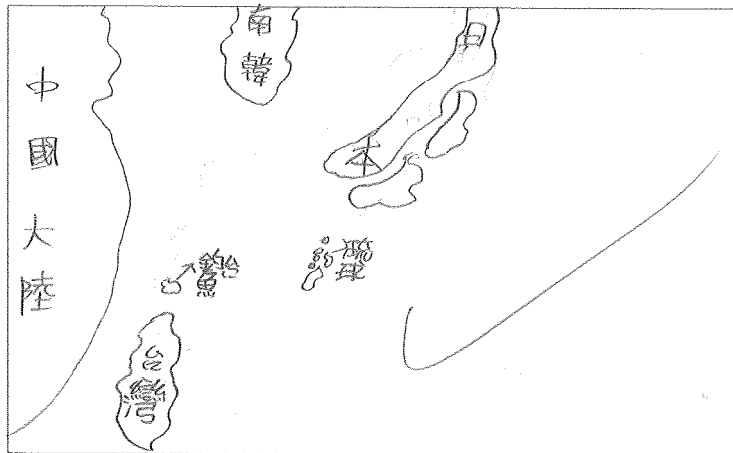
美洲  亞洲  非洲  歐洲  澳洲

二、鄰近的國家有哪些？（複選，答案不只一個）

美國  臺灣  埃及  英國

紐西蘭  日本  德國  中國

三、請畫出這些國家的相對位置，並標示出釣魚臺的位置。



四、這些國家之間的衝突可以透過什麼樣的方式解決？  
（自由作答）

用和平的方式來談判。

*good 3/19*

黎明國小釣魚臺的主權與爭議 學習單

班級： 6 年 7 班 姓名： 林郁凱

一、釣魚臺列嶼的位置在哪個洲？

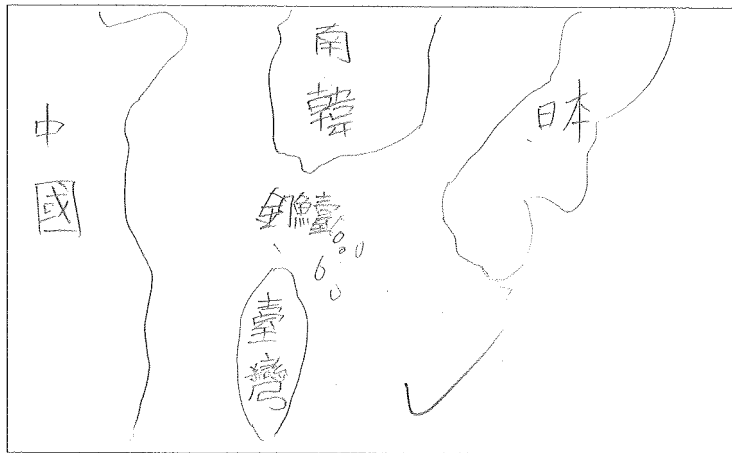
美洲  亞洲  非洲  歐洲  澳洲

二、鄰近的國家有哪些？（複選，答案不只一個）

美國  臺灣  埃及  英國

紐西蘭  日本  德國  中國

三、請畫出這些國家的相對位置，並標示出釣魚臺的位置。



四、這些國家之間的衝突可以透過什麼樣的方式解決？  
（自由作答）

增加自己的國力，或聯合其他的國家。

good 3/19

# 黎明國小釣魚臺的主權與爭議 學習單

班級：六年七班 姓名：楊士緯

一、釣魚臺列嶼的位置在哪個洲？

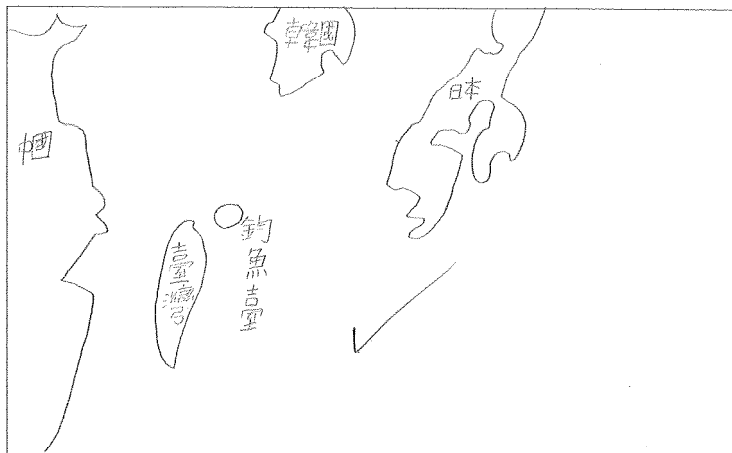
美洲 亞洲 非洲 歐洲 澳洲 ✓

二、鄰近的國家有哪些？（複選，答案不只一個）

美國 臺灣 埃及 英國

紐西蘭 日本 德國 中國 ✓

三、請畫出這些國家的相對位置，並標示出釣魚臺的位置。



四、這些國家之間的衝突可以透過什麼樣的方式解決？  
（自由作答）

加強國家的軍事力量。

✓  
good 3/19

# 黎明國小釣魚臺的主權與爭議 學習單

班級： 6年7班 姓名： 陳奕馨

一、釣魚臺列嶼的位置在哪個洲？

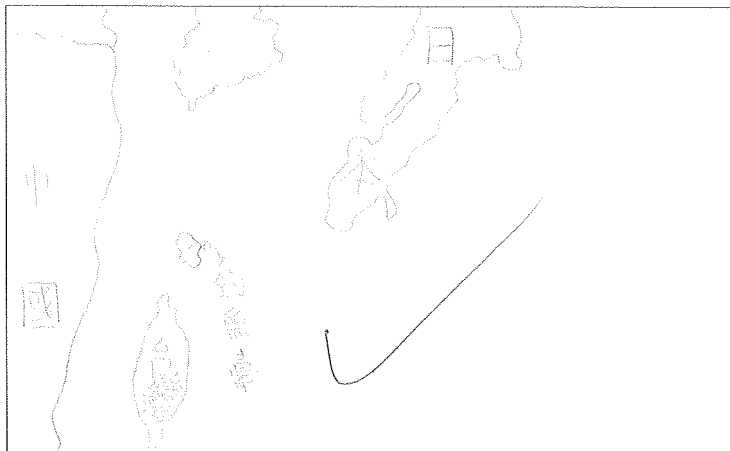
美洲 亞洲 非洲 歐洲 澳洲 ✓

二、鄰近的國家有哪些？（複選，答案不只一個）

美國 臺灣 埃及 英國 ✓

紐西蘭 日本 德國 中國 ✓

三、請畫出這些國家的相對位置，並標示出釣魚臺的位置。



四、這些國家之間的衝突可以透過什麼樣的方式解決？  
(自由作答)

加強國家勢力和競爭力。

✓  
good 3/19

# 黎明國小釣魚臺的主權與爭議 學習單

班級：6年7班 姓名：楊欣諭

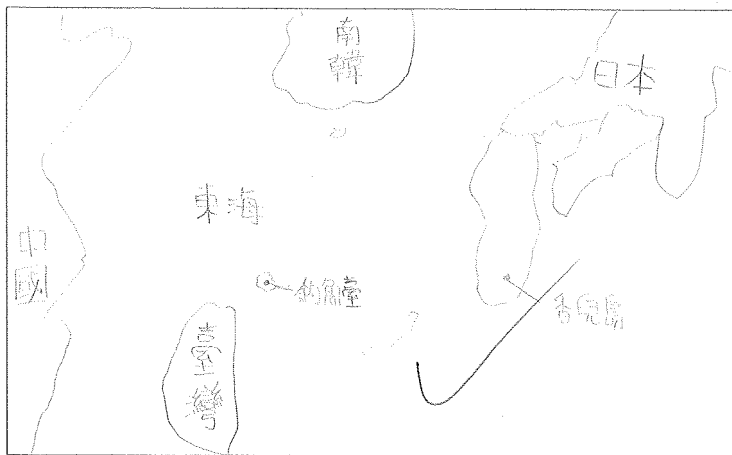
一、釣魚臺列嶼的位置在哪個洲？

- 美洲 亞洲 非洲 歐洲 澳洲 ✓

二、鄰近的國家有哪些？（複選，答案不只一個）

- 美國 臺灣 埃及 英國  
紐西蘭 日本 德國 中國 ✓

三、請畫出這些國家的相對位置，並標示出釣魚臺的位置。



四、這些國家之間的衝突可以透過什麼樣的方式解決？  
(自由作答)

增加國家的氣勢。

good 3/19



# 黎明國小釣魚臺的主權與爭議 學習單

班級：六年十班 姓名：魏深雋

一、釣魚臺列嶼的位置在哪個洲？

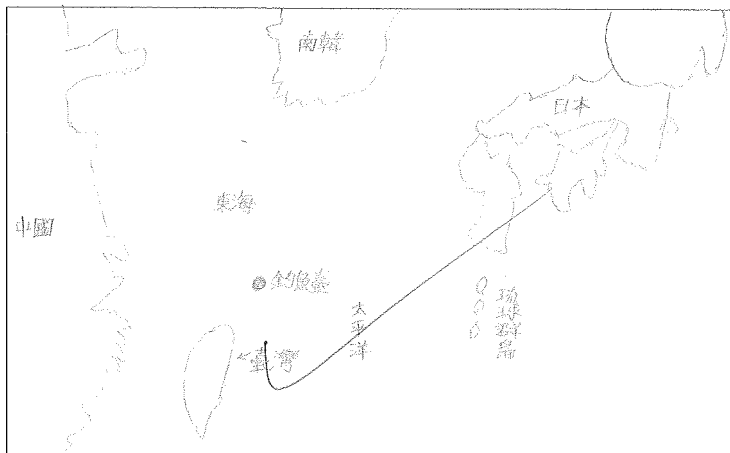
美洲 亞洲 非洲 歐洲 澳洲 ✓

二、鄰近的國家有哪些？（複選，答案不只一個）

美國 臺灣 埃及 英國 ✓

紐西蘭 日本 德國 中國 ✓

三、請畫出這些國家的相對位置，並標示出釣魚臺的位置。



四、這些國家之間的衝突可以透過什麼樣的方式解決？  
(自由作答)

強化國力,在國際上占有一席之地,只有權力跟別人對抗,理性溝通和平解決。

✓  
good 2/19

# 黎明國小釣魚臺的主權與爭議 學習單

班級：六年七班 姓名：江宇彤

一、釣魚臺列嶼的位置在哪個洲？

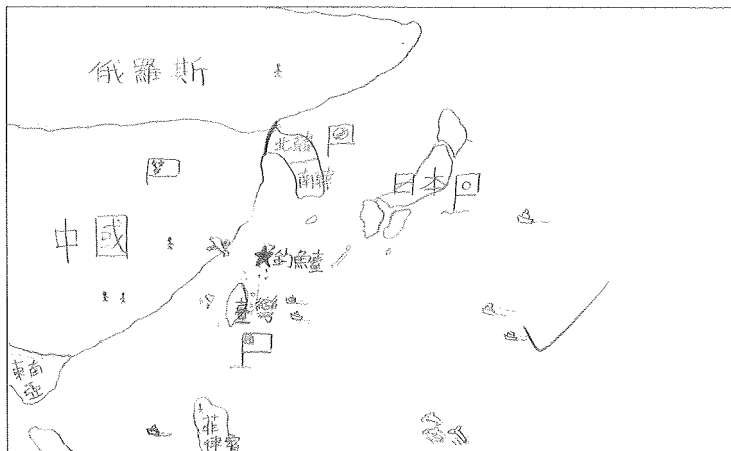
美洲 亞洲 非洲 歐洲 澳洲

二、鄰近的國家有哪些？（複選，答案不只一個）

美國 臺灣 埃及 英國

紐西蘭 日本 德國 中國

三、請畫出這些國家的相對位置，並標示出釣魚臺的位置。



四、這些國家之間的衝突可以透過什麼樣的方式解決？  
（自由作答）

使用和平的方式解決爭議，以免發生戰爭

good 3/4