

--	--

98 第一次國民中學學生基本學力測驗

社會科題本

請不要翻到次頁！

讀完本頁的說明，聽從監試委員的指示才開始作答！

※請先確認你的答案卡、准考證與座位號碼是否一致無誤。

請閱讀以下測驗作答說明：

測驗說明：

這是國民中學學生基本學力測驗社會科題本，題本採雙面印刷，共 **13 頁**，有 **63 題** 選擇題，每題都只有 一個 正確或最佳的答案。測驗時間從 **11：00** 到 **12：10**，共 **70 分鐘**。作答開始與結束請聽從監試委員的指示。

注意事項：

1. 所有試題均為四選一的選擇題，答錯不倒扣。
2. 試題中所附圖形，如有附上比例尺，以比例尺為依據作答；若無比例尺，則該圖僅作為參考，不代表實際大小。
3. 可利用題本中空白部分計算，切勿在答案卡上計算。
4. 依試場規則第八條規定，答案卡上不得書寫姓名座號，也不得做任何標記。故意汙損答案卡、損壞試題本，或在答案卡上顯示自己身分者，該科測驗不予計分。

作答方式：

請依照題意從四個選項中選出一個正確或最佳的答案，並用 **2B** 鉛筆在答案卡上相應的位置畫記，請務必將選項塗黑、塗滿。如果需要修改答案，請使用橡皮擦擦拭乾淨，重新塗黑答案。例如答案為 **B**，則將 **Ⓐ** 選項塗黑、塗滿，即：**Ⓐ** ● **Ⓑ** ○ **Ⓒ** ○ **Ⓓ** ○

以下為錯誤的畫記方式，可能導致電腦無法正確判讀。如：

- Ⓐ ● **Ⓑ** ○ **Ⓒ** ○ **Ⓓ** ○ — 未將選項塗滿
- Ⓐ **Ⓑ** ○ **Ⓒ** ○ **Ⓓ** ○ — 未將選項塗黑
- Ⓐ ● **Ⓑ** ○ **Ⓒ** ○ **Ⓓ** ○ — 未擦拭乾淨
- Ⓐ ● **Ⓑ** ○ **Ⓒ** ○ **Ⓓ** ○ — 塗出選項外
- Ⓐ ● ● **Ⓑ** ○ **Ⓒ** ○ **Ⓓ** ○ — 同時塗兩個選項

請聽到鈴（鐘）聲響後，於題本右上角方格內填寫准考證末兩碼，再翻頁作答

一、單題：(1~55 題)

- A 1. 小強參加「中國地理知識」競賽活動，只要根據四個提示，答出正確答案即可得分。其中某題提示如圖(一)，小強應回答下列哪一地理區才可得分？
- (A)東北平原 (B)黃土高原
(C)四川盆地 (D)珠江三角洲



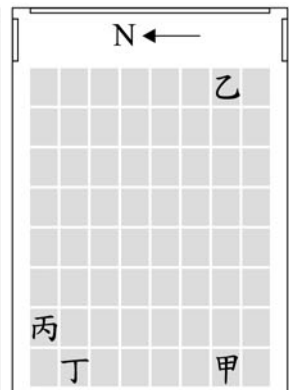
圖(一)

- B 2. 「暑假期間，小茹與家人一起到臺灣東部的溪邊玩水。她所在的下游地區天氣晴朗，但她抬頭望見上游山區開始變得烏雲密布，身旁河川的水位也漸漸上升，她馬上警覺到可能即將山洪暴發！」文中所描述的情形，除夏季的暴雨因素外，還與該地河川的何種特色最有關係？
- (A)含沙量大 (B)坡陡流急
(C)汙染嚴重 (D)侵蝕旺盛

- D 3. 小可想在傍晚看場電影，圖(二)是他買到的電影票。圖(三)是電影院座位圖，座位坐標由南到北依序為1號~8號，由東到西依序為A排~H排。若依據票上的資訊判斷，小可的座位應在圖(三)中的何處？
- (A)甲 (B)乙
(C)丙 (D)丁



圖(二)



圖(三)

- C 4. 坤民在車上使用電子地圖導航，圖上的國道一號 97 公里處到 98 公里處相距 10 公分。此時螢幕上地圖的比例尺最接近下列何者？
- (A) 97 : 98 (B) 1 : 10
(C) 1 : 10000 (D) 1 : 980000
- C 5. 圖(四)為中國內陸地區和沿海地區資源與人口間供需關係的示意圖，下列關於該圖的描述何者正確？
- (A)沿海地區人口壓力較小
(B)內陸地區資源總消耗量較大
(C)沿海地區資源需求壓力較大
(D)資源供應量沿海少於內陸地區



圖(四)

- D 6. 明初與清初的統治者，都面臨來自東南沿海的威脅。明代初年，東南沿海一帶海盜為患；而清代初期，則有臺灣島上鄭氏政權抗清的行動。兩者面對的問題雖有差異，但明太祖與清聖祖都選擇了相同的處理方式。此一「處理方式」應為下列何者？

(A)開港通商 (B)移民實邊
(C)開山撫番 (D)實施海禁

實邊：充實、開發邊遠地區。

- A 7. 「他們認為神明、祖先時時刻刻操縱人的禍福安危，因此需要向祂們祭享、祈求；他們大多使用青銅鑄造的祭器，用來象徵身分及地位。這種祭祀祖先的習俗也為後世所沿襲。」文中的「他們」最可能是下列何者？

(A)商朝的貴族 (B)漢朝的農民
(C)唐朝的僧侶 (D)宋朝的道士

- C 8. 曉蘭利用週休假期，安排了一趟臺灣北部、東部之旅。她沿途參觀了許多考古發掘的遺址，如：煉鐵的十三行文化、用陶器的靜浦文化、打製石器的長濱文化、以玉石陪葬的卑南文化等。根據上述文化特色判斷，其中哪一個文化是最早出現的？

(A)十三行文化
(B)靜浦文化
(C)長濱文化
(D)卑南文化

靜浦文化：分布於臺灣東部的史前文化。

- B 9. 圖(五)為某本臺灣史漫畫書中的圖片，這幅圖片應是描繪下列哪一時期？

(A)荷蘭統治時期
(B)鄭氏統治時期
(C)清朝統治時期
(D)國民政府時期




圖(五)

- C 10. 「當時，先是段祺瑞與黎元洪彼此意見不合，繼而張勳藉機推動復辟。段祺瑞驅逐張勳後，卻拒絕恢復國會與約法，引發孫中山在南方號召護法。其他還有張作霖、馮國璋等占據地盤，中國動盪不安。」這是描述下列哪一時期的政治情勢？

(A)清末革命與立憲的對峙 (B)洪憲帝制實施下的紛擾
(C)民初軍閥混戰的亂象 (D)北伐期間的國共鬥爭

- D 11. 因為資源稀少，人們必須面臨種種的選擇，這是經濟學的基本概念。圖(六)的遊戲場內有四名兒童，若他們想一起使用相同的遊戲設備，何者會出現資源稀少的問題？
- (A) 碰碰車 (B) 鞦韆
(C) 蹺蹺板 (D) 搖搖馬



圖(六)

- D 12. 部分廠商透過網路大量散發廣告電子郵件，這種未經收信人同意的郵件，侵害個人不受干擾的權利，雖然業者主張其有言論自由權，但政府仍主張有權對濫發郵件者的行為進行規範。上述政府的主張應是以下列何者作為考量？
- (A) 促進經濟成長 (B) 強化自我發展
(C) 推動公平交易 (D) 維護公眾權益
- D 13. 阿仁是個 14 歲的國中學生，父母在車禍中不幸喪生，對於像阿仁這樣因家庭遭受重大變故而失去依靠的孩子，為確保其身心健全發展，政府依法可給予適當安置。上述作法是根據下列何種法律的規定？
- (A) 《民法》 (B) 《少年事件處理法》
(C) 《家庭暴力防治法》 (D) 《兒童及少年福利法》
- C 14. 鑒於部分民眾透過原本免費的行政訴訟程序，企圖拖延行政處分的執行，因此立法院通過《行政訴訟法》的修正案，規定敗訴的當事人今後必須負擔裁判費用。下列何者為上述法案修正的主要目的？
- (A) 增加行政法院收入
(B) 簡化行政訴訟流程
(C) 避免浮濫提起訴訟
(D) 激勵司法人員士氣
- A 15. 右列是桃桃看到某張舊宣傳海報的部分內容，根據內容判斷，下列何者最可能是該宣傳訴求的主題？
- (A) 關懷基本人權
(B) 提升國際地位
(C) 推動經濟合作
(D) 重視環境保育

伸出您的援手
……在這裡，有兒童在垃圾堆裡拾荒；從印度到印尼沿海地區，有數億孩童居住在貧窮環境中……所以您的一元捐款，就是這些兒童生存的一線希望。

- D 16. 圖(七)為歐洲某區域的國家分布圖，圖中標示「甲」的海域近幾十年來因發現某項資源並進行開發，使得鄰近國家多能蒙受其利，對經濟發展助益頗大。此項資源應為下列何者？



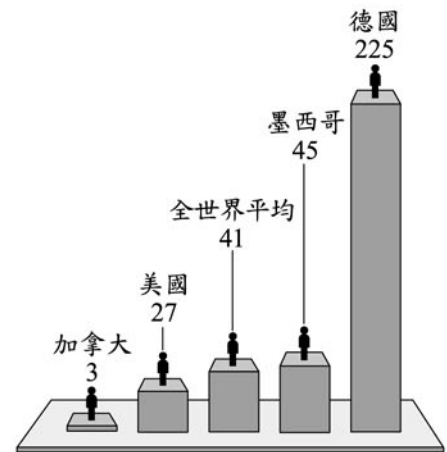
圖(七)

- (A)煤
(B)地熱
(C)漁產
(D)石油

- A 17. 2003年10月，中國陝西省北部的澄城縣有11萬間窯洞及房屋倒塌，9萬間成危樓，10萬災民無房可住，災情慘重。根據當地住屋材料的特性，造成此次災害的主要原因最可能是下列何者？

- (A)連日陰雨
(B)修築道路
(C)農民過度墾地
(D)黃沙瀰漫天際

- D 18. 圖(八)顯示某年數個國家的人口密度與全世界平均值的比較，圖上的數字為每平方公里的人口數。由圖中資訊可以得到下列何項結論？



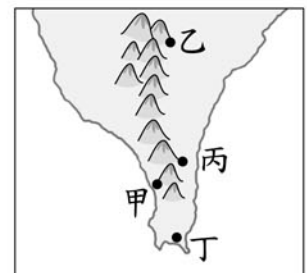
圖(八)

- (A)加拿大土地面積較美國小
(B)德國人力資源在四國中最為豐沛
(C)墨西哥都市化程度較世界平均值高
(D)德國每人可分配到的土地較其他三國少

- B 19. 「某地區位於裂谷(地塹)帶東側，在持續地殼變動影響下，谷地的寬度更為擴大，如果張裂作用繼續下去，估計百萬年後北方紅海的海水將進入谷地，使該地區逐漸脫離大陸成為島嶼。」上述現象應是發生在哪一洲？

- (A)亞洲 (B)非洲
(C)歐洲 (D)澳洲

- A 20. 「在臺灣，當冬季季風越過山嶺後，空氣變得乾燥溫暖，因此能減少病蟲害的發生，提高洋蔥的產量。」若僅根據上文的條件判斷，則圖(九)中甲、乙、丙、丁何處最適合洋蔥的栽種？



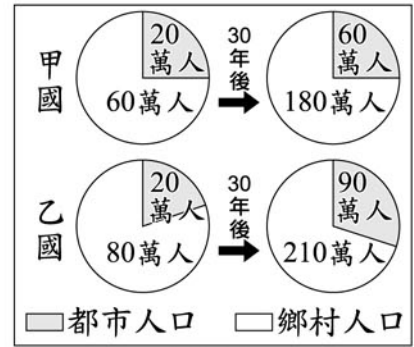
圖(九)

- (A)甲 (B)乙
(C)丙 (D)丁

- B 21. 距今三百多年前，荷蘭人東來亞洲後，占據臺灣，其重要原因是臺灣的地理位置有利於轉口貿易。當時，荷蘭在亞洲的貿易對象除東南亞之外，主要還包括下列哪兩個國家？
- (A)朝鮮、中國 (B)中國、日本
(C)俄國、朝鮮 (D)日本、俄國
- C 22. 清代某大臣上奏：「兩年前，我們選送六位廣方言館學生到北京考試，後來總理衙門來函稱讚這六名學生表現卓越，現已授予這些學生『翻譯貢生』的資格。有鑒於新開埠的港口及地方上新建的學堂亟需人才，將由這批學生來擔任相關職務。」這份奏摺所陳述的情況最可能發生在下列何時？
- (A)三藩之亂期間
(B)鴉片戰爭之時
(C)自強運動期間
(D)新文化運動時
- C 23. 日本統治時期，曾出現下列的政策及運動，其中何者是臺灣人站在自身立場，為維護臺灣人權益而提出？
- (A)南進政策
(B)皇民化運動
(C)臺灣議會設置請願運動
(D)「農業臺灣、工業日本」政策
- B 24. 有一位史家曾在他的著作中指出：「這一條動脈的暢通與停滯，足以決定唐、宋國運的盛衰隆替，其關係的密切簡直有如真正的動脈之於身體那樣。」他所說的「動脈」應是指下列何者？
- (A)馳道 (B)運河
(C)長城 (D)絲路
- A 25. 下列有四段小說情節，其中哪一段最可能是描寫「中古騎士文化」？
- (A)「約翰心想，賜我土地的路易伯爵受到他們的傷害，為了表現我的忠誠，並且報答伯爵的情義，我要為伯爵討回公道！」
- (B)「十歲的麥斯不斷重複同樣的工作，在機器轟隆隆的吵雜環境裡，他忽然思念起家鄉的祖母，抬頭仰望，卻只見排放陣陣廢氣的煙囪。」
- (C)「菲力走在街道上，聽到人們興奮地說：『今天下午，人獸格鬥賽將準時在圓形競技場內舉行！』」
- (D)「看看時間差不多了，薩德朝參加方向進行今天第三次禮拜後，趕往城內清真寺與眾人會合，商討旅行貿易問題。」

- B 26. 民主政治的特色之一是民意政治，人民通常藉由選舉來表達民意，但政治人物當選後，人民仍然有權透過選票將權力收回，藉此加以監督，以防偏離民意。人民可以透過上述罷免權的行使，對下列何者進行監督？
(A)大法官 (B)縣(市)長
(C)考試委員 (D)行政院院長
- D 27. 近年商業設計朝向個性化商品發展，也就是針對個人某些特質來設計商品，例如個人造型的人偶公仔、姓名貼紙或印上個人照片的衣服、杯子等。上述發展趨勢的形成，主要是因為生產者考量下列哪一項因素？
(A)在哪生產 (B)如何生產
(C)何時生產 (D)為誰生產
- C 28. 哈比國為解決都市交通壅塞的問題，計畫推行「私人車輛進城需加收道路使用費」的措施。上述政府的作法，主要是以下列哪一種觀點尋求解決對策？
(A)刺激生產 (B)減少利潤
(C)降低需求量 (D)增加供給量
- B 29. 選舉權的行使是民主政治的重要基礎，但相關法律都會對合格選民的條件加以限制。我國為防止有些選民為了候選人而遷移戶籍，卻未實際居住於戶籍地的現象，目前採行下列哪一種規定來避免這種情況？
(A)一定要達到二十歲的法定年齡
(B)戶籍設立符合法定期間的要求
(C)投票前必須先經過登記的手續
(D)具有本國出生證明的合格公民
- A 30. 「社區總體營造」旨在強調居民對於社區文化的主動參與和認同，透過他們自發性的具體行動，建立居民的社區意識。根據上述內容判斷，下列何者最不可能屬於社區總體營造的項目？
(A)推動政府組織再造 (B)開發地方觀光產業
(C)編寫鄉土文史教材 (D)舉辦國際文化交流
- C 31. 為共同改善社會治安，行政院指示各部會依其職權提出相關計畫，如內政部的「詐騙防治宣導」、教育部的「加強法治教育與減少校園犯罪」、海巡署的「嚴防槍械毒品走私」等。上述指示最能說明下列何種意涵？
(A)逮捕罪犯是各部會首要工作
(B)治安工作權責僅在中央政府
(C)解決治安問題須跨部會整合
(D)嚴刑重罰以樹立政府的威信

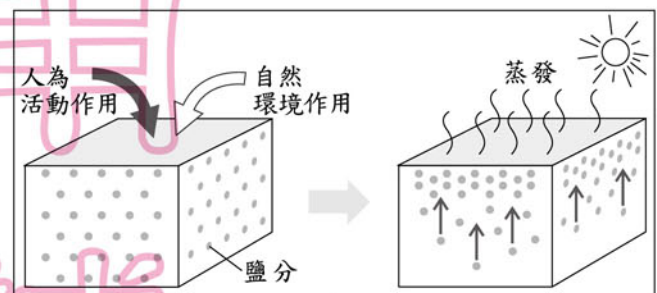
- B 32. 圖(十)是甲、乙兩國都市人口和鄉村人口占全國人口比例的統計圖。圖中顯示三十年後，甲、乙兩國的都市化程度有何改變？
- (A)僅甲國提高
(B)僅乙國提高
(C)甲、乙兩國皆提高
(D)甲、乙兩國皆未提高



圖(十)

- C 33. 「這裡人煙稀少，其中一個原因是盧安瓦河一年一度的氾濫。每年10月之後的雨季期間，黑壓壓的雷雨雲開始聚積，滂沱大雨如急流般從天而降，洗去草與樹上的塵埃；暴漲的河水會重新改變土地的面貌，野生動物也隨著乾溼季節的更替而遷移。」上文所述的地區，最可能是位於下列何種氣候分區？
- (A)北半球熱帶季風氣候
(B)北半球溫帶沙漠氣候
(C)南半球熱帶莽原氣候
(D)南半球地中海型氣候

- B 34. 圖(十一)是中國某項環境問題形成過程的示意圖，此問題對於當地農業耕作十分不利。圖中鹽分的移動與下列哪一種人為活動作用最有關係？
- (A)過度放牧
(B)不當灌溉
(C)大量施肥
(D)圍湖造田



圖(十一)

- C 35. 第二次世界大戰後，陸續發生柏林危機、韓戰、越戰、古巴危機等國際衝突，這些衝突發生的共同背景為何？
- (A)亞、歐對抗
(B)蘇聯的解體
(C)美、蘇冷戰
(D)第三世界瓦解

- B 36. 宋太祖建國後，以強幹弱枝為基本國策，一方面集權中央，一方面削弱地方的財政與兵力。他採用這項政策的主要原因為何？
- (A)受唐代科舉制度的影響
(B)欲改正軍人干政的惡習
(C)因邊族貧弱而國防無憂
(D)盼終止外戚專權的弊病

- A 37. 歐洲的英國、法國、西班牙及義大利，今日是各有不同文化、獨立自主的國家。但在歷史上，這些國家曾同在下列哪一帝國的統治之下？
 (A)羅馬帝國 (B)拜占庭帝國
 (C)亞歷山大帝國 (D)鄂圖曼土耳其帝國
- A 38. 某鄉因位處水資源保護區而受到開發的限制，但鄉民大多希望規畫中的快速道路能經過該鄉，以利當地的觀光發展。若為達成上述目的，鄉民依法可以採取下列哪一種途徑為地方爭取權益？
 (A)向行政院連署請願 (B)向交通部提出訴願
 (C)向行政法院提出訴訟 (D)請總統舉辦公民投票
- A 39. 一群老人家在大樹下乘涼，談論起自己最近遭遇的事情。若僅依他們所敘述的狀況，按照我國法律的規定判斷，下列何者可由檢察官代為達成其爭取權益的目的？
 (A)阿玉：「我接到恐嚇電話，被詐騙了10萬元。」
 (B)阿秀：「我不堪丈夫一再外遇，打算訴請離婚。」
 (C)阿添：「我借給好友一筆錢，他卻未依照約定付利息。」
 (D)阿福：「我收到一張與我車籍資料不符的交通違規告發單。」
- B 40. 福華社區考慮在社區內設置監視錄影系統，此一作法可能有助於維護社區治安，但卻也引發侵犯個人隱私的疑慮。對社區居民而言，這種維護安全或是保障隱私的選擇，隱含經濟學中的何種概念？
 (A)外部效果 (B)機會成本
 (C)比較利益原理(則) (D)負擔能力原則
- D 41. 1970年代，政府為防止肝炎的傳染，大力推廣民眾在外用餐時使用免洗餐具；時至今日，政府為減少汙染而立法強制禁用塑膠類免洗餐具。由上述看待免洗餐具的態度改變，最能反映出下列哪一種意涵？
 (A)飲食餐具講究精緻又美觀
 (B)經濟衰退須減少資源浪費
 (C)醫療體系完善可確保健康
 (D)環境保育觀念逐漸受重視
- C 42. 圖(十二)是小杉為解決全球暖化問題所提出的部分行動方案，其中何者最無助於改善此問題？
 (A)甲 (B)乙
 (C)丙 (D)丁



圖(十二)

- C 43. 臺灣的大眾文化受歐美、日本影響甚鉅，但地方特色文化也逐漸興起，藉由重新包裝和改造等途徑，使傳統的茶藝、歌仔戲與布袋戲等均得以再度成為流行風潮。下列何者最足以解釋上述現象？
- (A)全球化促使文化發展趨向單一化
 (B)跨國企業影響各地休閒生活型態
 (C)全球文化與本土文化的共存融合
 (D)臺灣傳統文化成為全球主流文化

- B 44. 表(一)為 2005 年與 2008 年初臺灣四家航空公司臺北—高雄航線機票價格的變化情形。下列何者最可能為造成該航線機票價格變動的原因？

表(一)

航空公司	2005年	2008年初
甲	2,021元	1,200元
乙	1,900元	1,190元
丙	2,020元	停飛
丁	1,920元	1,200元

- (A)國際油價上漲
 (B)高速鐵路通車
 (C)環島鐵路興建完成
 (D)來臺旅遊人次增加
- D 45. 清朝統治時期，臺灣興築許多大規模的水圳，如：鳳山曹公圳、彰化八堡圳、臺北瑠公圳等。當時修築水圳的主要原因為何？
- (A)地層下陷嚴重，舊有河川枯竭
 (B)土地不當開發，水源遭受汙染
 (C)工業用水不足，提供穩定水源
 (D)擴大灌溉面積，增加農業產量

- C 46. 「區域統合」的觀念雖出現於當代，但在過去歷史中，亦曾出現過類似性質的結合。下列何者即為最好的例證？
- (A)宋代：澶淵之盟 (B)美國：門羅宣言
 (C)普魯士：關稅同盟 (D)清末：門戶開放政策


- A 47. 表(二)是我國人口統計的部分摘要，根據表中內容判斷，民國 80 年至 90 年間，我國人口發展最可能呈現出下列哪一項現象？

表(二)

民國(年)	總人口(千人)	人口成長率(%)	當年結婚對數(千對)	總生育率(人)
80	20,557	10.0	165	1.7
85	21,471	7.9	167	1.8
90	22,339	5.6	170	1.4

- (A)人口成長逐漸趨緩
 (B)平均結婚年齡漸降
 (C)未婚人口比例增加
 (D)生育子女個數增加

- C 48. 十七世紀中葉，鄭成功決定以臺灣作為反清復明的基地。當時鄭成功率領部隊登陸臺灣本島，所看到海岸景觀的類型與下列何者最相似？



- A 49. 表(三)是流行於十九世紀的社會經濟學說，其中哪一學說屬於「自由主義」的經濟觀點？

- (A)甲
(B)乙
(C)丙
(D)丁

表(三)

學說	主張
甲	經濟活動受自然法則的支配，政府不應干預，干涉最少的政府才是最好的政府。
乙	為確保從海外市場獲得利潤，政府必須積極掌握對海外地區的貿易控制權。
丙	廢除私有財產，將重要財產如土地、礦產、機器等，改為社會全體所共有。
丁	限制外國商品的輸入，致力於發展國內工商業，反對國際的貿易往來。

- B 50. 有一個調查團曾發表如下的報告：「我們不認為日本所採取的行動，是一種合法的自衛手段。……當地統治者名義上是滿洲人，實權卻操之於日本官吏及顧問手中，在當地華人心目中，統治者純粹是日人的工具而已……。」這個調查團應隸屬於下列哪一組織？

- (A)聯合國
(B)國際聯盟
(C)亞太經濟合作會議
(D)北大西洋公約組織

- D 51. 若某項食品售價為100元，圖(十三)顯示該項食品定價來源的分配情形，根據圖示內容判斷，下列何種作法最能夠大幅降低售價？

- (A)注重環保簡化包裝
(B)政府降低營業稅率
(C)產地直銷聯合配送
(D)加工製造成本減半



圖(十三)

- D 52. 「地動儀」是中國古代用來觀測地震的儀器，其上有八條含著銅球的龍，龍頭分別朝著八方位，哪個方向發生地震，該方向的銅球就會從龍嘴掉落至下方銅蟾蜍的口中。如果將地動儀設置於河南洛陽，當西南方銅球掉落，則它所感應到發生地震的城市可能是下列何者？
- (A) 上海 (B) 北京
(C) 武漢 (D) 重慶

- C 53. 表(四)是四個內閣制國家的政黨政治運作情形，依據表中資料推斷，哪一個國家的政府最可能採行聯合政府的型態？
- (A) 甲
(B) 乙
(C) 丙
(D) 丁

表(四)

國家	政黨數	國會席次比例	說明
甲	2	A黨98%、B黨2%	A黨長期執政
乙	6	C黨55%、D黨45%	C黨與D黨輪流執政
丙	108	E黨30%、F黨28%、G黨27%、H黨15%	無一政黨過半
丁	12	I黨85%、J黨9%、其他6%	I黨長期執政

- B 54. 圖(十四)、圖(十五)是筱方暑假去某外島旅遊，在當地景點拍攝的照片。由照片內容推測，她應是去圖(十六)中哪一地點？



圖(十四)

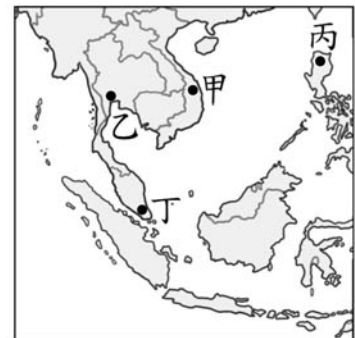
圖(十五)



圖(十六)

- (A) 甲 (B) 乙 (C) 丙 (D) 丁

- A 55. 因為故鄉的文化與中國相近，阿水來到臺灣擔任看護的工作，適應相當良好。由於她聰明勤勞，很快學會中文，再加上故鄉過去的被殖民經驗，使得她還會說一些法文，她的雇主對她相當滿意，把她當作女兒般疼愛。阿水的故鄉可能位於圖(十七)中的何處？



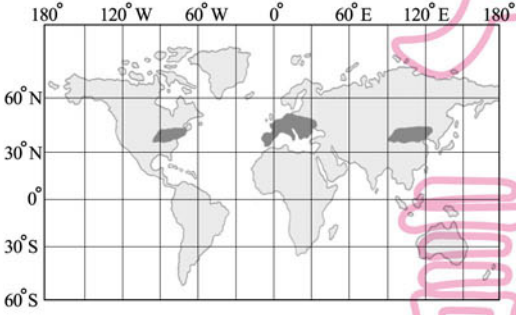
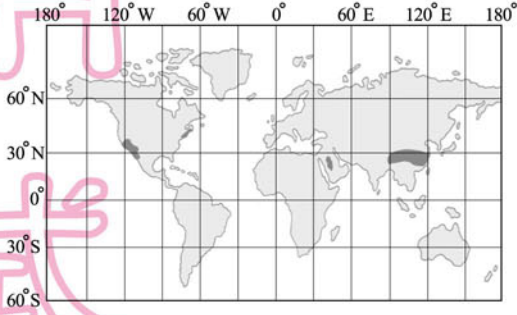
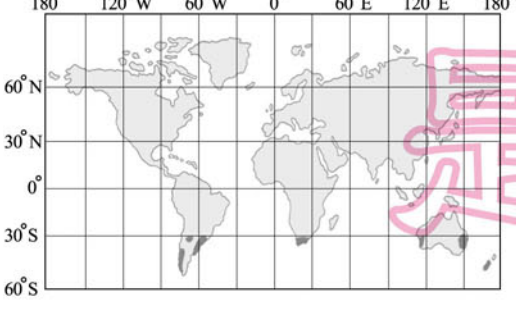
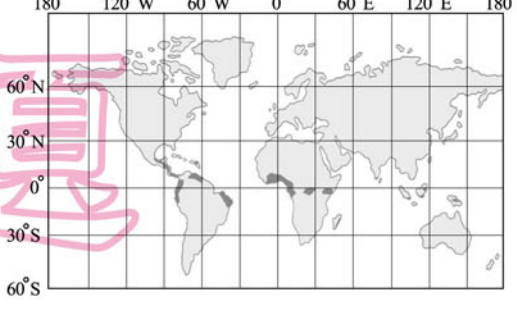
圖(十七)

- (A) 甲 (B) 乙
(C) 丙 (D) 丁

二、題組：(56~63 題)

閱讀下列選文，回答第 56 至 58 題：

熱巧克力是受大眾喜愛的飲料，它濃郁的口感與香氣，易使人產生幸福的感覺。巧克力的原料——「可可」，屬於熱帶栽培業作物，在原產地被印第(地)安人以粥的形式或添加辣椒、香草等調味料的冷飲形式飲用，在當地亦被視為重要貨幣。後來，西班牙人將它傳入歐洲，發展出添加糖和牛奶的飲料形式，再演變成塊狀巧克力，廣受歐洲人歡迎。為增加產量，西班牙人曾派遣商船航行到非洲，以衣物等民生製品交換、誘騙當地黑人上船，將他們運送到種植可可的農園工作，這些商船再將農園產品運回歐洲母國販售。

- D 56. 文中所提原料傳入歐洲的過程，與下列哪一歷史背景最有關係？
- (A) 蒙古西征 (B) 十字軍東征
(C) 法國大革命 (D) 地理大發現
- D 57. 文中提到的原料，依其生長條件判斷，最可能分布於下列哪一幅圖標示的區域中？
- (A)  (B) 
- (C)  (D) 
- A 58. 上文提及運送黑人到可可園工作，然後將可可運回歐洲母國販售，此種運作方式屬於下列何者？
- (A) 殖民經濟 (B) 專業分工
(C) 莊園經濟 (D) 公有共享

閱讀下列選文，回答第 59 至 61 題：

校內舉辦「認識美國」的展覽活動，小亞經過走廊時看到一幅海報，海報上的插圖如圖(十八)所示，插圖下方有一串文字：歐洲人到達之後，由於土地的開墾，使圖中黑點所代表的地理景觀不斷地減少。



- D 59. 該幅海報上用來呈現美國地理景觀變遷的地圖，是一種常用的地圖形式。下列何者最可能使用此種形式來加以呈現？
- (A)中國地形圖 (B)美國行政區圖
(C)非洲氣候分布圖 (D)臺灣人口分布圖
- C 60. 圖中黑點分布的變化應是指何種地理景觀的變遷？
- (A)小麥種植區 (B)棉花種植區 (C)原始森林區 (D)聚落分布區
- A 61. 由圖中地理景觀的變遷可知，歐洲移民在上述地區的開發方向主要為下列何者？
- (A)由東部到西部 (B)由西北到東南
(C)由內陸向沿海 (D)由低緯到高緯

閱讀下列選文，回答第 62 至 63 題：

現代民主政治的精神之一是人人都能享有平等的權利，但女性獲得選舉權僅是近代的事情而已。在歷史上，政府常以性別、種族或經濟能力等理由，來限制選舉權的行使。例如1935年，臺灣在日治時期首次舉辦的第一屆市議會及街庄協議會選舉，女性就不具有投票資格。而最早給予女性選舉權的國家是紐西蘭，至於我國女性的選舉權，則是直到民國建立多年後，才首次由政府以「明文規定」加以保障。

- B 62. 文中提及 1935 年所舉辦的選舉，最可能具有下列哪一種象徵意涵？
- (A)三權分立 (B)地方自治 (C)政治平等 (D)政黨輪替
- B 63. 上文所述的「明文規定」，指的是下列何者的規定？
- (A)《公民投票法》
(B)《中華民國憲法》
(C)《性別工作平等法》
(D)《公職人員選舉罷免法》

《性別工作平等法》：《兩性工作平等法》修正後的名稱。