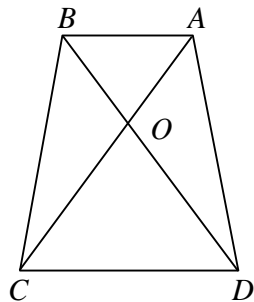


題號：C-109 複-01

時間：30 秒

選手代號：《C 組》

如圖，梯形 $ABCD$ 中， $\overline{AB} \parallel \overline{CD}$ ， \overline{AC} 交 \overline{BD} 於 O 點。若 $\triangle AOB$ 的面積為 4， $\triangle COD$ 面積為 9，求 $\triangle AOD$ 的面積為多少？



答案欄

題號：C-109 複-02

時間：30 秒

選手代號：《C 組》

有一個三角形，它的三邊長分別為 a, b, c ，而其相對應的高分別為 h_a, h_b, h_c ，
若 $a:b=4:5$ ， $b:c=2:3$ ，則 $h_a:h_b:h_c=?$ （請以最簡整數比表示）

答案欄

題號：C-109 複-03

時間：30 秒

選手代號：《C 組》

已知二元一次聯立方程式 $\begin{cases} 2(x+3y-5) = y-9 \\ 4x+10y = a \end{cases}$ 有無限多組解，請問 $a = ?$

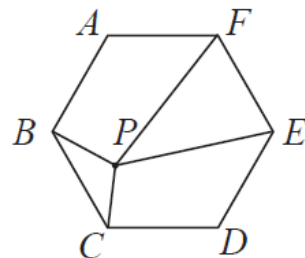
答案欄

題號：C-109 複-04

時間：30 秒

選手代號：《C 組》

如圖，正六邊形 $ABCDEF$ 中， P 為內部一點，若 $\triangle PBC$ 、 $\triangle PEF$ 的面積分別為 3 與 15，則正六邊形 $ABCDEF$ 的面積為何？



答案欄

題號：C-109 複-05

時間：30 秒

選手代號：《C 組》

多項式 A 除以多項式 B 所得的商式為 $3x+2$ ，餘式為 -5 ，
則 $2A$ 除以 $3B$ 的餘式為多少？

答案欄

題號：C-109 複-06

時間：45 秒

選手代號：《C 組》

下表為 2018 年是世足賽首輪 B 組比賽結果，小組共有四隊，每隊均與其他三隊對戰完成，即完成本小組所有賽事。(資料來源：[FIFA](#))

隊伍	已賽場數	勝場數	和局場數	負場數
西班牙	3	1	2	
摩洛哥	3	0	1	
葡萄牙	3	1		
伊朗	3	1	1	

請問葡萄牙和局場數為_____場。

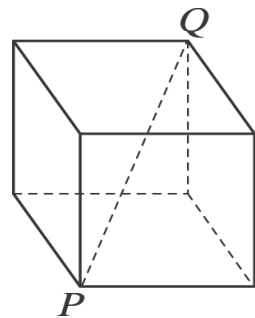
答案欄

題號：C-109 複-07

時間：30 秒

選手代號：《C 組》

如右圖，已知 \overline{PQ} 為正方體的對角線，若 $\overline{PQ} = \sqrt{21}$ ，則此正方體的邊長是多少？



答案欄

題號：C-109 複-08

時間：30 秒

選手代號：《C 組》

若多項式 $5x^2-13x-4=a(x-2)^2+b(x-2)+c$ ，則 $a - b + c =$ _____。

答案欄

題號：C-109 複-09

時間：30 秒

選手代號：《C 組》

m 為一整數。若方程式 $x^2 + mx - 12 = 0$ 可求得兩根均為整數。
則符合此條件的 m 值有幾個？

答案欄

題號：C-109 複-10

時間：60 秒

選手代號：《C 組》

數線上有 A(3)、B(21)兩點，將線段 AB 平分 10 段，且等分點依序為 x_1 、 x_2 、 x_3 、
.....、 x_n ，請問 $x_1 + x_2 + x_3 + \dots + x_n = ?$

答案欄

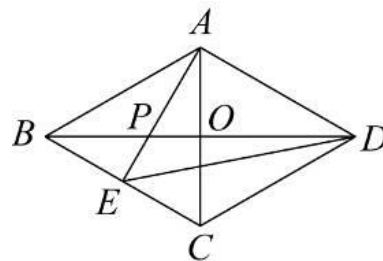
題號：C-109 複-11

時間：60 秒

選手代號：《C 組》

如圖，菱形 $ABCD$ 的對角線 \overline{AC} 、 \overline{BD} 交於 O 點， E 為 \overline{BC} 的中點。

若 $\overline{PE} = 1$ 公分， $\overline{BP} = 2$ 公分，則 $\triangle PED$ 的面積為多少平方公分？



答案欄

題號：C-109 複-12

時間：30 秒

選手代號：《C 組》

若方程式 $x=2$ 是一元一次方程式 $ax-b=c$ 的解，其中 $a \neq 0$ ，
請問一元一次方程式 $2xa-3b=3c$ 的解為多少？

答案欄

題號：C-109 複-13

時間：60 秒

選手代號：《C 組》

因式分解： $2(3x-1)^2+10(x+3)-4(x+3)(3x-1) -5(3x-1)$ 。

答案欄

題號：C-109 複-14

時間：30 秒

選手代號：《C 組》

若一元二次方程式 $(m-4)x^2 - 8x + 2 = 0$ 有兩相異實根，則 m 有 _____ 個正整數解。

答案欄

題號：C-109 複-15

時間：30 秒

選手代號：《C 組》

若 a 、 b 為整數，且 c 為正整數， $5 \mid a^2 - b^2 \mid + 7 \mid c^2 + ab \mid + \mid c + 1 \mid = 4$ ，
則 $a + b + c = ?$

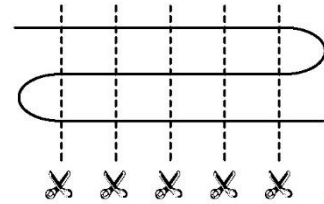
答案欄

題號：C-109 複-16

時間：60 秒

選手代號：《C 組》

把一條繩子折成等長的 11 段，如圖，那麼剪 5 刀，共可剪成幾段？



答案欄

題號：C-109 複-17

時間：60 秒

選手代號：《C 組》

媽媽請小明帶著定量的錢到超市買砂糖與海鹽，到了超市小明發現，如果全部的錢都買海鹽可以買 30 包海鹽，又發現多買 2 包砂糖就必須少買 3 包海鹽。若小明用全部的錢買了 x 包砂糖與 y 包海鹽，請寫出 x 與 y 的關係式， $y =$ _____。

答案欄

題號：C-109 複-18

時間：60 秒

選手代號：《C 組》

觀察數列 $\frac{1}{1}, \frac{1}{2}, \frac{2}{1}, \frac{1}{3}, \frac{2}{2}, \frac{3}{1}, \frac{1}{4}, \frac{2}{3}, \frac{3}{2}, \frac{4}{1}, \frac{1}{5}, \dots$ 的規則，請寫出此數列的第 87 項。

答案欄

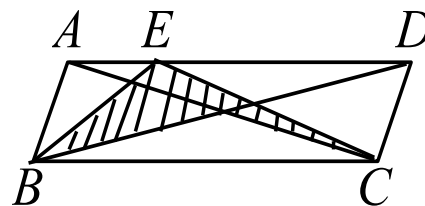
題號：C-109 複-19

時間：60 秒

選手代號：《C 組》

如圖，平行四邊形 ABCD 中 AC 交 BD 於 O 點，E 為 AD 上一點。

若 ABCD 的面積為 36 平方公分，則斜線部分面積為多少平方公分？



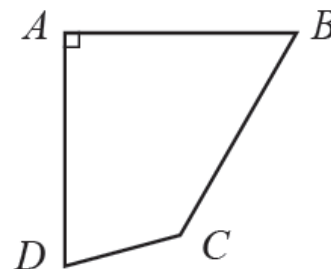
答案欄

題號：C-109 複-20

時間：60 秒

選手代號：《C 組》

如圖，四邊形 $ABCD$ 中， $\overline{AB} \perp \overline{AD}$ ， $\overline{AB} = \overline{AD} = \overline{BC} = 5$ ，且 $\angle B = 60^\circ$ ，
則 $\angle BCD$ 的度數為何？



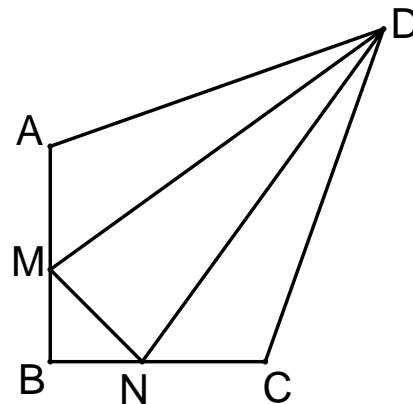
答案欄

題號：C-109 複-21

時間：60 秒

選手代號：《C 組》

如圖， $ABCD$ 為一鳶形，其中 $\overline{AB} \perp \overline{BC}$ ， $\overline{AB} = \overline{BC} = 6\sqrt{2}$ ，且 \overline{DM} 、 \overline{DN} 將 $ABCD$ 面積三等分。求 $\overline{MN} = ?$



答案欄

題號：C-109 複-22

時間：90 秒

選手代號：《C 組》

有兩直線 $L_1: 4x - 5y = a$ 、 $L_2: x + 2y = 8$ ，其交點 P 位於第一象限，請問 a 的範圍？

答案欄

題號：C-109 複-23

時間：60 秒

選手代號：《C 組》

二等差數列之前 n 項和的比為 $(2n + 3) : (3n + 1)$ ，
則其第 5 項的比為_____。

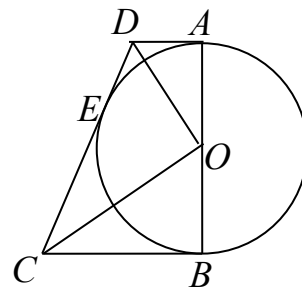
答案欄

題號：C-109 複-24

時間：60 秒

選手代號：《C 組》

如右圖，已知 \overline{AB} 是圓 O 的直徑， A 、 B 、 E 為切點。若 $\overline{AB} = 12$ ， $\overline{AD} = 2$ ，
則 $\overline{BC} =$ _____。



答案欄

題號：C-109 複-25

時間：60 秒

選手代號：《C 組》

P 為矩形 $ABCD$ 內部一點， $\overline{PA}=5$ ， $\overline{PB}=3$ ， $\overline{PC}=4$ ，求 \overline{PD} 長。

答案欄

題號：C-109 複-26

時間：60 秒

選手代號：《C 組》

有一個六邊形的六個內角均為 120° ，且已知連續四個邊長依序為2, 6, 6, 3，
則該六邊形的周長為_____。

答案欄

題號：C-109 複-27

時間：90 秒

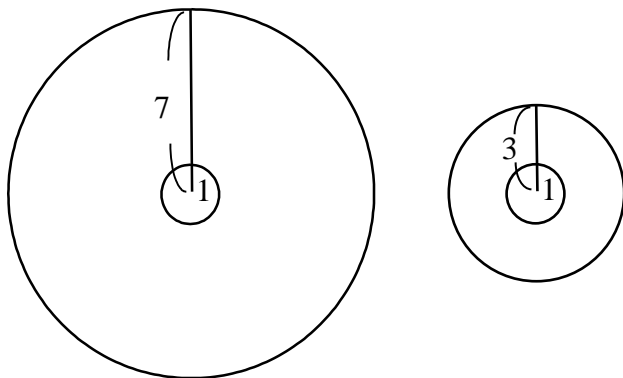
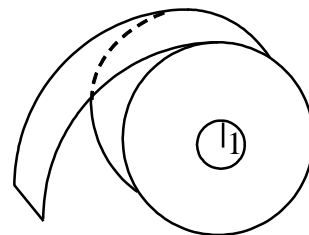
選手代號：《C 組》

有一款膠帶繞在半徑為1的塑膠圓柱上，已知其使用前、後的側面圖如下：

使用前的外圈圓半徑為7，內圈塑膠圓半徑為1。

使用後的外圈圓半徑為3，內圈塑膠圓半徑為1。

試問使用掉的膠帶長是剩下的膠帶長的_____倍。



答案欄

題號：C-109 複-28

時間：180 秒

選手代號：《C 組》

有五位學生A、B、C、D、E，他們的體重依次為a、b、c、d、e，若

$$a+b < c+d,$$

$$b+c < d+e,$$

$$c+d < e+a,$$

$$d+e < a+b,$$

則這五位學生中體重最重的人是_____。

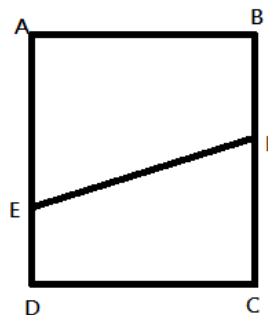
答案欄

題號：C-109 複-29

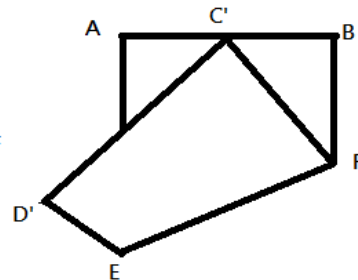
時間：180 秒

選手代號：《C 組》

日常生活常有摺紙動作，今有一長方形紙張 $ABCD$ ，已知 E 、 F 分別在 \overline{AD} 、 \overline{BC} 上(如圖一)，今沿著 \overline{EF} 將長方形摺疊，使得頂點 C 正好落在 \overline{AB} 的中點 C' 上(如圖二)，若 $\overline{AB}=10$ 、 $\overline{BC}=12$ ，求 $\overline{EF}=?$



圖一



圖二

答案欄

