



9

分ㄉㄨㄛˊ裝ㄓㄨㄤˊ與ㄩˊ平ㄉㄨㄛˊ分ㄉㄨㄛˊ



分裝





第九單元 分裝與平分

- 一、分裝是指將總數量，每次按照固定的數量裝成一份，求一共可以裝成幾份。
- 二、這單元要好好學習喔！這未來三上學習除法很重要。



第九單元 分裝與平分

12個布丁，每4個裝一盒，可以裝成幾盒？

減法計算：

$$12 - 4 = 8$$

$$8 - 4 = 4$$

$$4 - 4 = 0$$

裝一盒用4個

裝二盒用4個的2倍

裝三盒用4個的3倍

乘法計算：

$$4 \times 1 = 4$$

$$4 \times 2 = 8$$

$$4 \times 3 = 12$$

$$4 \times (3) = 12$$

個 個

答：3盒



第九單元 分裝與平分

例如：36顆蘋果，每9顆裝一盒，可以裝成幾盒？

減法計算：

$$36 - 9 = 27$$

$$27 - 9 = 18$$

$$18 - 9 = 9$$

$$9 - 9 = 0$$

$$9 \times (4) = 36$$

乘法計算：

$$9 \times 1 = 9$$

$$9 \times 2 = 18$$

$$9 \times 3 = 27$$

$$9 \times 4 = 36$$

答：4盒



第九單元 分裝與平分

類題：有30人，每5人分一組，可以分成幾組？

減法計算：

$$30 - 5 = (\quad)$$

$$25 - 5 = (\quad)$$

$$20 - 5 = (\quad)$$

$$15 - 5 = (\quad)$$

$$10 - 5 = (\quad)$$

$$5 - 5 = (\quad)$$

乘法計算：

$$5 \times (\quad) = 5$$

$$5 \times (\quad) = 10$$

$$5 \times (\quad) = 15$$

$$5 \times (\quad) = 20$$

$$5 \times (\quad) = 25$$

$$5 \times (\quad) = 30$$

$$5 \times (\quad) = 30$$

答：()組



第九單元


習作76-79頁





1 圈圈看，再回答問題。

1 有24顆果凍，每4顆裝成1袋，
可以裝成幾袋？



答：_____





- 1 圈圈看，再回答問題。
- 2 教室裡有20個小朋友，每5個小朋友分成1組，可以分成幾組？




答：_____





2 圈圈看，再回答問題。

1 有16顆水餃，每8顆裝成1盤，
可以裝成幾盤？




答：_____





2 圈圈看，再回答問題。

2 有18枝鉛筆，每6枝裝成1盒，
可以裝成幾盒？




答：_____





2 圈圈看，再回答問題。

3 有12顆糖果，每2顆分給1個人，
可以分給幾個人？



答：_____





③ 把做法用算式記下來，並算出答案。

① 花店有40朵花，每8朵綁成1束，可以綁成幾束？

答：_____





- ③ 把做法用算式記下來，並算出答案。
- ② 有16個人要坐摩天輪，每個車廂可以坐4個人，至少需要幾個車廂才夠坐？

答：_____





③ 把做法用算式記下來，並算出答案。

③ 媽媽煮了20顆丸子，每5顆裝成1碗，可以裝成幾碗？



答：_____





4 把做法用算式記下來，並算出答案。

1 分組遊戲時，每9個人1組，27個人可以分成幾組？

減法或用乘法算式記錄

答：_____





- 4 把做法用算式記下來，並算出答案。
- 2 1個盒子可以裝6顆雞蛋，媽媽買了30顆雞蛋，可以裝成幾個盒子？

減法或用乘法算式
記錄

答：_____





4 把做法用算式記下來，並算出答案。

3 一條繩子長36公分，每6公分剪成1段，可以剪成幾段？

減法或用乘法算式記錄

答：_____





記得要檢查喔!

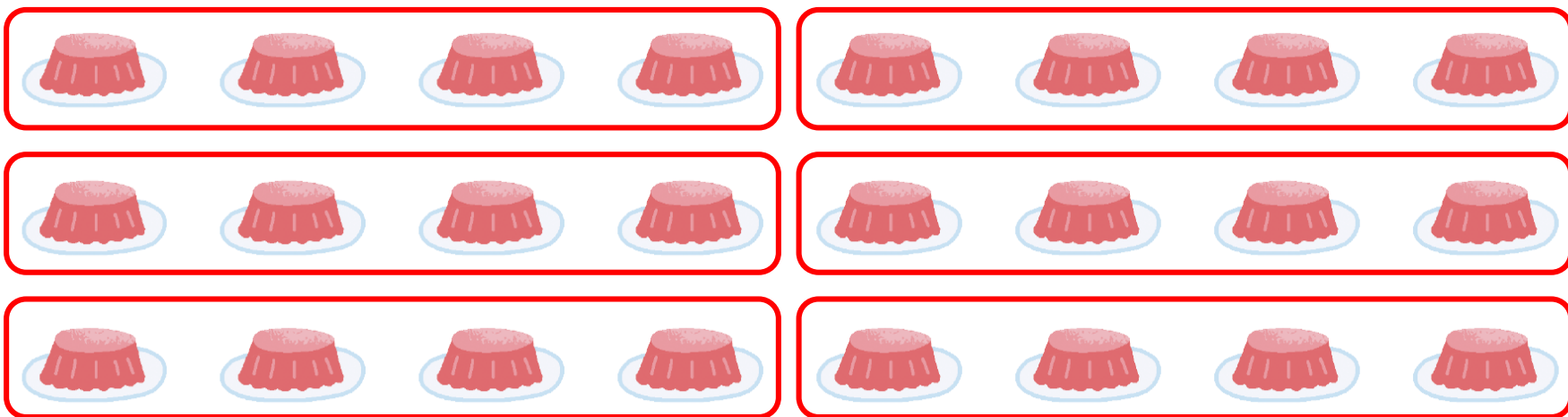
看看答案吧!





1 圈圈看，再回答問題。

1 有24顆果凍，每4顆裝成1袋，
可以裝成幾袋？



答： 6袋





- 1 圈圈看，再回答問題。
- 2 教室裡有20個小朋友，每5個小朋友分成1組，可以分成幾組？




答： 4組





2 圈圈看，再回答問題。

1 有16顆水餃，每8顆裝成1盤，
可以裝成幾盤？




答： 2盤





2 圈圈看，再回答問題。

2 有18枝鉛筆，每6枝裝成1盒，
可以裝成幾盒？




答： 3盒





2 圈圈看，再回答問題。

3 有12顆糖果，每2顆分給1個人，
可以分給幾個人？



答： 6個人





③ 把做法用算式記下來，並算出答案。

① 花店有40朵花，每8朵綁成1束，可以綁成幾束？

$$40 - 8 = 32$$

$$16 - 8 = 8$$

$$32 - 8 = 24$$

$$8 - 8 = 0$$

$$24 - 8 = 16$$

答： 5束





③ 把做法用算式記下來，並算出答案。

② 有16個人要坐摩天輪，每個車廂可以坐4個人，至少需要幾個車廂才夠坐？

$$16 - 4 = 12$$

$$12 - 4 = 8$$

$$8 - 4 = 4$$

$$4 - 4 = 0$$

答： 4個





③ 把做法用算式記下來，並算出答案。

③ 媽媽煮了20顆丸子，每5顆裝成1碗，可以裝成幾碗？

$$20 - 5 = 15$$

$$10 - 5 = 5$$

$$15 - 5 = 10$$

$$5 - 5 = 0$$



答： 4碗





4 把做法用算式記下來，並算出答案。

1 分組遊戲時，每9個人1組，27個人可以分成幾組？

$27 - 9 = 18$ 或用乘法算式記錄

$18 - 9 = 9$

$9 - 9 = 0$

答： 3組





4 把做法用算式記下來，並算出答案。

2 1個盒子可以裝6顆雞蛋，媽媽買了30顆雞蛋，可以裝成幾個盒子？

$$30 - 6 = 24 \quad \text{或用乘法算式}$$

$$24 - 6 = 18 \quad \text{記錄}$$

$$18 - 6 = 12$$

$$12 - 6 = 6$$

$$6 - 6 = 0$$

答： 5個





4 把做法用算式記下來，並算出答案。

3 一條繩子長36公分，每6公分剪成1段，可以剪成幾段？

$36 - 6 = 30$ 或用乘法算式記錄

$30 - 6 = 24$

$24 - 6 = 18$

$18 - 6 = 12$

$12 - 6 = 6$

$6 - 6 = 0$

答： 6段





若有寫錯的，
請更改，
思考後，
再計算一次喔！





下課了!!!

