



搭配頁數 P.115

2 先圈圈看，再填填看。

3 丹丹從2月27日開始，
連續上了5天的陶藝
課，最後一天是幾月
幾日？



2月 _廿						
日	一	二	三	四	五	六
	1	2	3	4	5	6
7	8	9	10	11	12	13
14	15	16	17	18	19	20
21	22	23	24	25	26	27
28						

3月 _廿						
日	一	二	三	四	五	六
	1	2	3	4	5	6
7	8	9	10	11	12	13
14	15	16	17	18	19	20
21	22	23	24	25	26	27
28	29	30	31			

答： 3 月 3 日





搭配頁數 P.115

2 先圈圈看，再填填看。

4 超市舉辦一個星期的特賣會，在8月1日結束。特賣會是在幾月幾日開始？

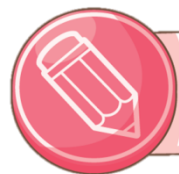
7月						
日	一	二	三	四	五	六
				1	2	3
4	5	6	7	8	9	10
11	12	13	14	15	16	17
18	19	20	21	22	23	24
25	26	27	28	29	30	31

8月						
日	一	二	三	四	五	六
1	2	3	4	5	6	7
8	9	10	11	12	13	14
15	16	17	18	19	20	21
22	23	24	25	26	27	28
29	30	31				

從8月1日開始往前數……

答： 7 月 26 日





搭配頁數 P.116

1 看月曆回答問題。

1 10月有 **31** 天，

也可以說是

4

個星期又

3

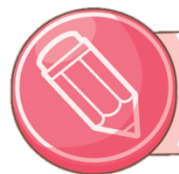
2 10月4日到10月17日，一共有

14

天，是 **2** 個星期。

10月						
日	一	二	三	四	五	六
					1	2
3	4	5	6	7	8	9
10	11	12	13	14	15	16
17	18	19	20	21	22	23
24	25	26	27	28	29	30
31						





搭配頁數 P.116

2 圈一圈，數數看。

1 熊爸在8月6日到8月10日帶家人到澎湖旅遊，一共玩了 天。

8月						
日	一	二	三	四	五	六
1	2	3	4	5	6	7
8	9	10	11	12	13	14
15	16	17	18	19	20	21
22	23	24	25	26	27	28
29	30	31				





搭配頁數 P.116

2 圈一圈，數數看。

2 文具特賣會從8月28日開始舉

辦10天，最後一天是

月

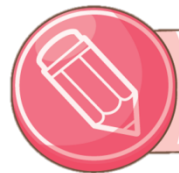
9

6

日	一	二	三	四	五	六
1	2	3	4	5	6	7
8	9	10	11	12	13	14
15	16	17	18	19	20	21
22	23	24	25	26	27	28
29	30	31				

日	一	二	三	四	五	六
			1	2	3	4
5	6	7	8	9	10	11
12	13	14	15	16	17	18
19	20	21	22	23	24	25
26	27	28	29	30		





類題練習

拿出年曆數數看、填填看。

(1) 從3月1日到3月8日，一共是()天。

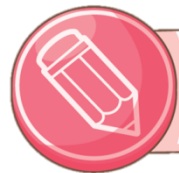
(2) 從4月5日到4月10日，一共是()天。

(3) 從6月20日到6月30日，一共是()天。

(4) 從7月30日到8月3日，一共是()天。

(5) 從9月30日到10月3日，一共是()天。





練習園地



拿出年曆數數看看、填填看看。

(1) 從1月30日到2月()日，一共是6天。

(2) 從3月28日到4月()日，一共是5天。

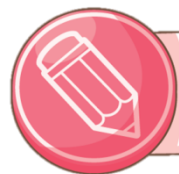
(3) 從4月20日到()月()日，一共是14天。

(4) 從6月()日到7月5日，一共是8天。

(5) 從()月()日到10月4日，一共是7天。

(6) 從()月()日到11月8日，一共是10天。





練習園地



每一年的哪一個日期先到來？依照順序填入1、2、3、4、5、6。



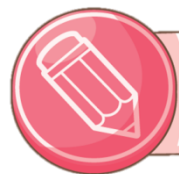










練習園地



查一查，再回答問題。

(2) 一年中，都是31天的月份，在□裡打○。

1月

2月

3月

4月

5月

6月

7月

8月

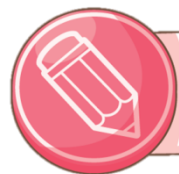
9月

10月

11月

12月





練習園地

翰林出版



下課了

